

3. SINIFA HAZIRLIK – MATEMATİK

Gün, Hafta, Ay, Mevsimler ve Zaman Ölçme Problemleri

★ 7 günden oluşan zaman dilimine "1" denir.

GÜNLER
Pazartesi
Salı
Çarşamba
Perşembe
Cuma
Cumartesi
Pazar

⇒ Aşağıda ardışık günler şeklinde verilen bilgilerin eksik kısımlarını doldurunuz.

Perşembe		Cumartesi
Salı		
	Pazar	

★ 1 yıl aydır.

AYLAR	
Ocak	Temmuz
Şubat	Ağustos
Mart	Eylül
Nisan	Ekim
Mayıs	Kasım
Haziran	Aralık

⇒ Aşağıda ardışık aylar şeklinde verilen bilgilerin eksik kısımlarını doldurunuz.

Mart		
	Ekim	
		Ağustos
	Ocak	
Temmuz		

⇒ Aşağıda verilen ayların kaç gün olduklarını karşılarına yazınız.

Ocak		Temmuz	
Şubat		Ağustos	
Mart		Eylül	
Nisan		Ekim	
Mayıs		Kasım	
Haziran		Aralık	

★ 1 yıl mevsimdir.

MEVSİMLER
Kış
İlkbahar
Yaz
Sonbahar

➔ Aşağıdaki tablolarda mevsim isimleri verilmiştir. Verilen mevsimlerde hangi ayların olduğunu altlarına yazınız.

KIŞ	İLKBAHAR

YAZ	SONBAHAR

1.) Saat 07.00'da hareket eden araç saat 10.00'da durmuştur. Araç kaç saat hareket etmiştir?


- a) 2 b) 3 c) 4

2.) Ali saat 09.00'da evden parka gitmiştir. Ali eve saat 11.00'de gelmiştir. Ali parkta kaç saat oynamıştır?

- a) 2 b) 3 c) 4


3.) Derya saat 08.30'da otobüse binmiştir ve saat 12.00'de otobüsten inmiştir. Buna göre yolculuk kaç saat sürmüştür?

- a) 2 saat b) 2 buçuk saat
c) 3 buçuk saat




4.) Yandaki saatin okunuşu aşağıdakilerden hangisinde doğru olarak verilmiştir?

- a) 5'i çeyrek geçiyor.
b) 5'e çeyrek var.
c) 6'ya çeyrek var.



5.) Yandaki saatin okunuşu aşağıdakilerden hangisinde doğru olarak verilmiştir?

- a) 1'i çeyrek geçiyor.
b) 1'e çeyrek var.
c) 2'ye çeyrek var.



6.) Yandaki saat öğleden sonra aşağıdaki hangi dijital saati gösterir?

- a) 09.30 b) 21.30 c) 22.30

7.) Hangi ay 4 yılda 1 yıl, 29 gün çeker?

- a) Mart b) Nisan c) Şubat