

# 3. SINIFA HAZIRLIK — MATEMATİK

## Paralarımız

★ Para birimimiz .....'dır.

★ Para birimi sembolümüz .....

★ Madeni paralarımız 6 tanedir.

### Madeni Paralarımız



### Kağıt Paralarımız























⇒ 2 tane 50 Kuruş ..... eder.

⇒ 2 tane 25 Kuruş ..... eder.

⇒ 4 tane 25 Kuruş ..... eder.

⇒ 10 tane 10 Kuruş ..... eder.

⇒ Aşağıdaki tabloda verilen paraların toplam miktarlarını yanlarına yazınız.

1.) Ayca'nın 85 lirası vardır. Ayca 26 liraya defter, 30 liraya kitap almıştır. Buna göre Ayca'nın kaç lirası kalmıştır?

- a) 29 TL    b) 40 TL    c) 41 TL



2.) Yukarıdaki paraların toplam miktarı aşağıdakilerden hangisinde doğru olarak verilmiştir?

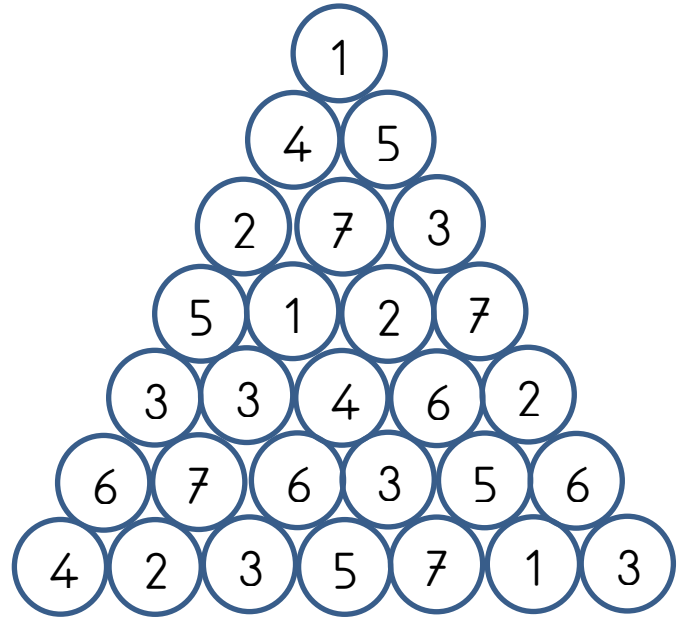
- a) 60 TL    b) 61 TL    c) 62 TL



3.) Hasan'ın bütün parası yukarıda verilmiştir. Ece'nin parası, Hasan'ın parasından 14 lira fazladır. Cem'in parası, Hasan'ın parasından 11 lira eksiktir. Buna göre Ece'nin ve Cem'in toplam kaç lirası vardır?



4.) Yukarıdaki paranın toplam miktarı Elif, Canan ve Veli isimli kardeşler arasında paylaştırılacaktır. Elife 19 lira verilmiştir. Kalan paralar Canan ve Veli'ye eşit olarak dağıtılmıştır. Buna göre Veli kaç lira almıştır?



.	.	.	.	C
A	.	.	.	.
B	.	D	A	.
.	.	.	D	.
.	B	C	.	.