

### 3. SINIFA HAZIRLIK — MATEMATİK

#### Veri, Tablo ve Grafikler

★ Bahçemizi düzenledik. Sonra da bahçemize 4 elma, 5 armut, 7 kiraz ağacı diktik.

⇒ Yukarıdaki bilgilere göre verileri yazalım.

#### Veriler

- ..... elma ağacı
- ..... armut ağacı
- ..... kiraz ağacı

⇒ Yukarıdaki bilgilere göre sıklık tablosunu çizelim.

#### Bahçemizdeki Ağaç Sayısı Tablosu

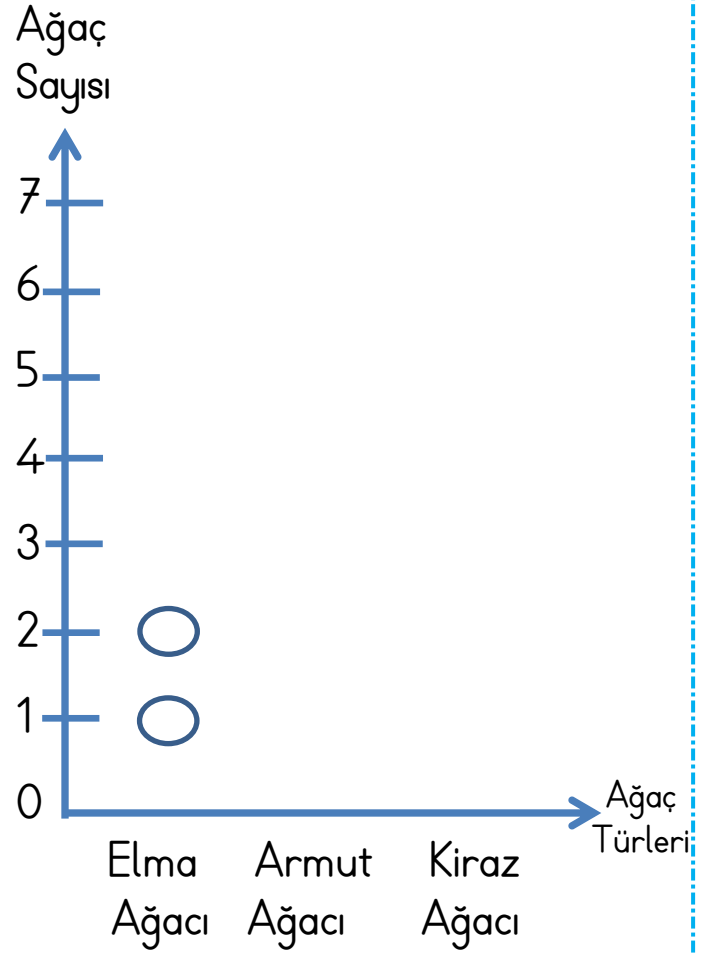
Ağaç Türleri	Sayı

⇒ Yukarıdaki bilgilere göre çetele tablosunu çizelim.

#### Bahçemizdeki Ağaç Sayısı Tablosu

Ağaç Türleri	Çetele

Yanda verilen bilgilere göre aşağıdaki şekil tablosunu tamamlayınız.



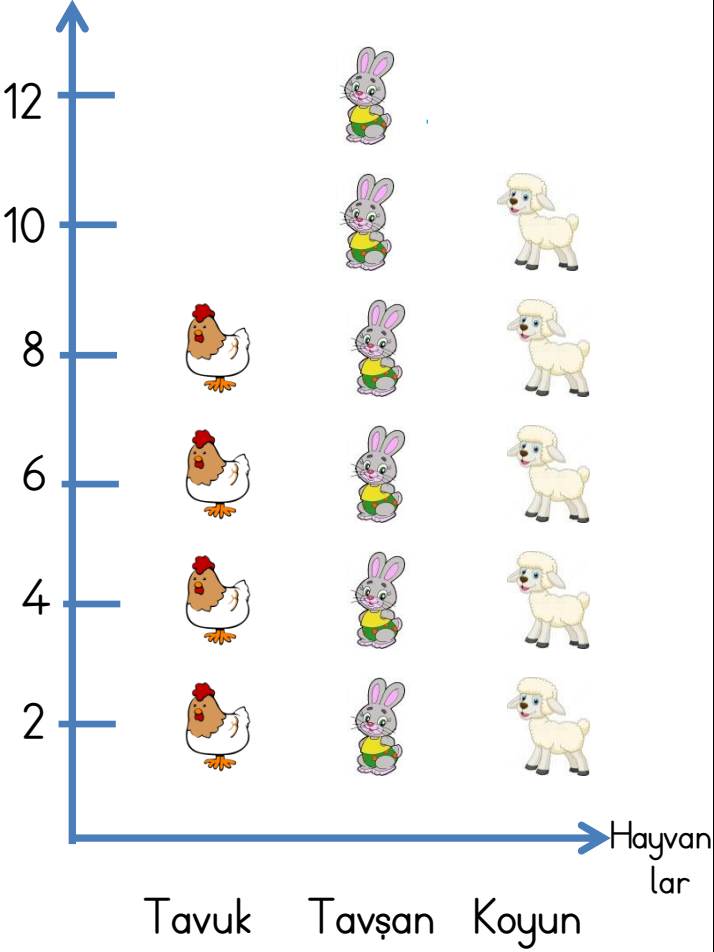
Not: Her ○ şekli 1 ağacı göstermektedir.

2			1
	3		
1			3

★ Bir çiftlikte tavuklar, tavşanlar ve koyunlar vardır.

Yukarıdaki bilgilere göre aşağıya nesne tablosu çizilmiştir. Bu tabloya göre aşağıdaki soruları yanıtlayınız.

Hayvan  
Sayısı







Not: Her nesne 2 hayvanı göstermektedir.

Tavuk Sayısı:

Tavşan Sayısı:

Koyun Sayısı:

### Çiftlikteki Hayvanlar Tablosu

Hayvanlar	Nesneler
At	
İnek	
Tavuk	
Tavşan	

Not: Her nesne 3 hayvanı göstermektedir.

Yukarıdaki nesne tablosuna göre aşağıdaki soruları yanıtlayınız.

- Tavuk Sayısı:
- İnek Sayısı:
- At Sayısı:
- Tavşan Sayısı:
- En fazla bulunan hayvan:
- En az bulunan hayvan:
- Tavuk ve tavşanların farkı kaçtır?
- At ve ineklerin toplamı kaçtır?
- Çiftlikte toplam kaç hayvan bulunmaktadır?