


# 3. SINIFA HAZIRLIK – MATEMATİK

## Uzunluk Ölçme ve Tartma

### ★ Standart Olmayan Uzunluk Ölçü Birimleri

Aşağıda verilen standart olmayan uzunluk ölçü birimleri görsellerini isimleri ile eşleştiriniz.



Kulaç

Adım

Ayak

Parmak

Karış

### ★ Standart Olan Uzunluk Ölçü Birimleri

Aşağıda verilen standart uzunluk ölçü birimleri görsellerini isimleri ile eşleştiriniz.



Şerit Metre

Tahta Metre

Mezura

Kırık Metre

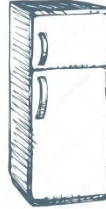
1	2		
		1	
3			4

⇒ Uzunluk ölçü birimi .....'dir.

⇒ Metre kısaca ..... ile gösterilir.

⇒ 1 metre ..... santimetredir.

⇒ Aşağıda verilenleri metre veya santimetre ile ölçmek istiyoruz. Görselleri uygun uzunluk ölçme birimleriyle eşleştiriniz.



Metre



Santimetre








★ Kütle ölçü birimi .....'dır.

★ Kilogram kısaca ..... ile gösterilir.

➔ Aşağıda verilen kütle miktarlarını büyükten küçüğe sıralayınız.

45 kg      63 kg      34 kg

Ece	Süha	Berat	Özge	İsa
				
34	29	33	27	32
kg	kg	kg	kg	kg

➔ Yukarıdaki görselde verilen bilgilere göre aşağıdaki soruları yanıtlayınız.

- En fazla kütleye sahip kişi:
- En az kütleye sahip kişi:
- Ece ve Süha toplam kaç kilogramdır?
- Berat ve Özge'nin kütleleri farkı kaç kilogramdır?
- Süha, Özge ve İsa toplam kaç kilogramdır?

1.) 32 metre kumaşın önce 14 metresini kullandık. Daha sonra 5 metre kullandık. Kaç metre kumaşımız kalmıştır?

- a) 13 kg      b) 14 m      c) 13 m

2.) Elif 24 kilogramdır. Canan, Eliften 16 kilogram daha ağırdır. Buna göre ikisi toplam kaç kilogramdır?

- a) 40      b) 60      c) 64

3.) Odamızdaki halının boyunu aşağıdaki ölçme birimlerinden hangisiyle ölçmek daha uygundur?

- a) Santimetre  
b) Metre  
c) Kilogram

4.) Oyuncaklarımızın toplam kütlesini öğrenmek istiyorsak hangi aşağıdaki hangi ölçme birimini kullanmalıyız?

- a) Santimetre  
b) Metre  
c) Kilogram

5.) 1 metre kaç santimetredir?

- a) 1      b) 10      c) 100