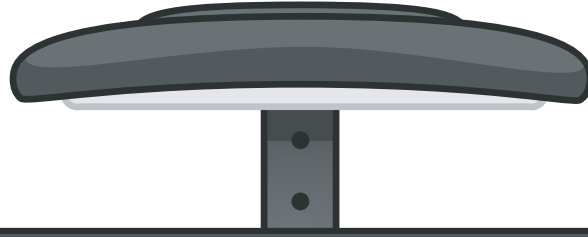


TURUNCU SINIF

İLKOKUL ETKİNLİKLERİ



3.SINIF EKİM AYI DENEME SINAVI


TÜRKÇE-15 SORU




MATEMATİK-15 SORU

FEN BİLİMLERİ-10 SORU

HAYAT BİLGİSİ-10 SORU

İNGİLİZCE-5 SORU



| | | | |
|------|---|---|---|
| |  |  |  |
| Özge | | | |
| Ali | | | |
| Okan | | | |

- ☐ Her çocuk bir tane müzik aleti çalabilmektedir.
- ☐ Ali'nin çalabildiği müzik aleti gitardır.
- ☐ Okan'ın çaldığı müzik aleti piyano değildir.

1. Yukarıdaki bilgilere göre aşağıdakilerden hangisi yanlıştır ?
- A. Özge'nin çaldığı müzik aleti piyanodur.
- B. Okan'ın çaldığı müzik aleti davuldur.
- C. Ali piyano çalabilir.

| | | |
|-------|------------|-------------|
| bugün | geldiğinde | mutsuz |
| okula | Neşe | görünüyordu |

2. Yukarıdaki kelimelerden anlamlı ve kurallı bir cümle oluşturulduğunda aşağıdakilerden hangisi olur ?
- A. Neşe bugün okula geldiğinde mutsuz görünüyordu.
- B. Mutsuz görünüyordu Neşe bugün okula geldiğinde.
- C. Okula bugün geldiğinde mutsuz görünüyordu Neşe.



Kitap okumanın birçok faydası vardır. İlk olarak, kitaplar insanların bilgi birikimini artırır ve düşünme becerilerini geliştirir. Çünkü farklı konuları keşfetmek ve karmaşık hikayeleri anlamak zihinsel kapasiteyi genişletir.

3. ve 4. soruları metne göre cevaplayalım.

3. Yukarıdaki metnin konusu nedir ?

- A. Metnin konusu kitap yazmak için bir insanda hangi özelliklerin bulunması gerektiridir.
- B. Metnin konusu kitap okumanın önemidir.
- C. Metnin konusu kişisel gelişimdir.

4. Metne göre aşağıdaki sorulardan hangisine cevap verilemez?

- A. Bir insan niçin kitap okumalıdır ?
- B. İnsanların düşünme becerisini geliştiren etkinlik nedir ?
- C. Kitap nerede okunmalıdır ?

Güneş

Gazete

Terazi

Aslan

5. Yukarıdaki kelimeler alfabetik sıraya göre dizilirse ikinci sıraya hangi kelime yazılır ?

A. Gazete

B. Terazi

C. Güneş

Farklı

Şişman

Temiz

6. Yukarıdaki kelimelerin zıt anlamlıları karşlarına yazılacaktır. Kutucukların doğru doldurulmuş hali aşağıdakilerden hangisidir?

A. Aynı

B. Aynı

Zayıf

Kilolu

Kirli

Pak

C.

Aynı

Uzun

Kısa

7. Aşağıdaki cümlelerden hangisinde yazım yanlış yoktur ?

A. Kitabın sahibinin büşra olduğunu bilmiyordum.

B. En büyük kardeşi Abisiymiş.

C. Neden dün gelmedin ?

Bizim için çok güzel bir hatıra oldu.

8. Yukarıdaki cümledeki altı çizili sözcüğün eş anlamlısı hangi cümlede vardır?

A. Eşek öyle bir anırdı ki ödüm koptu.

B. Mardin gezisi hiç unutmayacağım bir anı oldu.

C. Şifreyi bir türlü hatırlayamadım.

9. Aşağıdaki cümlelerin hangisinde bir noktalama işareti hatası yapılmıştır ?

A. Ben seni hatırlamadım ?

B. Acaba kargo ne zaman gelir ?

C. Konserde çok eğlendik.



A



B



C



D

10. Yukarıdaki resimlerde Ali'nin uyanmasından okula gitmesine kadar yaptıkları gösterilmiştir. Resimler anlamlı bir sıraya konulduğunda sıralama nasıl olur ?

A. A-B-D-C

B. D-C-A-B

C. D-B-A-C



Oyun hamurundan eşek yaptım,
Yetmedi sana olan sevgimi resimle anlattım,
Sanki anlayacakmışın gibi mektup yazdım,
Seni çok seviyorum Kadife.

11 ve 12. soruları yukarıdaki şiire göre cevaplayalım.

11. Yukarıdaki şiirin başlığı aşağıdakilerden hangisi olabilir ?

A. Kış Özledim B. Arkadaşım Kadife

C. Küçük Kardeşim

12. Yukarıdaki şiirin ana duygusu aşağıdakilerden hangisidir ?

A. Hayvan sevgisi B. Ağaç sevgisi

C. Okul heyecanı

Bizim için yarın İstanbul'dan gelmişler.

13. Yukarıdaki cümlemin anlamlı ve kurallı bir cümle olması için hangi kelime çıkarılmalıdır ?

A. Bizim B. gelmişler C. yarın

Pilan

Tren

öretmen

Tembel

14. Yukarıdaki kelimelerin kaç tanesi yanlış yazılmıştır ?

A. 4

B. 2

C. 1

Babam kırtasiyeden boya kalemi ● kurşun kalem ve silgi alacaktı★Yoksa silgiyi unuttu mu ◆

15. Yukarıdaki cümlelerdeki şekillerin yerine aşağıdakilerden hangi noktalama işaretleri gelmelidir ?



A. ● ? ,

B. , ● ?

C. ? , ●

$$27 + 4 = 4 + \triangle$$

$$57 + 12 + 1 = 12 + 57 + \bullet$$

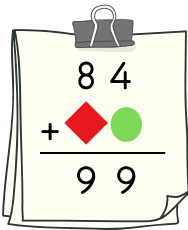
1. Yukarıdaki toplama işlemlerine göre $\triangle + \bullet$ işleminin sonucu kaçtır ?

A. 28 B. 27 C. 1



2. Yusuf kumbarasında birinci yıl 476 TL, ikinci yıl 142 TL biriktirmiştir. Yusuf'un toplam kaç TL parası olmuştur ?

A. 681 B. 518
C. 618



3. Yukarıdaki işleme göre $\bullet + \blacklozenge$ işleminin sonucu kaçtır ?

A. 5 B. 6
C. 1

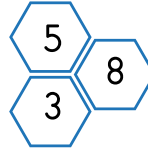
Birler Basamağı \longrightarrow 8

Onlar Basamağı \longrightarrow 3

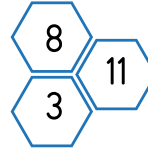
Yüzler Basamağı \longrightarrow 9

4. Yukarıda bilgileri verilen sayı aşağıdakilerden hangisidir ?

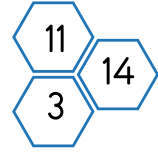
A. 839 B. 398
C. 938



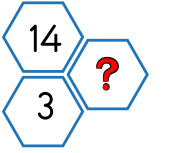
1.adım



2.adım



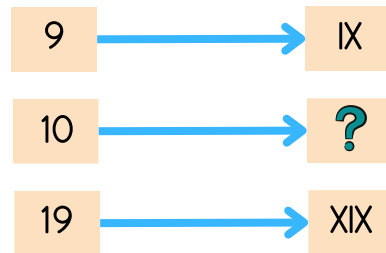
3. adım



4.adım

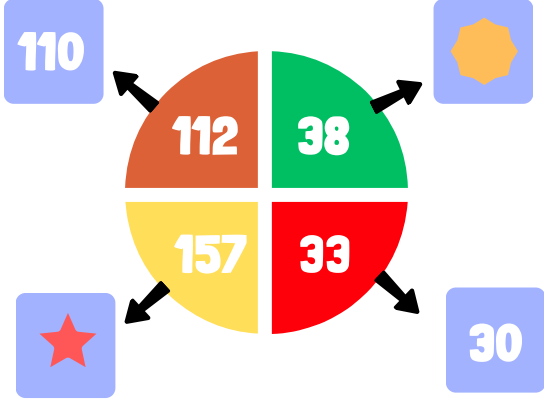
5. Yukarıdaki örüntüde ? yerine hangi sayı yazılmalıdır ?

A. 17 B. 18
C. 10



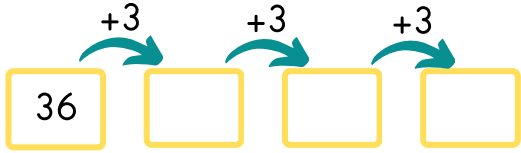
6. Yukarıda sayıların romen rakamlarıyla yazılışları verilmiştir. Buna göre ? yerine aşağıdakilerden hangisi gelmelidir ?

A. XV B. VIII C. X



7. Yukarıda daire dilimlerindeki sayılar en yakın onluklara yuvarlanmıştır. Buna göre ★ + ☀ kaçtır ?

- A. 210 B. 200 C. 190

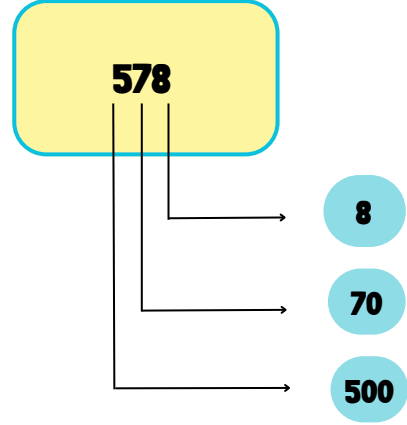


8. 36'dan başlayarak (36 dahil) ileriye üçer ritmik sayıldığında dördüncü sayı kaç olur ?

- A. 45 B. 42 C. 48

9. İki basamaklı en büyük çift sayı kaçtır ?



- A. 91 B. 99 C. 98





10. Yukarıdaki örnekte 578 sayısının basamak değerleri gösterilmiştir. Buna göre 659 sayısının yüzler basamağının basamak değeri nedir ?

- A. 600 B. 9 C. 50



11. Yukarıdaki verilen ifadede  ve  yerine gelebilecek sayılar hangi seçenekte doğru verilmiştir ?

| | |
|---|---|
|  |  |
| A. 68 | 41 |
| B. 87 | 89 |
| C. 52 | 56 |

En yakın yüzlüğe yuvarlama yapılırken onlar basamağı 5'ten küçük olanlar bir önceki yüzlüğe, 5 ve 5'ten büyük olanlar bir sonraki yüzlüğe yuvarlanır.

12. Buna göre en yakın yüzlüğü 500 olan en küçük sayı kaçtır ?

A.450 B.418 C.357

2 5 7

13. Yukarıdaki sayılarla oluşturulabilecek en büyük sayı nedir ?

A.752 B.257 C.527

| | | |
|----|----|----|
| 9 | 11 | 13 |
| 15 | 17 | ? |
| 21 | 23 | 25 |

14. Yukarıdaki ifadedeki soru işareti yerine yazılması gereken sayı aşağıdakilerden hangisidir ?

A.18 B.19 C.20

54 > 42 > 67 > 12

15. Yukarıdaki verilen sıralamada bir sayıda hata yapılmıştır. Hatalı olan sayı aşağıdakilerden hangisidir ?

A.54 B.12 C.67



İpek



Ela



Koray

1. Yukarıdaki çocuklardan hangileri ilgi alanlarından bahsetmiştir ?

A. Ela

B. Koray

C. Koray ve İpek

2. İyi bir arkadaşta aşağıdaki özelliklerden hangisi bulunmaz ?

A. Dürüst olmak

B. Yardımseverlik

C. Yalan söylemek



1



2




3

3. Yukarıdaki resimlerin hangisinde arkadaşlık ilişkilerine zarar veren bir davranış vardır ?

A. 1

B. 3

C. 2



➤ Okul eczanenin karşısında değildir.

➤ Market okulun yanındadır.

4. Yukarıdaki resimde yer alan krokiyle ilgili bilgiler verilmiştir. Buna göre aşağıdakilerden hangisi doğrudur ?

A. Ev marketin yanındadır.

B. Okul evin karşısındadır.


C. Eczane okulun karşısındadır.

5. Krokilerle ilgili aşağıda verilen bilgilerden hangisi yanlıştır ?

A. Krokiler bir yerdeki acil çıkışları bulmamıza yardımcı olur.

B. Caddelerin, sokakların krokisini çizebileceğimiz gibi sınıfımızın da krokisini çizebiliriz.

C. Krokiler bir yeri tarif ederken işimize yaramaz.



6. Yukarıdaki resimlerden kaç tanesi olumsuz davranışlara örnek olarak gösterilebilir ?

A. 1

B. 3

C. 2



7. Ayşe voleybol oynamayı çok seven ve bu konuda başarılı olan bir kızıdır. Ayşe, okulda hangi kulübe katılırsa onun için daha iyi olabilir?

A. Spor Kulübü

B. Müzik Kulübü

C. Halk Oyunları Kulübü

8. Aşağıdakilerden hangisi yetenekle ilgilidir ?

A. Hakan uzun boyludur.

B. Okan masa tenisinde çok başarılıdır.

C. Ece müzik dinlemeyi çok sever.

Fedakarlık

Yalancılık

Dürüstlük

Saygılı olma

9. Yukarıdaki özelliklerden kaç tanesi iyi bir arkadaşta olması gereken özelliklerdendir ?

A. 3

B. 4

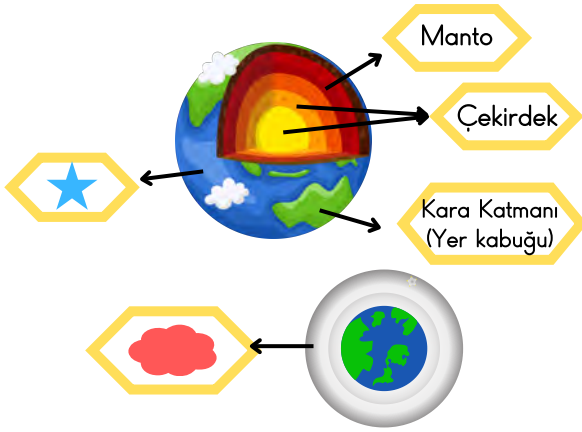
C. 2

10. Davranışlarımızla ilgili aşağıdakilerden hangisi yanlıştır ?

A. Kendi davranışlarımız arkadaşlarımızı etkileyebilir.

B. Arkadaşlarımızın davranışları bizi etkilemez.

C. Arkadaşımızın olumlu davranışı bizi de olumlu etkiler.



1. Dünyamızın katmanlarından ★ ve ☁ ile gösterilen yerlere ne yazılmalıdır ?



- | | |
|-----------------|--------------|
| A. Hava Katmanı | Su Katmanı |
| B. Su Katmanı | Hava Katmanı |
| C. Yer Kabuğu | Hava Katmanı |

2. Dünyamızın katmanlarıyla ilgili aşağıdakilerden hangisi yanlıştır ?

- A. Yer kabuğu en içte yer alan katmandır.
- B. Çekirdek Dünya'nın merkezinde yer almaktadır.
- C. Okyanuslar, denizler, ırmaklar su katmanında bulunur.

3. Dünyamızın gözlenebilir katmanları aşağıdaki seçeneklerin hangisinde doğru verilmiştir ?

- A. Kara katmanı, çekirdek, manto
- B. Manto, hava katmanı, su katmanı
- C. Kara katmanı, Hava Katmanı, Su Katmanı



4. Dünyanın çekirdeğiyle ilgili verilen bilgilerden hangisi yanlıştır ?

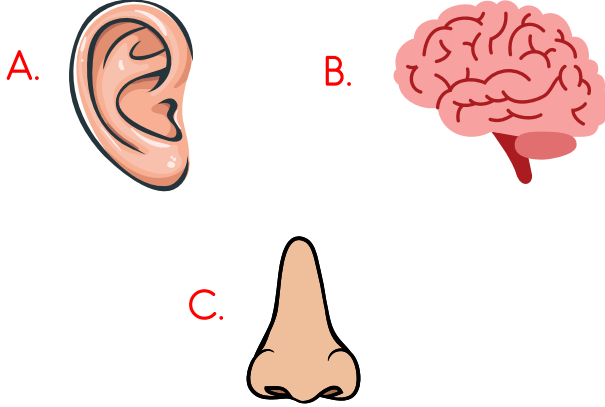
- A. Gözlenebilen katmanlardan biridir.
- B. Dünya'nın merkezinde bulunur.
- C. İç ve dış olarak iki bölümü vardır.



5. Gökhan ve Emir Dünyamızın hangi katmanı ile ilgili bilgiler vermiştir ?

- A. Çekirdek B. Manto C. Yer kabuğu

6. Aşağıdakilerden hangisi bir duyu organı değildir ?




- Yemeklerin tadını algılamamızı sağlayan duyu organımızdır.
- Dokunarak hissetmemizi sağlayan duyu organımızdır.
- Kokuları fark etmemizi sağlayan duyu organımızdır.

7. Yukarıda hangi duyu organıyla ilgili açıklama ya yer verilmemiştir ?

- A. Dil B. Deri
- C. Göz

8. Duyu organlarımızın sağlığıyla ilgili aşağıdaki seçeneklerden hangisi yanlıştır ?

- A. Yazın güneş kremi kullanmak derimize zarar verir.
- B. Çok yüksek sesle müzik dinlemek kulak sağlığına zarar verir.
- C. Televizyon, bilgisayar ve cep telefonu gibi cihazların ekranına uzun süre bakmak göz sağlığını zarar verir.



9. Yukarıdaki durumlarda aşağıdaki duyu organlarından hangisi zarar görmez?

- A. Kulak B. Göz C. Dil

1. Kırık cam parçalarına dokunmak tehlikelidir.
2. Bilmediğimiz maddeleri koklamak tehlikeli değildir.
3. Çok gürültülü bir ortamda uzun süre kalınması kulak sağlığını etkilemez.

10. Yukarıdaki bilgilerden hangileri yanlıştır?

- A. 1 ve 2 B. 2 ve 3
- C. 1 ve 3




1. Yukarıdaki görsel için en uygun ifade aşağıdakilerden hangisidir?

- A. Good morning B. Good bye
C. Good night



2. Yukarıdaki görsel için en uygun ifade aşağıdakilerden hangisidir?

- A. Good morning B. Good afternoon
C. Good night




3. Sepette kaç tane elma vardır ?

- A. Four B. Five C. Seven

5 10 14

4. Resimlerde yer almayan sayı hangisidir ?

- A. Ten B. Fourteen C. Nine



Ece

İsa

5. Yukarıdaki görsele göre Ece öğretmen İsa'ya ne sormuştur ?

- A. What is your name ?
B. How are you ?
C. How old are you ?

CEVAP ANAHTARI

| TÜRKÇE | | | |
|--------|---|---|---|
| 1 | A | B | C |
| 2 | A | B | C |
| 3 | A | B | C |
| 4 | A | B | C |
| 5 | A | B | C |
| 6 | A | B | C |
| 7 | A | B | C |
| 8 | A | B | C |
| 9 | A | B | C |
| 10 | A | B | C |
| 11 | A | B | C |
| 12 | A | B | C |
| 13 | A | B | C |
| 14 | A | B | C |
| 15 | A | B | C |

| MATEMATİK | | | |
|-----------|---|---|---|
| 1 | A | B | C |
| 2 | A | B | C |
| 3 | A | B | C |
| 4 | A | B | C |
| 5 | A | B | C |
| 6 | A | B | C |
| 7 | A | B | C |
| 8 | A | B | C |
| 9 | A | B | C |
| 10 | A | B | C |
| 11 | A | B | C |
| 12 | A | B | C |
| 13 | A | B | C |
| 14 | A | B | C |
| 15 | A | B | C |

| HAYAT BİLGİSİ | | | |
|---------------|---|---|---|
| 1 | A | B | C |
| 2 | A | B | C |
| 3 | A | B | C |
| 4 | A | B | C |
| 5 | A | B | C |
| 6 | A | B | C |
| 7 | A | B | C |
| 8 | A | B | C |
| 9 | A | B | C |
| 10 | A | B | C |

| FEN BİLİMLERİ | | | |
|---------------|---|---|---|
| 1 | A | B | C |
| 2 | A | B | C |
| 3 | A | B | C |
| 4 | A | B | C |
| 5 | A | B | C |
| 6 | A | B | C |
| 7 | A | B | C |
| 8 | A | B | C |
| 9 | A | B | C |
| 10 | A | B | C |

| İNGİLİZCE | | | |
|-----------|---|---|---|
| 1 | A | B | C |
| 2 | A | B | C |
| 3 | A | B | C |
| 4 | A | B | C |
| 5 | A | B | C |

OPTİK FORM

| TÜRKÇE | | | |
|--------|---|---|---|
| 1 | A | B | C |
| 2 | A | B | C |
| 3 | A | B | C |
| 4 | A | B | C |
| 5 | A | B | C |
| 6 | A | B | C |
| 7 | A | B | C |
| 8 | A | B | C |
| 9 | A | B | C |
| 10 | A | B | C |
| 11 | A | B | C |
| 12 | A | B | C |
| 13 | A | B | C |
| 14 | A | B | C |
| 15 | A | B | C |

| MATEMATİK | | | |
|-----------|---|---|---|
| 1 | A | B | C |
| 2 | A | B | C |
| 3 | A | B | C |
| 4 | A | B | C |
| 5 | A | B | C |
| 6 | A | B | C |
| 7 | A | B | C |
| 8 | A | B | C |
| 9 | A | B | C |
| 10 | A | B | C |
| 11 | A | B | C |
| 12 | A | B | C |
| 13 | A | B | C |
| 14 | A | B | C |
| 15 | A | B | C |

| HAYAT BİLGİSİ | | | |
|---------------|---|---|---|
| 1 | A | B | C |
| 2 | A | B | C |
| 3 | A | B | C |
| 4 | A | B | C |
| 5 | A | B | C |
| 6 | A | B | C |
| 7 | A | B | C |
| 8 | A | B | C |
| 9 | A | B | C |
| 10 | A | B | C |

| İNGİLİZCE | | | |
|-----------|---|---|---|
| 1 | A | B | C |
| 2 | A | B | C |
| 3 | A | B | C |
| 4 | A | B | C |
| 5 | A | B | C |

Adı:

Soyadı:

Sınıfı: