

ADI SOYADI:



TÜRKÇE

Atatürk, kitap okumayı çok seven bir liderdi. Onun, okul çağlarında başlayan kitap okuma alışkanlığı, savaş zamanında bile devam etmişti.

Bir gün Atatürk, tarihle ilgili bir kitap okuyordu. Öylesine dalmıştı ki, çevresini görececek hali yoktu. Bir arkadaşı: -Paşam! Tarihle uğraşıp kafanı yorma. 19 Mayıs'ta kitap okuyarak mı Samsun'a çıktın?

Atatürk, arkadaşının bu içten yakınmasına gülümseyerek cevap verdi: -Ben çocukken fakirdim. İki kuruş elime geçince bir kuruşunu kitaba verirdim. Eğer böyle olmasaydım bu yaptıklarımın hiçbirini yapamazdım...

Atatürk'ün Anıları

(İlk üç soruyu metne göre cevaplandırınız.)

- 1- Atatürk'ün kitap okuma alışkanlığı ne zaman başlamıştı?
- A) Okul çağında B) Çocukluk zamanında C) Savaş zamanında

2- Atatürk nasıl bir kitap okuyordu?

- A) Arkadaşının kitabını okuyordu.
B) Tarihle ilgili bir kitap okuyordu.
C) Kütüphanedeki kitabı okuyordu.

3- Atatürk, yaşamı boyunca yaptığı başarıları en çok neye borçluymuş?

- A) Okulda öğretmenlerini dikkatli dinlemesine.
B) Topladığı harçlıklarla alışveriş yapmasına.
C) Parasının yarısıyla kitap almasına.

ocak	silgi	gül	burun	yat

4-Tabloda bulunan eşsesli (sesteş) kelimeleri işaretlediğimizde tablonun görünüşü nasıl olur?

- A)

	X	X		X
--	---	---	--	---

 B)




X			X	X
---	--	--	---	---

 C)

X		X		X
---	--	---	--	---

ÇİKOLATA

5-Yukarıdaki kelimenin heceleriyle, aşağıdaki görsellerden hangisinin adını yazamayız?

- A)  kola B)  çita C)  kol

Bir iş, bir oluş, bir hareket bildiren kelimelere fiil diyoruz. Bütün fiiller -mak veya -mek ekin-den birini alırlar.

6-Buna göre aşağıdaki kelimelerden hangisi fiildir?

- A) konuş B) kalem C) keman

İSİM	Tekil	çoğul	topluluk
öğretmen			
orman			
çiçekler			
deste			

7-Tablodaki kelimeleri sayısal ifadelerine göre işaretlediğimizde tablonun doğru görünüşü nasıl olur?

- A)

✓		
		✓
	✓	
		✓




 B)

	✓	
✓		
✓		
	✓	

 C)

		✓
✓		
	✓	
✓		

8-Aşağıdaki görsel adlarının hangisinde, sessiz harf sayısı daha fazladır?

- A)  B)  C) 

9-Aşağıdaki cümlelerden hangisinin kelime sayısı daha fazladır?

- A) Yeşil ışık yanınca babam arabayı hızlandırdı.
B) Annem pazar günleri börek yapar.
C) Başarı için planlı ve düzenli çalışmak şart.

10-"Öğretmen" kelimesinin hece sayısı ile aşağıdaki kelimelerden hangisinin hece sayısı farklıdır?

- A) otobüs B) ilkokul C) aslanağzı

Bir duyguyu, bir düşünceyi, bir isteği, bir haberi bildiren kelime veya kelime gruplarına cümle denir.

Yarın Bursa'da hava güneşli olacak.
Sokak hayvanlarını görünce üzülüyorum.
Soruları daha dikkatli okursam iyi olur.
Arkadaşlar beraber futbol oynayalım.

11. Tabloda bulunan cümlelerin bildirdiği yargıları doğru sıralanışı aşağıdakilerden hangisidir?

A) düşünce	B) haber	C) haber
duygu	duygu	düşünce
istek	düşünce	istek
haber	istek	duygu



12- Yukarıdaki öğrencilerin söylediği kelimeler sözlük sırasına konulursa sıralama nasıl olur?

- A) Taha-Ayşe-Güneş-Kübra
B) Ayşe-Kübra-Taha-Güneş
C) Taha-Kübra-Ayşe-Güneş

MATEMATİK

$$\begin{array}{r} 3 \quad \square \quad 9 \\ + \quad \square \quad 3 \quad \square \\ \hline 8 \quad 4 \quad 2 \end{array}$$

1-Yandaki toplama işleminde verilmeyen rakamların toplamı kaçtır?

- A) 8 B) 4 C) 10

2-Bir toplama işleminde toplananlardan biri 355 toplam 648 ise verilmeyen toplanan kaçtır?

- A) 366
B) 293
C) 183

3-Yandaki sayı ile ilgili aşağıdaki ifadelerden hangisi **yanlıştır**?

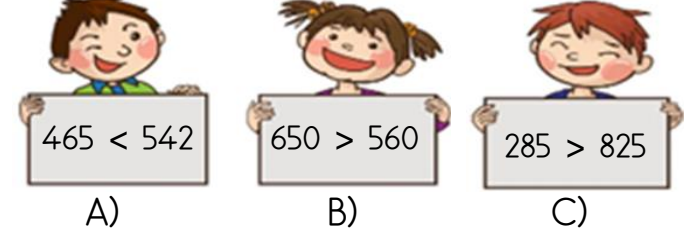
- A) Sayının en yakın onluğa ve yüzlüğe yuvarlanmış sayısı aynıdır.
B) Yüzler basamağında rakamın basamak değeri diğerlerinden daha büyüktür.
C) Rakamların basamak adları aynıdır.

işlem sonucu	tahmini sonuç	fark
$\begin{array}{r} 7 \quad 6 \quad 7 \\ - 5 \quad 4 \quad 4 \\ \hline \end{array}$		

4- Yukarıdaki çıkarma işleminin tahmini sonucu ile işlem sonucu arasındaki fark için hangisi söylenebilir?

- A) Tahmini sonuç işlem sonucundan 7 fazladır.
B) İşlem sonucu tahmini sonuçtan 5 fazladır.
C) Tahmini sonuç işlem sonucundan 7 eksiktir.

5-Aşağıdaki öğrencilerden hangisinin yapmış olduğu karşılaştırma **yanlıştır**?

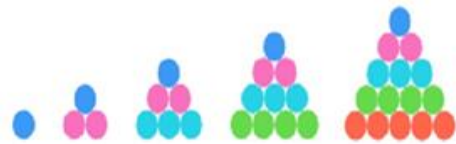


6-Bir otobüs 781 km'lik yolun sabah 367 km'sini, öğleden sonra da 285 km'sini gitti. Otobüsün gideceği kaç km yolu kaldı?

- A) 129
B) 221
C) 185

7-Yanda verilen rakamları birer kez kullanarak yazılabilecek üç basamaklı en büyük çift sayı ile üç basamaklı en küçük tek sayının tahmini farkı kaçtır?

- A) 560
B) 350
C) 650



8-Yukarıdaki örüntünün devamındaki adıma kaç tane daire çizilmelidir?

- A) 17 B) 15 C) 21



Önce 70'ten 30'u çıkardım. Sonra 8'den 7'yi çıkardım. En son, bulduğum sonuçları topladım.

10-Poyraz, öğretmenin sorduğu çıkarma işleminin zihinden anlattığına göre öğretmeni hangi çıkarma işlemini sormuştur?

- A) 87-48 B) 78-37 C) 88-73

.... < 538 < < 556







9-Yukarıdaki sıralamada noktalı yerlere aşağıdaki doğal sayılardan hangisi **yazılamaz**?

- A) 576 B) 525 C) 547

11-Eylül 8 yaşındadır. Ablası Eylül'den 2 yaş büyük olduğuna göre 5 yıl sonra ikisinin yaşları toplamı kaç olur?

- A)28
B)32
C)24

12-Aşağıdaki toplama işlemlerinden hangisinin sonucu tektir?

- A)  + 
- B)  + 
- C)  + 

HAYAT BİLGİSİ

1-Aşağıdakilerden hangisi ev veya okuldaki kaynakları kullanımını doğru ifade etmektedir?

- A) Kışın, ders yaparken pencereleri açık bırakmalıyız.
B) Dişlerimizi fırçalarken, çeşmeyi açık bırakmalıyız.
C) Akşam, ödevlerimizi yaparken lambayı açık bırakmalıyız.

1.

su

2.

elektrik

3.

doğalgaz

2-Yukarıdaki kaynaklardan hangileri tasarruflu kullanılmadığı zaman tükenebilir?

- A) Yalnız 1 B) 2 ve 3 C) 1,2,3.

3-Aşağıdaki mesleklerden hangisi zaman geçtikçe önemini yitirmektedir?

- A) doktorluk B) sobacılık C) öğretmenlik

Dedem, küçükken hangi oyuncakların vardı?

Ben, küçükken yoktu.



4-Yukarıdaki dede ile torunu arasındaki diyaloga göre noktalı yere aşağıdaki kelimelerden hangisi yazılmalıdır?

- A) topaç B) misket C) robot

5-Mesleklerle ilgili aşağıdaki ifadelerden hangisi **yanlıştır**?

- A) Herkes her mesleği yapabilir.
B) İlgi ve yeteneğimize uygun meslek seçmeliyiz.
C) Yaşamımızda her mesleğe ihtiyaç duyarız.

"Kişilerin yaşamını sürdürmek, geçimini sağlamak için yaptığı sürekli iştir."

6-Yukarıda tanımı verilen kelime hangisidir?

- A) uğraş B) hobi C) meslek



Çevremde gördüğüm hayvanlarla beraber olmak, onlara yardımcı olmak çok hoşuma gidiyor.

7-Kübra'nın konuşmasına göre gelecekte hangi mesleği yapmaya ilgi ve yeteneği vardır?

- A) doktor B) veteriner C) avukat

8-Hangisi sosyal dayanışma veya yardımlaşmaya örnek **değildir**?

- A) Sınıfça Sosyal Hizmetler ve Çocuk Esirgeme Kurumunu ziyaret etmek.
B) İhtiyacı olan okullar için kitap toplama kampanyası düzenlemek.
C) Öğretmenler Günü için hediye almak.

FEN BİLİMLERİ

Dünya, sürekli olarak kendi etrafında yön değiştirme hareketi yapar.

Bitkiler sabahdan akşama kadar Güneş'e doğru yön değiştirme hareketi yapar.


Arabalar viraja girdiklerinde yön değiştirme hareketi yapar.

Voleybol oyununda top yön değiştirme hareketi yapar.

1-Yukarıda yön değiştirme hareketiyle ilgili ifadelerden kaç tanesi doğrudur?

- A)4 B)3 C)2

2-Görseldeki hareketleri, itme veya çekme kuvveti olarak değerlendirirsek hangi hareket farklı olur?



- I.Güneş'in doğudan batıya doğru hareket etmesi.
II.Uzaydan Dünya'nın görünüşü
III. Ufuktaki geminin önce direğinin sonra gövdesinin görünmesi

3-Yukarıdaki açıklamalar Dünya'nın hangi özelliğini açıklamaktadır?

- A) Dünya'nın küre şeklinde olduğunu
B) Dünya'nın kendi etrafında döndüğünü
C) Dünya'nın düz bir yer olduğunu

Orman	Dağ
Şehir

4-Tablodaki yerlerin bulunduğu katman dikkate alınırsa aşağıdaki kelimelerden hangisi noktalı yere **yazılamaz**?

- A) bulut B) ova C) bahçe



5-1.ünitede tanışmıştık. Benim uzayda hangi tür hareket yaptığımı söyler misiniz?

- A)sallanma B)dönme C)yön değiştirme

6-Aşağıdakilerden hangisi bir kuvvet çeşididir?

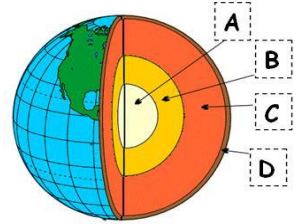
- A) itme B) sallanma C) dönme



7-Deri duyu organıyla ilgili aşağıdaki ifadelerden hangisi **yanlıştır**?

- A) Ter yoluyla zararlı maddeleri atar.
B) Vücudumuzdaki en küçük duyu organıdır.
C) Dokunma yoluyla varlıkları algılarız.

8-Yukarıdaki Dünya' nın yapısını gösteren şekilde A - B - C - D harfleri ile gösterilen yerlere hangi ifadeler gelmesi gerekir?



A-İç Çekirdek
B-Dış çekirdek
C-Manto
D-Yer kabuğu

A)

A-Çekirdek
B-Manto
C-Yer kabuğu
D-Su katmanı

B)

A-İç çekirdek
B-Manto
C-Yer kabuğu
D-Taş küre

C)

Başarılar...