



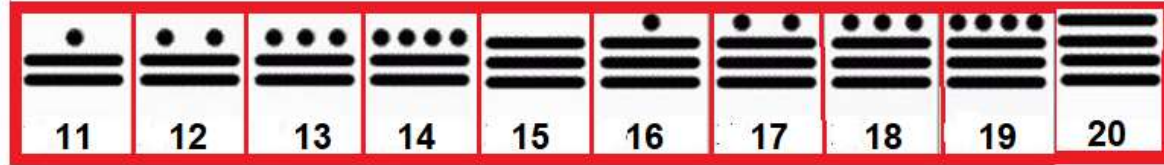
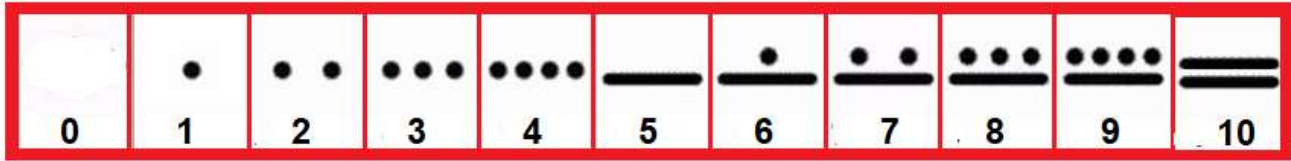
RAKAMLAR:



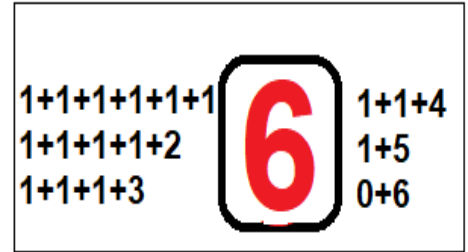

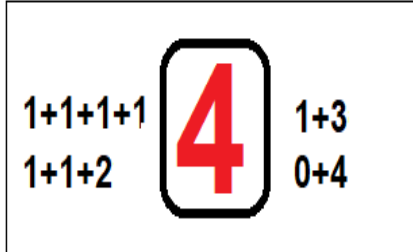
20'YE KADAR OLAN DOĞAL SAYILAR:

• = 1

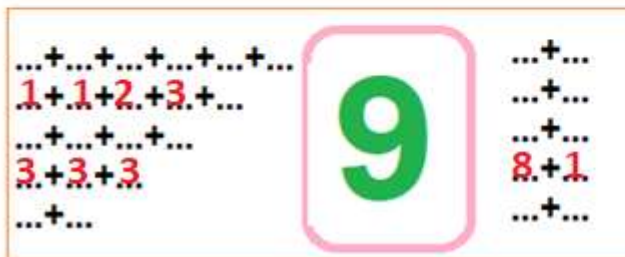
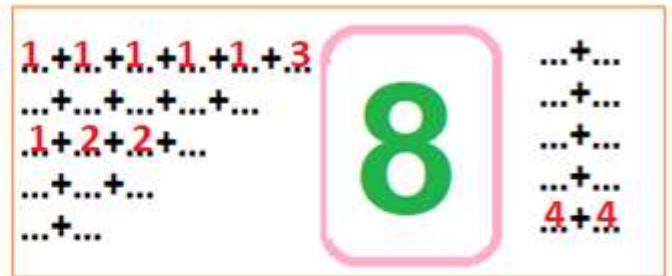
— = 5



SAYILARI FARKLI BİÇİMDE TOPLAYARAK AYNI SAYIYI ELDE EDBİLİRİZ



Aşağıdaki sayıları da sizler toplama yoluyla elde ediniz.

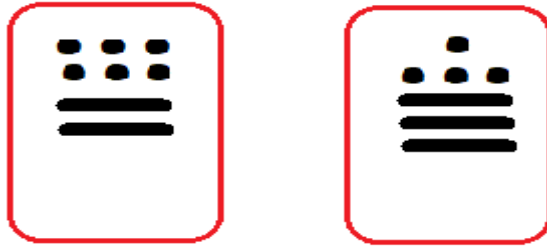


SORULAR

SORU: Pembe PANTER'in kuyruğu kaç cm'dir?



SORU: Nokta bir (1) ve çizgi beş(5) sayısını gösterdiğine göre alttaki sayıların değerlerini kutuların içine yazınız



SORU: Alttaki şekilde toplam kaç hayvan vardır?



SORU: Bir hayvan barınağında her hayvandan verilen sayılar kadar bulunuyor. Buna göre bu barınakta toplam kaç hayvan vardır?

