

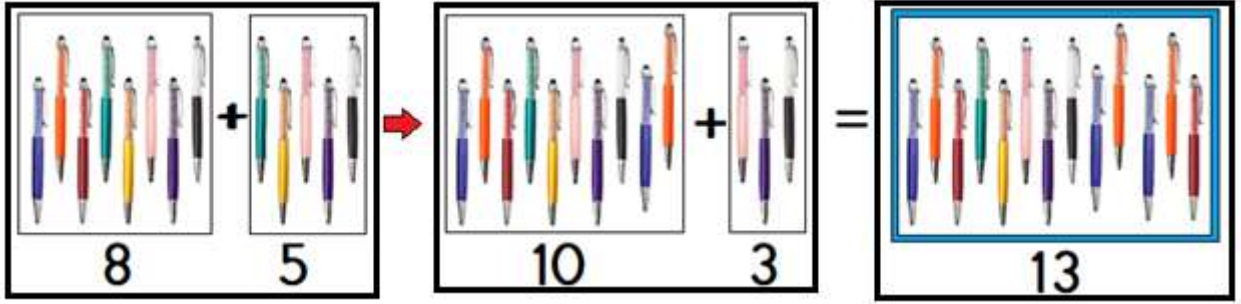
# ONLUĞA TAMAMLAYARAK TOPLAMA İŞLEMİ



Adım- Soyadım : ..... No: .....

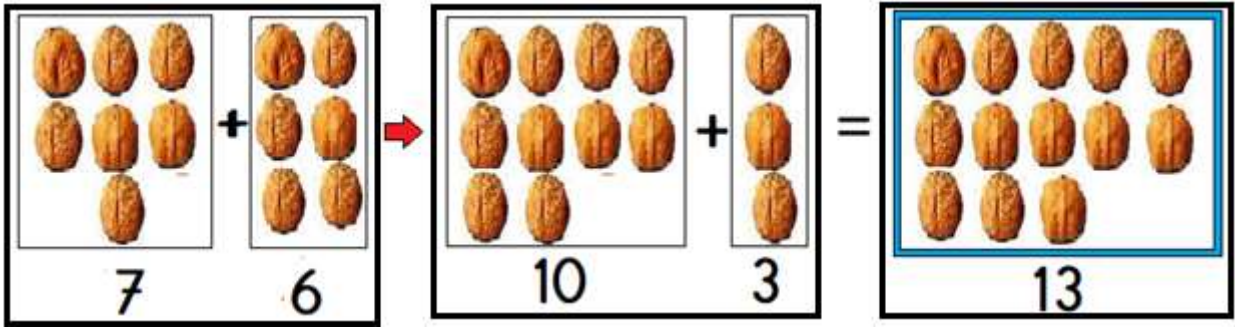
**SORU:** 8 kalem 5 kalem daha kaç kalem eder?

- . Sekiz kalemi 10 kaleme tamamlamak için 5 kalemin 2'sini alırsız.
- . Artan 3 kalemi de on kalemin üzerine ekleriz.



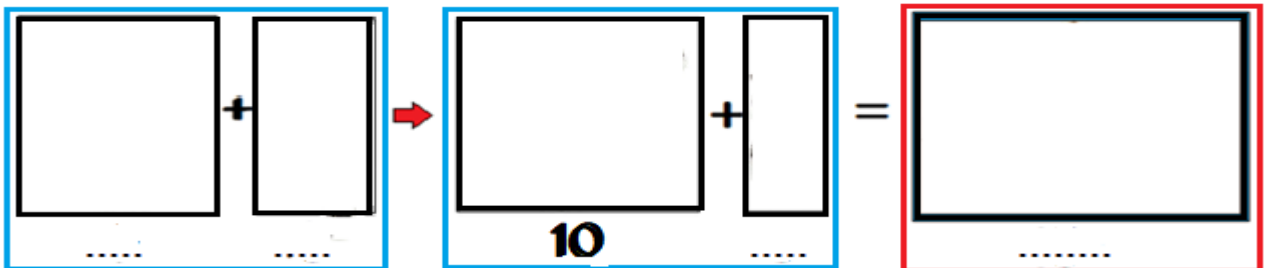
**SORU:** 7 cevizim var. 6 ceviz de annem verirse kaç cevizim olur?

- . 7 cevizi 10 ceviz tamamlamak için 6 cevizin 3'ünü alırsız.
- . Artan 3 cevizi de on cevizin üzerine ekleriz.



**SORU:** 9 bilyem var. 6 bilye de ablam verirse kaç bilyem olur?

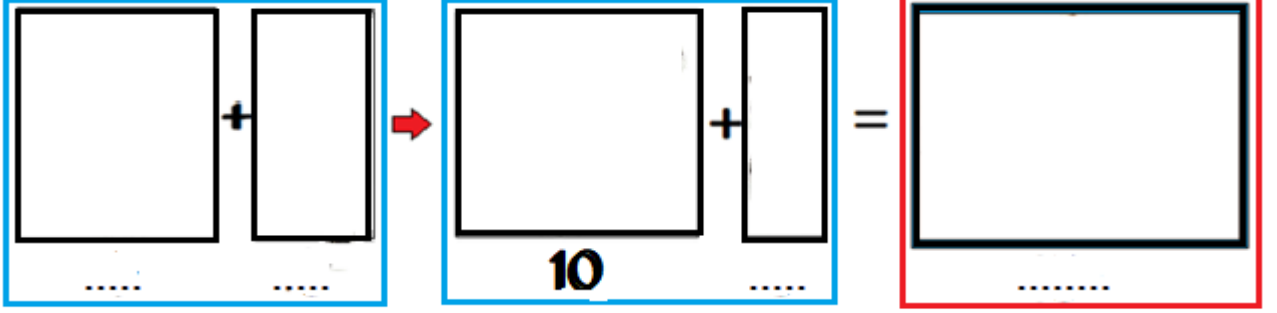
- . 9 bilyeyi 10 bilyeye tamamlamak için 6 bilyenin 1'ini alırsız.
- . Artan 5 bilyeyi de on bilyenin üzerine ekleriz



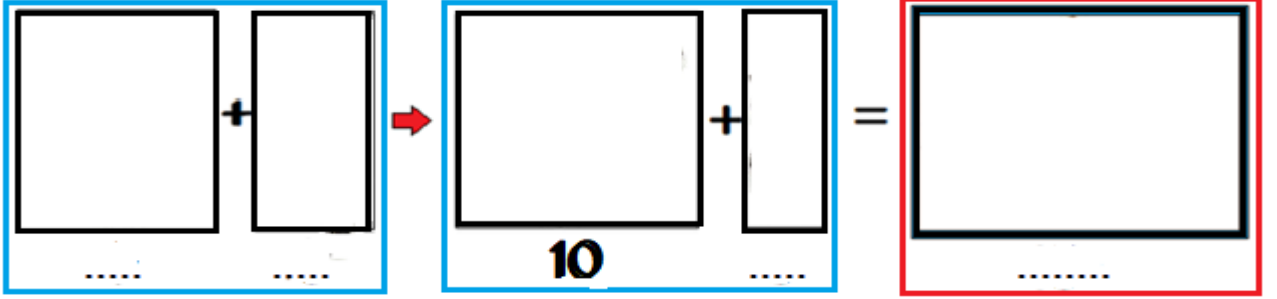
Orhan ÇABUK

## SORULAR

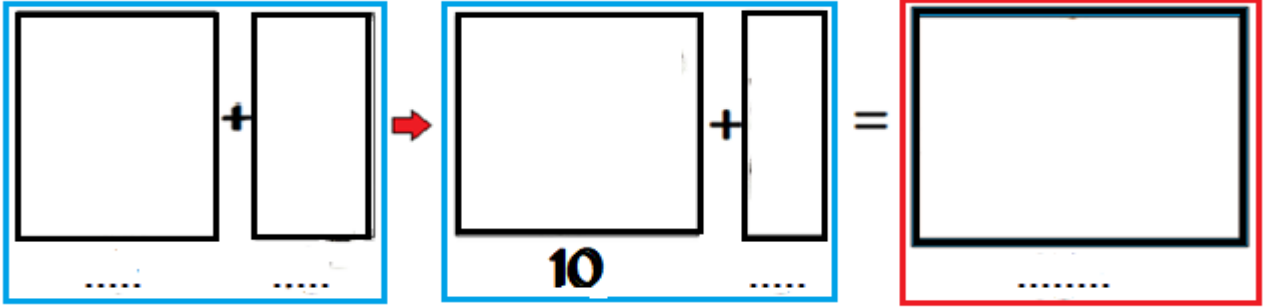
1)  $9+7=16$  işlemini onluğa tamamlayarak şekille gösteriniz.



2)  $6+5=11$  işlemini onluğa tamamlayarak şekille gösteriniz.



3)  $9+8=17$  işlemini onluğa tamamlayarak şekille gösteriniz.



4)  $8+8=16$  işlemini onluğa tamamlayarak şekille gösteriniz.

