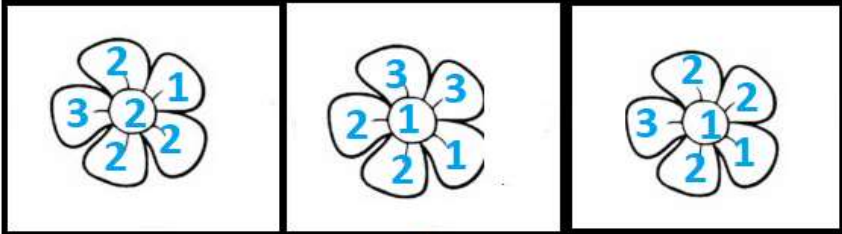


a

b

c

Hangi çiçeğin üzerindeki sayıların toplamı daha büyüktür?



a

b

c

Hangi çiçeğin üzerindeki sayıların toplamı farklıdır?



a

b

c

Yaprak sayısı en az olan çiçek hangisidir?

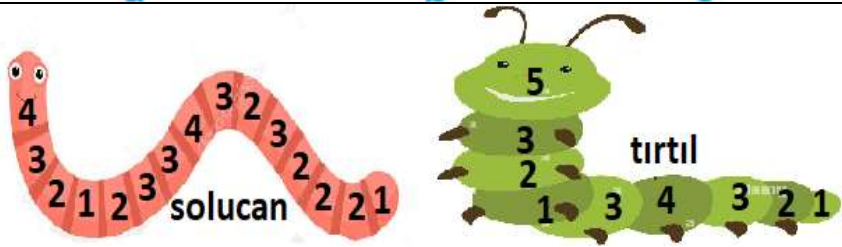


a

b

c

Hangi böceğin ayak sayısı farklıdır?

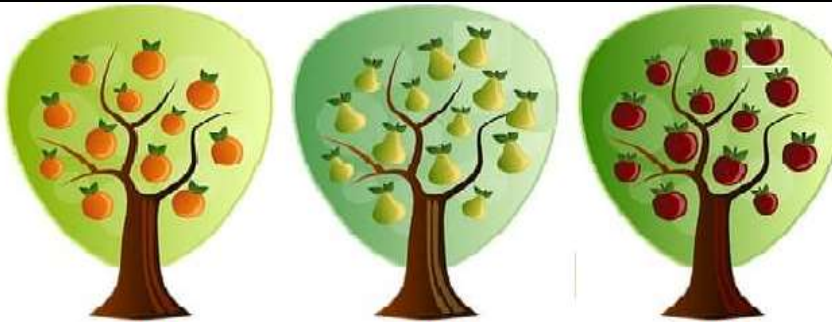


a)10

b)12

c) 13

Solucan ve tırtılın üzerindeki sayıları toplayarak uzunlarını bulunuz. Solucan tırtıldan kaç mm kadar daha uzundur?



a()

b()

c()

Hangi ağaçtaki meyveler daha azdır?