

# 2. SINIF

# YARIYIL TATİL

# ETKİNLİKLERİ



S O R B  S O



## YARIYIL TATİL ETKİNLİKLERİ 1. GÜN

- Aşağıdakilerden hangileri fiziksel özelliktir, işaretleyelim.



Gitar çalmayı çok seviyorum.

Sarı saçlı, mavi gözlü bir çocuktur.

Kitap okumak beni çok dinlendiriyor.

Uzun boylu olduğum için takıma seçildim.

Bisiklete binmekten çok hoşlanıyorum.

Annemin kahverengi saçları var.

Elif Eda'dan daha zayıf bir çocuktur.

Yüzmek en güzel spordur.

Duru'nun gamzeleri gülünce ortaya çıkıyor.

29 Ekim'de yapılan resim yarışmasında 1. oldum.

- Aşağıdaki sözcüklerin ünlü ve ünsüz harflerini yazalım.

	ünlü harfler	ünsüz harfler		ünlü harfler	ünsüz harfler
kağıt			saat		
portakal			sinema		
bileklik			güneş		
sandalye			tişört		

- Aşağıdaki sözcükleri hecelerine ayırıp, hece sayılarını yazalım.

kestane	.....	.....
kalemlik	.....	.....
spor	.....	.....
ağaç	.....	.....
çarşamba	.....	.....

bölük	.....	.....
zenginlik	.....	.....
futbol	.....	.....
bilgisayar	.....	.....
saygı	.....	.....



## YARIYIL TATİL ETKİNLİKLERİ 1. GÜN

- Aşağıdaki nesneleri gruplayarak onluk ve birlik sayılarını yazalım.



.... onluk .... birlik



.... onluk .... birlik



.... onluk .... birlik



.... onluk .... birlik

- Aşağıdaki sayıların okunuşlarını yazalım.

24 .....

69 .....

38 .....

71 .....

47 .....

80 .....

55 .....

92 .....

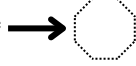
18 .....

66 .....

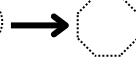


- Okunuşları verilen sayıları yazalım.

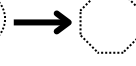
on altı



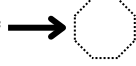
otuz üç



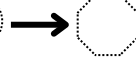
kırk sekiz



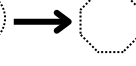
yirmi yedi



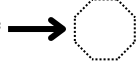
elli yedi



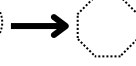
atmış iki



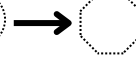
on altı



yetmiş



doksan dört



- Aşağıda verilen sayıları onluk birliklerine ayıralım.

73 → .... onluk .... birlik

84 → .... onluk .... birlik

45 → .... onluk .... birlik

61 → .... onluk .... birlik

- Aşağıda onluk ve birlikleri verilen sayıları yazalım.

2 onluk 0 birlik



3 onluk 5 birlik



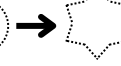
9 birlik 4 onluk



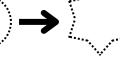
5 onluk 7 birlik



7 onluk 6 birlik



8 birlik 1 onluk



## YARIYIL TATİL ETKİNLİKLERİ 2. GÜN

- Aşağıdaki ifadelerden doğru olanların başına "D" , yanlış olanların başına "Y" yazalım.



	Farklılıklara saygı duymaya gerek yoktur.
	İnsanların dış görünüşlerine fiziksel özellik denir.
	Bize topunu vermeyen arkadaşımızı dışlamalıyız.
	Farklılıklar bizi zenginleştirir.
	Engelli arkadaşlarımıza yardımcı olmalıyız.
	Her insan aynı özelliklere sahip olmalıdır.

- Aşağıdaki sözcükleri sözlük sırasına göre numaralandıralım.

ay	kitap	dünya	okul
zebra	defter	güneş	sınıf
sincap	silgi	ay	yurt
arı	ceket	kurt	yel
askı	cami	kapan	yemin
asma	cam	kül	yazar

- Aşağıdaki sözcüklerin anlamlarını sözlükten bulup, cümle içinde kullanalım.

lider	Anlamı : .....
	Cümle : .....
güven	Anlamı : .....
	Cümle : .....
kararlı	Anlamı : .....
	Cümle : .....

- Satır sonuna sığmayan kelimeleri kısa çizgi ile ayıralım.

öğrenci	teknoloji	sabahlık	fotokopi
hayırlı	egemenlik	sonuçlanmış	askerlik

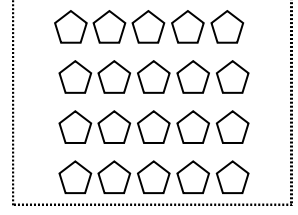
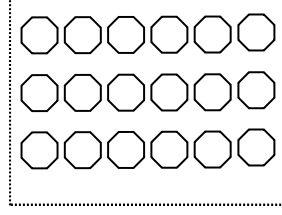
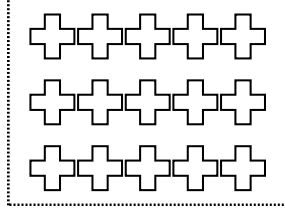
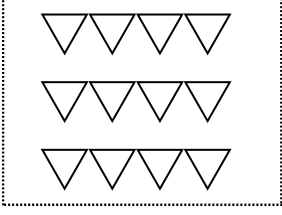




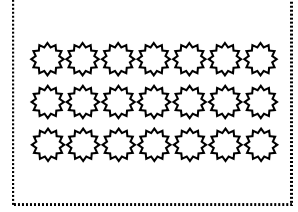

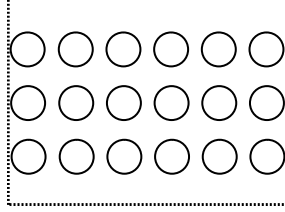
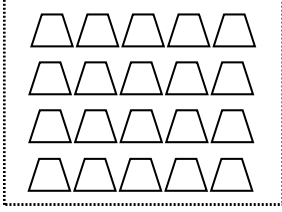
## YARIYIL TATİL ETKİNLİKLERİ 2. GÜN



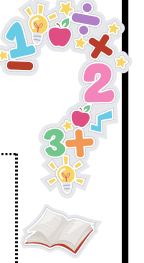
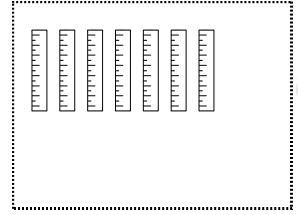
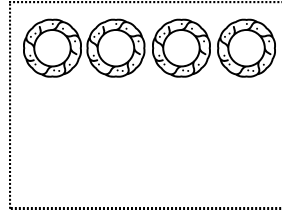

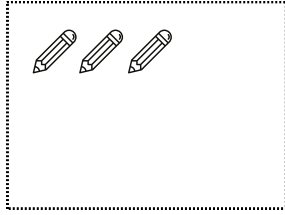
- Aşağıdaki şekilleri bir deste kadar boyyalım.





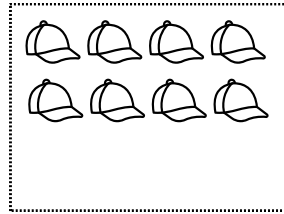
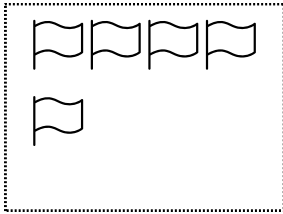
- Aşağıdaki şekilleri bir düzine kadar boyyalım.



- Aşağıdaki varlıkların sayılarını 1 desteye tamamlayalım.



- Aşağıdaki varlıkların sayılarını 1 düzineye tamamlayalım.



- Aşağıda istenen sonuçları bulalım.


$$2 \text{ deste} + 6$$



$$4 \text{ düzine}$$



$$3 \text{ düzine} - 10$$



$$1 \text{ düzine} + 9$$



$$3 \text{ deste} + 7$$



$$4 \text{ düzine} - 8$$



$$1 \text{ deste} + 7$$



$$3 \text{ deste}$$



$$2 \text{ düzine} + 13$$



$$3 \text{ deste} + 22$$



$$1 \text{ düzine} + 18$$



$$3 \text{ düzine} - 21$$



# YARIYIL TATİL ETKİNLİKLERİ 3. GÜN

## HAFTALIK DERS PROGRAMI

Pazartesi	Salı	Çarşamba	Perşembe	Cuma
Hayat B.	Hayat B.	Hayat B.	Hayat B.	Matematik
Matematik	Matematik	Matematik	Matematik	Türkçe
Türkçe	Türkçe	Türkçe	Türkçe	Türkçe
Türkçe	Türkçe	Türkçe	Türkçe	Serbest E.
İngilizce	Beden E.	Müzik	Görsel S.	Serbest E.
İngilizce	Beden E.	Beden E.	Beden E.	Beden E.



1.Sözlük	2.Cetvel	3. Boya kalemi	4. Melodika	5.İngilizce Def.
6.Türkçe Kitabı	7. Spor Ayakkabısı	8. Matematik Defteri	9.Resim Defteri	10.Hayat B. Kitabı
11.Matematik Kitabı	12. Pastel Boya	13. İngilizce Kitabı	14. Eşofman	15. Kalemlik

- Verilen programa göre çantamıza koymamız gereken malzemeleri yazalım.

Pazartesi	
Salı	
Çarşamba	
Perşembe	
Cuma	

- Aşağıdaki sözcüklerin zıt anlamlılarını yazalım.

beyaz	→	
yaşlı	→	
kolay	→	
zayıf	→	
güzel	→	
uzak	→	
tatlı	→	



dolu	→	
eksi	→	
sabah	→	
uzak	→	
iyi	→	
eksik	→	
uzun	→	

## YARIYIL TATİL ETKİNLİKLERİ 3. GÜN



- Aşağıdaki sayıların basamak adlarını yazalım.

1 5


4 3


2 8


6 4


7 1


9 2


- Aşağıdaki sayıların basamak değerlerini yazalım.

3 6


2 1


8 4


6 3


4 2


5 5


2 8


9 1


- Aşağıdaki sayıların sayı değerlerini yazalım.

6 3


1 7


2 9


4 7


5 1


4 9


7 8


8 5


- Aşağıdaki basamak değeri verilen sayıları yazalım.

	3
	80

	6
	70

	4
	50

	8
	10

	6
	90

## YARIYIL TATİL ETKİNLİKLERİ 4. GÜN

- Aşağıda verilen sınıf kurallarından doğru olanları işaretleyelim.

<input type="checkbox"/>	Sınıfımızı temiz tutmalıyız.
<input type="checkbox"/>	Çöpleri çöp kutusuna atmmalıyız.
<input type="checkbox"/>	Söz almadan cevabı biliyorsak söylemeliyiz.
<input type="checkbox"/>	Sınıf eşyalarına zarar vermemeliyiz.
<input type="checkbox"/>	Verilen görevleri en çalışkan arkadaşımıza yaptırmalıyız.
<input type="checkbox"/>	Derse vaktinde girmeliyiz.
<input type="checkbox"/>	Çantamızı akşam annemize hazırlatmalıyız.
<input type="checkbox"/>	Sıramızın üstün adımızı yazmalıyız.
<input type="checkbox"/>	Öğretmenimizi tüm dikkatimizle dinlemeliyiz.
<input type="checkbox"/>	Sınıftan koşarak çıkmalıyız.



- Aşağıdaki sözcüklerin eş anlamlılarını yazalım.

okul →	tane →	kırmızı →
doktor →	barış →	vatan →
hakim →	şehir →	millet →
öğretmen →	savaş →	vakit →
öğrenci →	cevap →	düş →

- Aşağıdaki altı çizili kelimelerin eş anlamlılarını bulup, tekrar yazalım.

Arkadaşıma doğun günü için hediye almaya gideceğim.



Teyzemin düğünü için beyaz bir elbise alacağım.



Bu akşam misafirlerimiz gelecek.



Bana verilen görevi hemen yerine getiririm.



## YARIYIL TATİL ETKİNLİKLERİ 4. GÜN

- Aşağıda verilen sayılardan başlayarak kurala göre ritmik sayma yapalım.

2	4	6							
9	12	15							
12	16	20							
5	10	15							
45	40	35							
27	24	21							
20	18	16							
40	36	32							



- Sayı örüntülerindeki boşlukları tamamlayalım.

7	10	13		19	22	25		31	34
14	19	24	29		39	44	49		59
34	31	28		22	19		13	10	7
55	50		40	35		25	20		10
21	19	17		13		9	7		3



- Sayı örüntülerindeki kuralı bozan sayıları işaretleyelim.

9	12	15	17	21	24	27	30	33	36
14	16	18	20	22	20	24	26	28	30
40	36	32	28	26	20	16	12	8	4
55	60	65	70	74	80	85	90	95	100
36	32	28	24	21	16	12	8	4	0



## YARIYIL TATİL ETKİNLİKLERİ 5. GÜN

Eczane	Deniz Sok.	Kırtasiye	Cam Sok.	Fırın
— — — — — Ata Cad.				
Market	Gül Sok.	Okul	Lale Sok.	Park

- Yandaki krokiye göre soruları cevaplayalım.

1. Eczane ve fırının arasında ne vardır?  
.....

2. Kırtasiyenin karşısında ne vardır?  
.....

3. Okul ve parkın arasındaki sokağın adı nedir?  
.....

4. Fırının solunda ne vardır?  
.....

5. Marketin sağında ne vardır?  
.....

6. Kırtasiye ve eczanenin bulunduğu sokağın adı nedir?  
.....

- Aşağıdaki ifadelerden cümle olanları işaretleyelim.

<input type="checkbox"/> Güüyordu.
<input type="checkbox"/> Bahçeyi suladım.
<input type="checkbox"/> Beraber lunaparkta
<input type="checkbox"/> Çok güzel yazısı var.
<input type="checkbox"/> Kalemı kırıldığı için üzüldü.
<input type="checkbox"/> Bugün çok

<input type="checkbox"/> Okulda yemek
<input type="checkbox"/> Gözlüğü kırılınca
<input type="checkbox"/> Manti yemeği çok seviyor.
<input type="checkbox"/> Ödevimi zamanında
<input type="checkbox"/> Çok hızlı okurum.
<input type="checkbox"/> Babam bana bisiklet

- Aşağıdaki verilen cümleleri uygun sözcüklerle tamamlayalım.

Erken yatar erken .....

Sabah kahvaltımı yapmadan evden .....

Ödevlerimi zamanında .....

Odamı toplar, anneme yardım .....

Arkadaşlarımla oynamayı çok .....

Ebrar bisikletten düşünce .....

Kirli çamaşırları çamaşır makinesine .....

Kalktıktan sonra yatağımı .....



## YARIYIL TATİL ETKİNLİKLERİ 5. GÜN



- "Büyüktür, küçüktür, eşittir" ifadelerini kullanarak sayıları karşılaştıralım.

$15 \dots\dots\dots 24$

$42 \dots\dots\dots 18$

$72 \dots\dots\dots 72$

$34 \dots\dots\dots 42$

$21 \dots\dots\dots 64$

$41 \dots\dots\dots 54$

$54 \dots\dots\dots 33$

$53 \dots\dots\dots 85$

$23 \dots\dots\dots 22$

$25 \dots\dots\dots 25$

$51 \dots\dots\dots 51$

$65 \dots\dots\dots 66$

- Aşağıda verilen sayıları büyükten küçüğe sıralayalım.

$18 - 64 - 42 - 7$

$\dots - \dots - \dots - \dots$

$36 - 41 - 24 - 85$

$\dots - \dots - \dots - \dots$

$96 - 43 - 85 - 74$

$\dots - \dots - \dots - \dots$

$35 - 43 - 74 - 18$

$\dots - \dots - \dots - \dots$

$81 - 90 - 24 - 12$

$\dots - \dots - \dots - \dots$

$71 - 78 - 72 - 70$

$\dots - \dots - \dots - \dots$

- Aşağıda verilen sayıları küçükten büyüğe sıralayalım.

$21 - 20 - 28 - 26$

$\dots - \dots - \dots - \dots$

$35 - 24 - 78 - 19$

$\dots - \dots - \dots - \dots$

$43 - 71 - 54 - 63$

$\dots - \dots - \dots - \dots$

$34 - 18 - 41 - 22$

$\dots - \dots - \dots - \dots$

$24 - 33 - 14 - 41$

$\dots - \dots - \dots - \dots$

$85 - 83 - 87 - 81$

$\dots - \dots - \dots - \dots$

- Aşağıdaki sayıları en yakın onluğa yuvarlayalım.

$63 \rightarrow \dots$

$34 \rightarrow \dots$

$83 \rightarrow \dots$

$21 \rightarrow \dots$

$91 \rightarrow \dots$

$54 \rightarrow \dots$

$85 \rightarrow \dots$

$76 \rightarrow \dots$

$25 \rightarrow \dots$

$48 \rightarrow \dots$

$43 \rightarrow \dots$






## YARIYIL TATİL ETKİNLİKLERİ 6. GÜN

- Aşağıda verilen ifadelerden doğru olanları sarıya, yanlış olanları turuncuya boyayalım.

<input type="checkbox"/>	Açık kalmış bir musluk gördüğümde kapatırım.
<input type="checkbox"/>	Ellerim temiz olsun diye çok sabun kullanırım.
<input type="checkbox"/>	Kaynakları bir gün tükenebilirmiş.
<input type="checkbox"/>	Kaynaklarımızı özenli kullanırsak doğaya katkımız oluyormuş.
<input type="checkbox"/>	Tuvalet kağıdını gereksiz yere kullanmam.
<input type="checkbox"/>	Teneffüste tahtaya resim çizerim.
<input type="checkbox"/>	Sınıf aydınlıkken ışıkları söndürürüm.
<input type="checkbox"/>	Okul içinde kimsenin görmediği yerlere çöp atabilirim.

- Aşağıda cümlelerin sonuna uygun noktalama işaretlerini koyayım.

Eyvah ( ) otobüsü kaçırdım ( )
Yarın sinemaya gelecek misin ( )
Bütün soruları doğru cevapladım ( )
Of ( ) Elim yandı ( )
İmdat ( ) hırsız kaçıyor ( )
Annem ( ) babam ( ) kardeşim ve ben tatile gideceğiz ( )
Cumhuriyet Cad ( ) nerede ( )
Aylin neden bizimle gelmedi ( )
Yazlıktayken her sabah yüzmeye giderdim ( )
Dr ( ) Ahmet Bey ( ) in bugün çok hastası varmış ( )
Toplantı 21( )03( )2023 ( ) te yapılacak ( )
Marketten un ( ) pirinç ( ) makarna ve süt almaya gittik ( )
Ders zili 08( )30 ( ) da çalıyor ( )
Emre 2( ) dersin sonunda geldi ( )



## YARIYIL TATİL ETKİNLİKLERİ 6. GÜN



- Aşağıdaki toplama işlemlerini yapalım.

$$\begin{array}{r} 18 \\ + 24 \\ \hline \square \end{array}$$

$$\begin{array}{r} 42 \\ + 33 \\ \hline \square \end{array}$$

$$\begin{array}{r} 54 \\ + 21 \\ \hline \square \end{array}$$

$$\begin{array}{r} 63 \\ + 12 \\ \hline \square \end{array}$$

$$\begin{array}{r} 74 \\ + 18 \\ \hline \square \end{array}$$

$$\begin{array}{r} 47 \\ + 31 \\ \hline \square \end{array}$$

$$\begin{array}{r} 36 \\ + 45 \\ \hline \square \end{array}$$

$$\begin{array}{r} 34 \\ + 52 \\ \hline \square \end{array}$$


$$\begin{array}{r} 13 \\ + 31 \\ \hline \square \end{array}$$

$$\begin{array}{r} 45 \\ + 27 \\ \hline \square \end{array}$$

$$\begin{array}{r} 37 \\ + 22 \\ \hline \square \end{array}$$

$$\begin{array}{r} 65 \\ + 19 \\ \hline \square \end{array}$$

- Aşağıdaki toplama işlemlerini yapalım.



$$25 + 33 =$$

$$31 + 54 =$$

$$22 + 27 =$$

$$26 + 43 =$$

$$42 + 22 =$$

$$25 + 43 =$$

$$22 + 45 =$$

$$72 + 14 =$$

$$33 + 24 =$$

$$36 + 41 =$$

$$32 + 32 =$$

$$82 + 12 =$$

- Aşağıdaki toplama işlemlerini yapalım.

$$\begin{array}{r} 56 \\ 24 \\ + 17 \\ \hline \square \end{array}$$

$$\begin{array}{r} 14 \\ 13 \\ + 45 \\ \hline \square \end{array}$$

$$\begin{array}{r} 26 \\ 13 \\ + 33 \\ \hline \square \end{array}$$

$$\begin{array}{r} 57 \\ 21 \\ + 19 \\ \hline \square \end{array}$$

$$\begin{array}{r} 21 \\ 15 \\ + 16 \\ \hline \square \end{array}$$

$$\begin{array}{r} 22 \\ 38 \\ + 25 \\ \hline \square \end{array}$$

$$\begin{array}{r} 42 \\ 33 \\ + 18 \\ \hline \square \end{array}$$

$$\begin{array}{r} 39 \\ 28 \\ + 14 \\ \hline \square \end{array}$$

$$\begin{array}{r} 28 \\ 14 \\ + 19 \\ \hline \square \end{array}$$

$$\begin{array}{r} 19 \\ 16 \\ + 17 \\ \hline \square \end{array}$$

## YARIYIL TATİL ETKİNLİKLERİ 7. GÜN



- Aşağıdaki cümleleri uygun kelimelerle tamamlayalım.

söz	yapabileceği	iş bölümü	zamanında	eşit	görevi	saygı
-----	--------------	-----------	-----------	------	--------	-------

- 1.Grupta herkesin ..... hakkı vardır.
- 2.Üyeler arasında ..... vardır.
- 3.Grupta her üyeye ..... davranılmalıdır.
- 4.Üyeler çalışmalarına ..... gelmelidir.
- 5.Üyeler üzerine düşen ..... yerine getirmelidir.
- 6.Grupta alınan kararlara ..... duymalıyız.
- 7.Görev dağılımı yapılırken herkese ..... görevler verilmelidir.

- Aşağıda verilen adları özel ad ve tür adı oluşuna göre gruplayalım.

Çiçek – Boncuk – Aydın – Akşam – Kitap – Gazi İlkokulu – Damla  
– Öğrenci – Penguen – Gül Sokak – Akdeniz – Elbise

Özel Adlar :

Tür Adları :

- Aşağıda verilen özel adlara gelen ekleri kesme işareti ile ayırıp cümle içinde kullanalım.

Erzincana	→		
Aykutun	→		
Türkçeyi	→		
Karabaşın	→		

## YARIYIL TATİL ETKİNLİKLERİ 7. GÜN

- Aşağıdaki çıkarma işlemlerini yapalım.

$$28 - 16 =$$

$$45 - 24 =$$

$$46 - 22 =$$

$$36 - 14 =$$

$$27 - 13 =$$

$$39 - 24 =$$

$$57 - 32 =$$

$$48 - 25 =$$

$$94 - 22 =$$

$$48 - 11 =$$

$$78 - 26 =$$

$$75 - 53 =$$



- Aşağıdaki çıkarma işlemlerini yapalım.

$$\begin{array}{r} 47 \\ - 22 \\ \hline \square \end{array}$$

$$\begin{array}{r} 55 \\ - 32 \\ \hline \square \end{array}$$

$$\begin{array}{r} 69 \\ - 34 \\ \hline \square \end{array}$$

$$\begin{array}{r} 96 \\ - 50 \\ \hline \square \end{array}$$

$$\begin{array}{r} 67 \\ - 33 \\ \hline \square \end{array}$$

$$\begin{array}{r} 89 \\ - 27 \\ \hline \square \end{array}$$

$$\begin{array}{r} 43 \\ - 25 \\ \hline \square \end{array}$$

$$\begin{array}{r} 39 \\ - 18 \\ \hline \square \end{array}$$

$$\begin{array}{r} 41 \\ - 27 \\ \hline \square \end{array}$$

$$\begin{array}{r} 35 \\ - 19 \\ \hline \square \end{array}$$

$$\begin{array}{r} 51 \\ - 27 \\ \hline \square \end{array}$$

$$\begin{array}{r} 62 \\ - 36 \\ \hline \square \end{array}$$

$$\begin{array}{r} 71 \\ - 27 \\ \hline \square \end{array}$$

$$\begin{array}{r} 46 \\ - 29 \\ \hline \square \end{array}$$

$$\begin{array}{r} 50 \\ - 19 \\ \hline \square \end{array}$$

$$\begin{array}{r} 84 \\ - 39 \\ \hline \square \end{array}$$

$$\begin{array}{r} 31 \\ - 17 \\ \hline \square \end{array}$$

$$\begin{array}{r} 75 \\ - 28 \\ \hline \square \end{array}$$

$$\begin{array}{r} 84 \\ - 39 \\ \hline \square \end{array}$$

$$\begin{array}{r} 41 \\ - 18 \\ \hline \square \end{array}$$

$$\begin{array}{r} 61 \\ - 29 \\ \hline \square \end{array}$$

$$\begin{array}{r} 52 \\ - 27 \\ \hline \square \end{array}$$

$$\begin{array}{r} 61 \\ - 48 \\ \hline \square \end{array}$$

$$\begin{array}{r} 90 \\ - 56 \\ \hline \square \end{array}$$

$$\begin{array}{r} 64 \\ - 28 \\ \hline \square \end{array}$$

$$\begin{array}{r} 72 \\ - 54 \\ \hline \square \end{array}$$

$$\begin{array}{r} 80 \\ - 27 \\ \hline \square \end{array}$$

$$\begin{array}{r} 91 \\ - 57 \\ \hline \square \end{array}$$

$$\begin{array}{r} 70 \\ - 54 \\ \hline \square \end{array}$$

$$\begin{array}{r} 62 \\ - 28 \\ \hline \square \end{array}$$

## YARIYIL TATİL ETKİNLİKLERİ 8. GÜN



- Aşağıda doğru olanları işaretleyelim.

<input type="checkbox"/>	Adresimiz tam olarak bilmeliyiz.
<input type="checkbox"/>	Adresimizi bilmek gideceğimiz yere kolaylıkla gitmesini sağlar.
<input type="checkbox"/>	Her evin bir adresi vardır.
<input type="checkbox"/>	İnternette adresimizi soranlara adresimizi söyleyebiliriz.
<input type="checkbox"/>	Adresimizi sadece tanıdığımız insanlara söylemeliyiz.
<input type="checkbox"/>	Adres bilgilerinde kapı numarasına gerek yoktur.
<input type="checkbox"/>	Anne veya babamızın cep telefonunu ezbere bilmeliyiz.
<input type="checkbox"/>	Yeni tanıdığımız insanlara adres bilgilerini verebiliriz.



- Aşağıdaki yazım yanlışlarını düzeltelim.

öretmen →	hastahane →	zetin →
sovan →	bağzen →	kave →
herşey →	eşşek →	heycanlı →
yalnış →	şarz →	yanlız →
meyvq →	çünkü →	elekrik →
sipor →	çikilota →	süpriz →

- Soru ekinin yazımındaki hataları bulup, tekrar yazalım.

Okula benimle gelirmisin? → .....
Bu akşam geç yatabilirmiyim? → .....
Ödevlerin bittimi? → .....
Bizimle oynamak istermisin? → .....
Kul alsak olmazmı? → .....
OResim yarışmasına katılacakmısın? → .....

## YARIYIL TATİL ETKİNLİKLERİ 8. GÜN



- Aşağıdaki toplama işlemlerini zihinden yapalım.

$20 + 40 =$

$20 + 30 =$

$40 + 10 =$

$30 + 50 =$

$40 + 40 =$

$60 + 20 =$

$70 + 20 =$

$30 + 40 =$

$30 + 30 =$

- Aşağıdaki toplama işlemlerini zihinden yapalım.

$37 + 34 =$

$47 + 32 =$

$55 + 17 =$

$42 + 50 =$

$28 + 64 =$

$37 + 48 =$

$30 + 29 =$

$38 + 48 =$

$68 + 20 =$

$28 + 63 =$

$52 + 27 =$

$70 + 18 =$

1. Benim 26, kardeşimin 19 kitabı var. İkimizin toplam kaç kitabı vardır?

Çözüm:

2. Kantinde 1 teneffüs 52, 2. teneffüs 34 tost satılmıştır. 2 teneffüs toplam kaç tost satılmıştır?

Çözüm:

3. Oyuncak kutumda 25 sarı, 36 mor oyuncak vardır. Oyuncak kutumda kaç oyuncak vardır?

Çözüm:

4. Bir trende 24 kadın, 34 erkek ve 10 çocuk vardır. Bu trendeki toplam yolcu sayısı kaçtır?

Çözüm:

## YARIYIL TATİL ETKİNLİKLERİ 9. GÜN

- Aşağıdaki bilgilerden doğru olanlara "D", yanlış olanlara "Y" yazalım.

Ailede kararları sadece anne ve baba alır.

Ailedeki her birey fikirlerini rahatça söyleyebilir.

Evdeki son karar babanıdır.

Evin küçüğünün her istediği olur.


Tatile giderken nereye gideceğine hep beraber karar verilmelidir.

Ailede iş bölümü yapılır.

Eve alınacaklara anne karar verir.


Kardeşimizi bizim gibi düşünmesi için zorlamamalıyız.

Evde adil görev dağılımı yapılmalıdır.



- Aşağıdaki metni (önce, sonra, daha sonra, en sonunda) ifadelerini kullanarak tamamlayalım.

Kardeşim erkenden uyandı. .... kahvaltısını yaptı. ....  
dişlerini fırçalayıp ellerini yıkadı. .... çantasını hazırladı.  
Bizimle vedalaştı. Kapının önüne çıkıp, servisi bekledi.  
..... servis geldi ve okula gitti.



- Aşağıdaki olayları oluş sırasına göre numaralandıralım.

Film çok güzeldi.

Yerimize oturduk.

Sinemaya gittik.


Çok eğlendik.

Adını Ati koyduk.

Çok üşümüş ve korkmuştu.

Onu eve götürdük.

Yolda yavru köpek bulduk.





## YARIYIL TATİL ETKİNLİKLERİ 9. GÜN



- Aşağıdaki problemleri çözelim..

1. Kitaplığımda 16 hikaye, hikaye kitaplarından 9 fazla masal kitabı vardır. Kitaplığımda kaç kitap vardır?

Çözüm:

“

3. Birinci gün 20 adım, ikinci gün birinci günden 7 adım fazla atan bir bebek iki günde kaç adım atmıştır?

Çözüm:

“

2. İpek 18 yaşındadır. Kardeşi İpekten 6 yaş küçüktür. İkisinin yaşları toplamı kaçtır?

Çözüm:

“

4. 42 sayısının 18 fazlasına 14 eklersem kaç olur?

Çözüm:

“

- Aşağıdaki çıkarma işlemlerini tahmin edip, sonuçları karşılaştıralım.

İşlem	Tahmin	Fark
$\begin{array}{r} 58 \\ -14 \\ \hline \end{array}$	$\begin{array}{r} \square \\ -\square \\ \hline \end{array}$	$\begin{array}{r} \square \\ -\square \\ \hline \end{array}$

İşlem	Tahmin	Fark
$\begin{array}{r} 42 \\ -28 \\ \hline \end{array}$	$\begin{array}{r} \square \\ -\square \\ \hline \end{array}$	$\begin{array}{r} \square \\ -\square \\ \hline \end{array}$

İşlem	Tahmin	Fark
$\begin{array}{r} 64 \\ -37 \\ \hline \end{array}$	$\begin{array}{r} \square \\ -\square \\ \hline \end{array}$	$\begin{array}{r} \square \\ -\square \\ \hline \end{array}$

İşlem	Tahmin	Fark
$\begin{array}{r} 46 \\ -18 \\ \hline \end{array}$	$\begin{array}{r} \square \\ -\square \\ \hline \end{array}$	$\begin{array}{r} \square \\ -\square \\ \hline \end{array}$

İşlem	Tahmin	Fark
$\begin{array}{r} 58 \\ -14 \\ \hline \end{array}$	$\begin{array}{r} \square \\ -\square \\ \hline \end{array}$	$\begin{array}{r} \square \\ -\square \\ \hline \end{array}$

İşlem	Tahmin	Fark
$\begin{array}{r} 94 \\ -59 \\ \hline \end{array}$	$\begin{array}{r} \square \\ -\square \\ \hline \end{array}$	$\begin{array}{r} \square \\ -\square \\ \hline \end{array}$



## YARIYIL TATİL ETKİNLİKLERİ 10. GÜN

- Aşağıdaki boşlukları uygun kelimelerle dolduralım.

oyuna

hızlı

haftalık

başarılı

günlük

Planlı çalışma ..... olmamızı sağlar.

..... ya da ..... planlamalar yapmalıyız.

Plan yaparken ..... da zaman ayırmalıyız.

Plan yapmak işlerin daha ..... yapılmasını sağlar.



- Aşağıdaki boşlukları uygun kelimelerle dolduralım.

1. Annemizin babasına ..... derim.
2. Babamızın babasına ..... derim.
3. Annemizin annesine ..... derim.
4. Babamızın annesine ..... derim.
5. Annemin kız kardeşine ..... derim.
6. Babamın kız kardeşine ..... derim.
7. Annemin erkek kardeşine ..... derim.
8. Babamın erkek kardeşine ..... derim.
9. Teyzemin eşine ..... derim.
10. Amcamın eşine ..... derim.
11. Teyzemin ve amcamın çocukları benim ..... olur.



- Aşağıdaki cümlelerle ilgili soruları cevaplayalım.

Babam dün marketten pirinç aldı.

Kim? ..... Ne zaman? ..... Ne? ..... Nereden? .....

Melih bahçede otururken aniden kelebek geldi.

Ne? ..... Nerede? ..... Nasıl? .....

Sıla bugünü kitap okuyarak geçirdi.

Kim? ..... Nerede? ..... Ne? .....

## YARIYIL TATİL ETKİNLİKLERİ 10. GÜN

- Aşağıdaki toplama işlemlerinde verilmeyen toplananı bulalım.

$$\begin{array}{r} 27 \\ + \square \\ \hline 65 \end{array} \quad \begin{array}{r} \square \\ - \square \\ \hline \square \end{array}$$

$$\begin{array}{r} \square \\ + 36 \\ \hline 81 \end{array} \quad \begin{array}{r} \square \\ - \square \\ \hline \square \end{array}$$

$$\begin{array}{r} \square \\ + 41 \\ \hline 70 \end{array} \quad \begin{array}{r} \square \\ - \square \\ \hline \square \end{array}$$

$$\begin{array}{r} \square \\ + 39 \\ \hline 82 \end{array} \quad \begin{array}{r} \square \\ - \square \\ \hline \square \end{array}$$

$$\begin{array}{r} 3\square \\ + 24 \\ \hline 59 \end{array} \quad \begin{array}{r} \square \\ - \square \\ \hline \square \end{array}$$

$$\begin{array}{r} 4\square \\ + 54 \\ \hline 96 \end{array} \quad \begin{array}{r} \square \\ - \square \\ \hline \square \end{array}$$

$$\begin{array}{r} \square 2 \\ + 36 \\ \hline 48 \end{array} \quad \begin{array}{r} \square \\ - \square \\ \hline \square \end{array}$$

$$\begin{array}{r} 12 \\ + \square 1 \\ \hline 73 \end{array} \quad \begin{array}{r} \square \\ - \square \\ \hline \square \end{array}$$

$$\begin{array}{r} 4\square \\ + 43 \\ \hline 86 \end{array} \quad \begin{array}{r} \square \\ - \square \\ \hline \square \end{array}$$

- Aşağıdaki problemleri çözelim.

Duygu'nun 22 tane kalemi vardı. Bir miktar da öğretmeni verdi. 50 kalemi oldu. Öğretmeni Duygu'ya kaç kalem vermiştir?

Çözüm:



Duru'nun 63 fındığı vardı. Bir miktar fındığı arkadaşına verdi. 35 fındığı kaldığına göre arkadaşına kaç fındık vermiştir?

Çözüm:



Oya'nın 24 tane boya kalemi vardı. Doğum gününde bir miktar daha hediye geldi. 82 boya kalemi oldu. Buna göre doğum gününde kaç boya kalemi gelmiştir?

Çözüm:




Tabakta 12 kurabiye vardı. Fırından çıkanları da ekledik 30 kurabiye oldu. Fırından kaç kurabiye çıkmıştır?

Çözüm:










## YARIYIL TATİL ETKİNLİKLERİ 11. GÜN



- Aşağıdaki varlıkları ihtiyaç ve istek olarak gruplandıralım.

### İHTİYAÇ

çizme

paten

ekmek

cips

mont

oyuncak

kraker

kitap

ilaç

dondurma








sakız

odun


kalem


bisiklet

### İSTEK


  
  
  
  
  
  


- Aşağıda verilen cümlelerdeki yazım ve noktalama yanlışlarını bulup, tekrar yazalım.


 23 nisan ulusal egemenlik ve çocuk bayramında şiir okuyacağım

  
.....


 kurban bayramında ankaraya gideceğiz


  
.....


 okullar Pazartesi günü açılacakmış

  
.....

 elalar yarın ilk uçakla hollandaya gidecekler

  
.....

 mert bugün neden gelmedi.

  
.....



## YARIYIL TATİL ETKİNLİKLERİ 11. GÜN



- Eşitliğin sağlanması için gereken sayıları yazalım.

$$9 + \square = 12 + 5$$

$$6 + 4 = \square + 3$$

$$\square + 20 = 17 + 7$$

$$\square + 15 = 12 + 9$$

$$12 + 6 = 7 + \square$$

$$18 + 3 = \square + 14$$

→ Hangi sayının 16 fazlası 53 eder?

→ Aklımdan tuttuğum sayıya 16 ekleyince sonuç 51 oluyor. Aklımdan tuttuğum sayı kaçtır?

→ İki basamaklı en küçük sayının 71 fazlasının 18 eksiği kaçtır?

→ Saksıda 16 gül, 12 lale vardır. Saksıya 18 tane daha lale koyarsam saksıda kaç çiçek olur?

→ 3 deste kalemin 17 eksiğinin 24 fazlası kaçtır?

→ 4 düzine kalemin 21 tanesini arkadaşlarıma dağıttım. Kaç kalemim olmuştur?


→ Bir lunaparkta 24 kız, kızlardan 12 fazla erkek çocuk vardır. Lunaparkta kaç çocuk vardır?

→ Okul gezisine 25 erkek, erkeklerden 4 eksik kız öğrenci gelmiştir. Geziye kaç öğrenci katılmıştır?

## YARIYIL TATİL ETKİNLİKLERİ 12. GÜN

- Aşağıda doğru olan ifadeleri işaretleyelim.

<input type="checkbox"/>	Spor yapmak sağlığımız için faydalıdır.
<input type="checkbox"/>	Kişisel temizlik sağlığımız için önemlidir.
<input type="checkbox"/>	Akşamları geç yatıp erken kalkmalıyız.
<input type="checkbox"/>	Sağlığımız için dengeli beslenmeliyiz.
<input type="checkbox"/>	Yılda bir ay egzersiz yapmak yeterlidir.
<input type="checkbox"/>	Yediğimiz her yiyecekten sonra dişlerimizi fırçalamalıyız.



- Aşağıdaki sözcüklerin eş anlamlılarını karşlarına yazalım.

<input type="text"/> vakit → <input type="text"/>	<input type="text"/> elbise → <input type="text"/>	<input type="text"/> rüzgar → <input type="text"/>
<input type="text"/> ayakkabı → <input type="text"/>	<input type="text"/> kalp → <input type="text"/>	<input type="text"/> uçak → <input type="text"/>
<input type="text"/> güç → <input type="text"/>	<input type="text"/> nefes → <input type="text"/>	<input type="text"/> deprem → <input type="text"/>
<input type="text"/> hediye → <input type="text"/>	<input type="text"/> araba → <input type="text"/>	<input type="text"/> zirve → <input type="text"/>
<input type="text"/> öykü → <input type="text"/>	<input type="text"/> veteriner → <input type="text"/>	<input type="text"/> gökyüzü → <input type="text"/>

- Aşağıdaki sözcüklerin zıt anlamlılarını karşlarına yazalım.

<input type="text"/> düzenli → <input type="text"/>	<input type="text"/> güzel → <input type="text"/>	<input type="text"/> yaşlı → <input type="text"/>
<input type="text"/> sert → <input type="text"/>	<input type="text"/> kuru → <input type="text"/>	<input type="text"/> gülmek → <input type="text"/>
<input type="text"/> tümsek → <input type="text"/>	<input type="text"/> önce → <input type="text"/>	<input type="text"/> fakir → <input type="text"/>
<input type="text"/> çalışkan → <input type="text"/>	<input type="text"/> dost → <input type="text"/>	<input type="text"/> yaz → <input type="text"/>
<input type="text"/> boş → <input type="text"/>	<input type="text"/> ince → <input type="text"/>	<input type="text"/> gece → <input type="text"/>

## YARIYIL TATİL ETKİNLİKLERİ 12. GÜN

- Aşağıda sıvı olanları işaretleyelim.



☐ zeytinyağı

☐ ayran

☐ portakal

☐ sucuk

☐ biber

☐ kolonya

☐ süt

☐ benzin

☐ turp

☐ lahana

☐ marul

☐ limonata

→ Bir şişe 5 bardak ayran aldığına göre 5 şişe kaç bardak ayran alır?



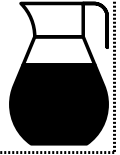
→ Bir cezveyle 4 fincan kahve yapılabilir. 16 fincan kahve için kaç cezveye ihtiyaç vardır?



→ Günde 2 biberon süt tüketen Arya Bebek bir haftada kaç biberon süt içer?



→ Ayran dolu bir sürahi 8 bardağı dolduruyor. 2 sürahi kaç bardağı doldurur?



→ Bir kutu pekmezle 4 bardak doluyor. Buna göre 3 kutu pekmez kaç bardak doldurur?



→ Dolu bir sürahi 4 su bardağını doldurmaktadır. 4 dolu sürahi kaç su bardağını doldurur?



→ Haftada 2 litre zeytinyağı tüketen bir aile bir ayda kaç litre zeytinyağı tüketir?



→ Günde yarım litre süt veren inek 2 haftada kaç litre süt verir?





## YARIYIL TATİL ETKİNLİKLERİ 13. GÜN

- Görgü kurallarından doğru olanları işaretleyelim.

Ağzımızı şapırdatmadan yemek yemeliyiz.

Yemek yerken kaşık, çatal, bıçak kullanmalıyız.

Hastalanan birine "eline sağlık" demeliyiz.

Toplu taşıma araçlarında engellilere ve yaşlılara yardımcı olmalıyız.

Ağzımızı silmek için kolumuzu kullanmalıyız.

Hatalı olduğumuzda özür dilemeliyiz.

Sorulan sorulara ağızımızda lokma varken cevap verebiliriz.

- Verilen mesleklerin görevlerini yazalım.



Doktor

“ ”

.....

.....

.....

.....

.....



Hemşire

“ ”

.....

.....

.....

.....

.....



Diş Hekimi

“ ”

.....

.....

.....

.....

.....



Eczacı

“ ”

.....

.....

.....

.....

.....

- Doğru olanlara "D", yanlış olanlara "Y" yazalım.

Çöpleri yere atabiliriz.

Sınıfımızı sık sık havalandırmalıyız.

Bir kıyafeti bir hafta boyunca giymeliyiz.

Tuvalet ve lavaboları temiz kullanmalıyız.

Sağlıklı olmak için temiz bir çevrede yaşamak önemlidir.

Evimizi sadece misafir geleceği zaman temizlemeliyiz.

Oyun alanlarını temiz tutmaya özen göstermeliyiz.

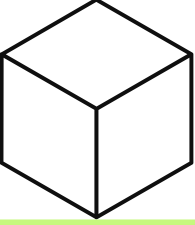
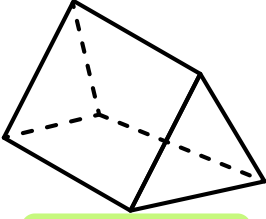
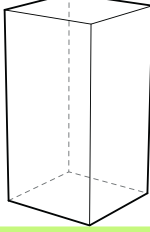


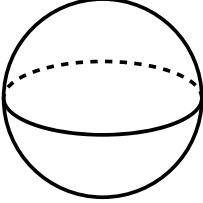
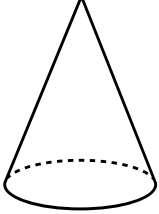


## YARIYIL TATİL ETKİNLİKLERİ 13. GÜN

- Aşağıda isimleri verilen geometrik şekilleri çizip, özelliklerini yazalım.

KARE	DİKDÖRTGEN	ÜÇGEN	ÇEMBER

- Aşağıdaki geometrik cisimlerin adını yazalım.

- Aşağıdaki tabloyu dolduralım.

Cisim	Küp	Dikdörtgen P.	Üçgen P.	Kare P.	Silindir	Küre
çadır						
Kibrit Kutusu						
kova						
peynir						
portakal						
valiz						
buzdolabı						
pil						
zar						
dünya						