

BİLSEM

Bilim ve Sanat Merkezleri
Öğrenci Seçme Sınavı
Hazırlık Kitabı

1. SINIF



TÜM SORULARIN CEVABINA
IŞIK TUTAN "SMARTPEN" İLE
HİÇ TEST ÇÖZDÜNÜZ MÜ?

ÖN SÖZ

Sevgili Geleceğin Dâhileri ve Sayın Anne-Babalar,

Her çocuk özeldir ve geliştirilmeyi bekleyen minik yeteneklerdir. Maalesef okullarımız pek çok çocuğun yeteneklerini keşfetme konusunda yeterli düzeyde değil. Dolayısıyla minik cevherleri keşfetme, ilgi ve becerilerini fark etme işi genellikle aileye düşüyor. Çocuğun hem doğuştan sahip olduğu, hem de sonradan kazandığı yetenek ve becerilerin farkında olabilmek ve bunları ortaya çıkarabilmek, evlatlarımıza yapacağımız en büyük iyiliktir. Ancak bilinçli ebeveynler bu yetenekleri zamanında keşfederek çocuklarına doğru bir yol gösterirler.

Ölkemizde geleceğin parlayan yıldızlarını yetiştirmek gayreti doğrultusunda, özel yetenekli öğrencilerin bireysel yeteneklerinin farkında olmaları ve kapasitelerini geliştirerek en üst düzeyde kullanmalarını sağlamak amacıyla 'Bilim ve Sanat Merkezleri' (BİLSEM) kurulmuştur. Siz değerli anneler ve babalar bir veli olarak çocuklarınızın yeteneklerini keşfetme yolculuğunda elinizdeki cevherin doğru şekillenmesi için elinizden geldiğince gerekli ortamı sağlama çabası içerisindeyiz. İşte bu noktada uzman eğitimcilerin özenle hazırladığı BİLSEM deneme sınavlarının oldukça yararlı olacağını düşünüyoruz.


Bu kitap Milli Eğitim Bakanlığı'nın yaptığı BİLSEM sınavına uygun olarak hazırlanmıştır. BİLSEM sınavının gerek ilk aşaması olan grup tarama uygulamasında gerekse sonraki aşama olan bireysel değerlendirme bölümünde sorulan soruların benzerlerini deneme sınavlarımızda görebileceksiniz. Ayrıca soruların çözümünün detaylı olarak anlatıldığı çözüm kitapçığımız sayesinde çocuklarımız sınava rahat ve doğru bir şekilde hazırlanabilecek.

Bilgi ve teknolojinin akıl almaz bir hızla geliştiği çağımızda eğitim materyallerinin de uygun nitelikte olması düşüncesindeyiz. TEAS PRESS Eğitim Yayınları Grubu olarak bu anlayışla tüm soruların cevabına ışık tutan **SmartPen** teknolojisi ile BİLSEM sınavına hazırlanmayı neşeli bir hale dönüştürdük.

Gerek **SmartPen** gerekse de eğlenceli ve görsel içeriğiyle renkli bir çalışma imkânı sunan bu hazırlık kitabının BİLSEM sınavlarında yüksek başarıyı hedefleyen siz değerli geleceğin üstün yetenekli öğrencileri için vazgeçilmez bir rehber olacağı konusunda şüphemiz yok.

TEAS PRESS Eğitim Yayınları Grubu olarak çocuklarımızın topluma faydalı ve başarılı bir birey olarak yetişmelerine katkıda bulunmayı hedeflemekteyiz. Bu amaçla uzman eğitimcilerin özenle hazırladığı bu değerli yayını sizlerin ilgisine sunuyoruz. Yayınlarımızı ilgi ve beğeniyle takip eden siz değerli öğrenci ve velilerimize teşekkür eder, başarılar dileriz.

1. Aşağıdaki resimleri oluş sırasına göre sıralayın.



3. Aşağıdaki hayvanlardan hangisi bir yönüyle diğerlerinden farklıdır?

A)



B)



C)



D)



4. Aşağıdaki çaydanlıkların yandan ve yukarıdan görünüşleri hangi seçenekte doğru verilmiştir?



A) 1-A, 2-B, 3-C

C) 1-B, 2-C, 3-A

B) 1-C, 2-A, 3-B

D) 1-B, 2-A, 3-C

5. Soru işareti olan yere hangi sayı gelmelidir?

BC = 21	CD = 14
AB = 52	CE = 18
AC = 51	DE = 48
BD = 24	DA = 45

EDCBA = ?

A) 52148


B) 84125

C) 81425

D) 84152

6. Aynı yere gitmeye çalışan aşağıdaki dört hayvan, aynı anda yola çıksa hangisi gidilecek yere en son varır?

A)



B)



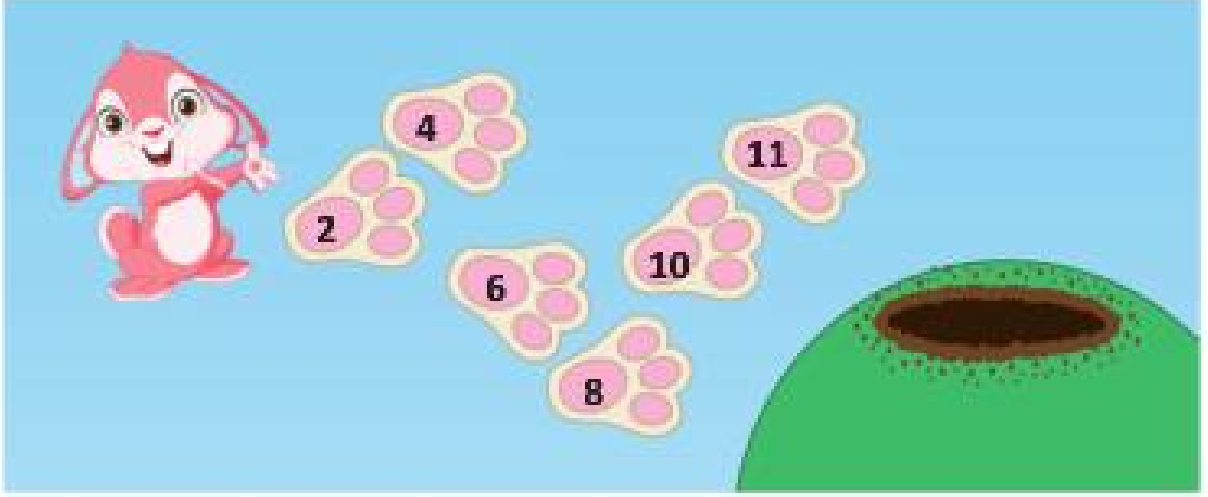
C)



D)



7. Evine ulaşmak için ikişer ritmik sayarak zıplayan tavşan hangi adımında hata yapmıştır?



- A) B) C) D)

8. İlk iki resim arasındaki ilişkiye göre soru işareti olan kutuya hangi resim gelmelidir?

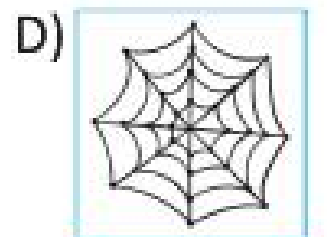






- A) B) C) D)




9. Trafik işareti ile aşağıdakilerden hangisi arasında bir ilişki vardır?



10. İlk iki resim arasındaki ilişkiye bakılırsa soru işareti olan yere hangi resim gelmelidir?



11. Aşağıdaki karelerin dizilişine göre soru işareti olan yere hangisi gelmelidir?



12. Aşağıdaki resimde uçabilen kaç tane hayvan vardır?





A) 4

B) 5





C) 6

D) 7

13. İnekle ilgisi olmayan yiyecek hangisidir?



14. Aşağıdakilerden hangisi verilen şeklin kopmuş parçasıdır?



15. Aşağıdakilerden hangisi bir yönüyle diğerlerinden farklıdır?

A)



B)



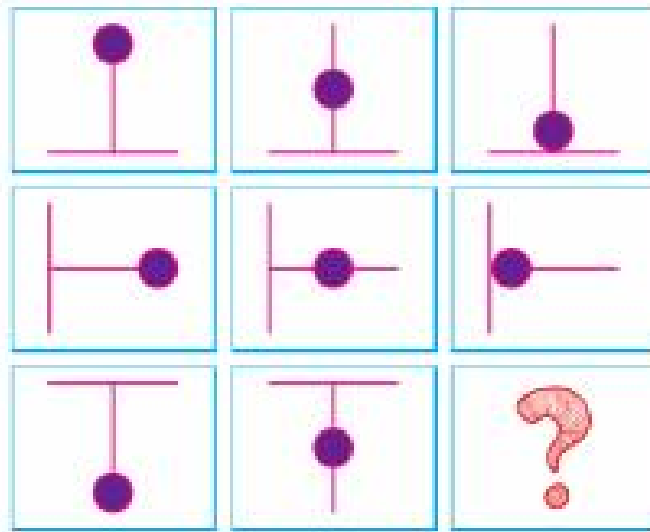
C)




D)



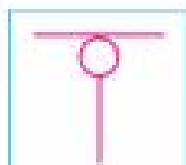
16. Aşağıda soru işareti olan yere hangisi gelmelidir?




A)




B)



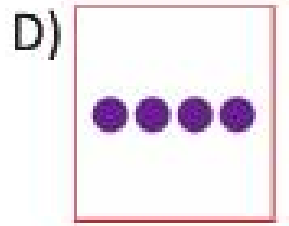



C)




D)



17. Soru işareti olan yere hangisi gelmelidir?



18. Aşağıdaki limonlardan oluşan örüntünün harflerle gösterilmiş hali hangisidir?



19. Yeşil bir evim, mavi havuzum, bir yavru bir de büyük ördeğim var. Hangisi benim evimin resmi olabilir?

A)



B)



C)



D)



20. Hangi resim aya inmek üzere olan roketi gösterir?

A)



B)




C)







D)



21. Aşağıdaki resimlerin sıralanışına göre boş olan kutuya hangi resim gelmelidir?




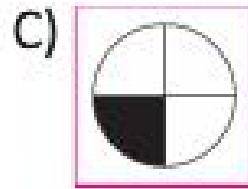

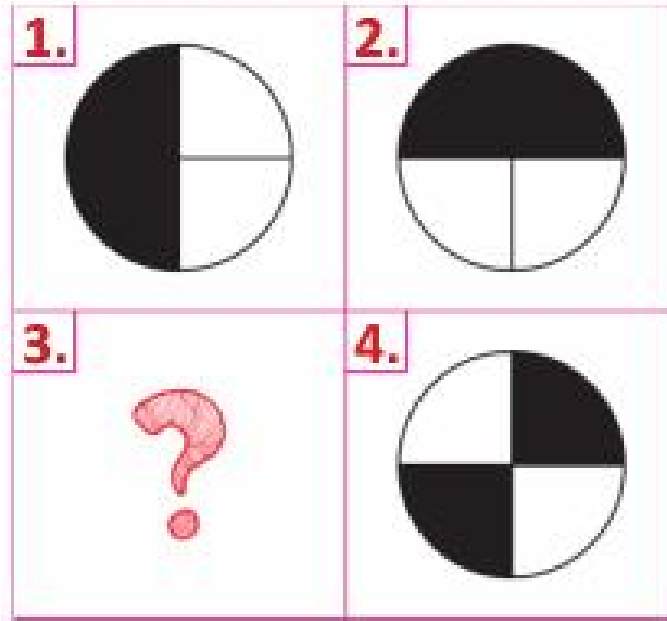
- A)  B)  C)  D) 

22. Soru işareti olan yere hangisi gelmelidir?



- A)  B)  C)  D) 

23. 1. ve 2. şekillerin birbirleriyle olan ilişkisine bakılırsa soru işareti olan yere hangisi gelmelidir?



24. Sadece bir rakamın yerini değiştirerek aşağıdaki eşitliği sağlayabilir misin?

91

-

18

=

1

25. Aşağıdakilerden hangisi M harfinin saat yönünde yarım tur döndürülmüş halidir? (180° derece)

A)

M

B)

Σ

C)

W


D)

Σ




26. Aşağıdakilerden hangisi çocuğun duruş şekillerinden birinin örneği değildir?

A)



B)




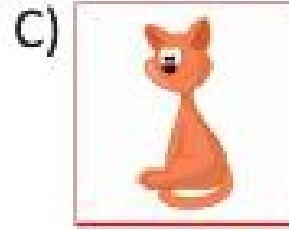



C)



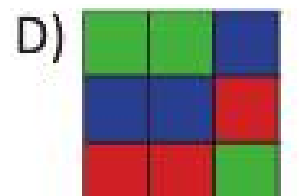
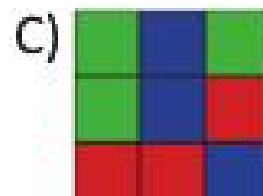
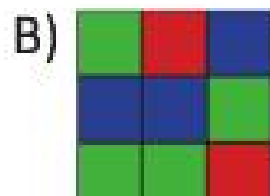
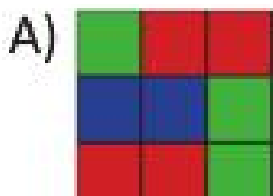
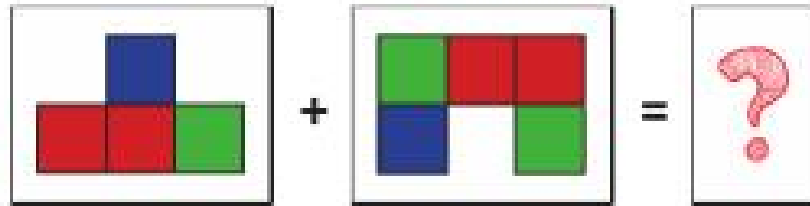
D)



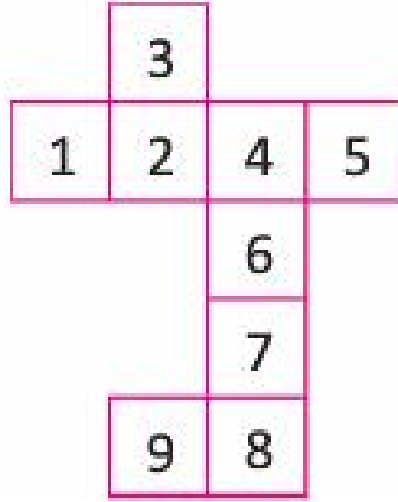
27. Soru işareti olan yere hangisi gelmelidir?



28. İki şeklin birleşmiş hali aşağıdakilerden hangisidir?




29. Aşağıdaki şeklin bir zarın açılımı olması için kaç tane yüzü çıkarılmalıdır?



- A) 1 B) 2 C) 3 D) 4

30. Portakal ve havuç arasındaki ilişki limonla hangisi arasında vardır?



- A)  B)  C)  D) 

BİLSEM

Bilim ve Sanat Merkezleri
Öğrenci Seçme Sınavı
Hazırlık Kitabı

1. SINIF



TÜM SORULARIN CEVABINA
IŞIK TUTAN "SMARTPEN" İLE
HİÇ TEST ÇÖZDÜNÜZ MÜ?



TEAC



ÖN SÖZ

Sevgili Geleceğin Dâhileri ve Sayın Anne-Babalar,

Her çocuk özeldir ve geliştirilmeyi bekleyen minik yeteneklerdir. Maalesef okullarımız pek çok çocuğun yeteneklerini keşfetme konusunda yeterli düzeyde değil. Dolayısıyla minik cevherleri keşfetme, ilgi ve becerilerini fark etme işi genellikle aileye düşüyor. Çocuğun hem doğuştan sahip olduğu, hem de sonradan kazandığı yetenek ve becerilerin farkında olabilmek ve bunları ortaya çıkarabilmek, evlatlarımıza yapacağımız en büyük iyiliktir. Ancak bilinçli ebeveynler bu yetenekleri zamanında keşfederek çocuklarına doğru bir yol gösterirler.

Ülkemizde geleceğin parlayan yıldızlarını yetiştirmek gayreti doğrultusunda, özel yetenekli öğrencilerin bireysel yeteneklerinin farkında olmaları ve kapasitelerini geliştirerek en üst düzeyde kullanmalarını sağlamak amacıyla ‘Bilim ve Sanat Merkezleri’ (BİLSEM) kurulmuştur. Siz değerli anneler ve babalar bir veli olarak çocuklarınızın yeteneklerini keşfetme yolculuğunda elinizdeki cevherin doğru şekillenmesi için elinizden geldiğince gerekli ortamı sağlama çabası içerisindeyiz. İşte bu noktada uzman eğitimcilerin özenle hazırladığı BİLSEM deneme sınavlarının oldukça yararlı olacağını düşünüyoruz.

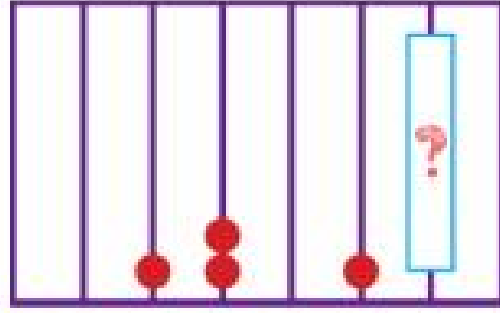
Bu kitap Milli Eğitim Bakanlığı’nın yaptığı BİLSEM sınavına uygun olarak hazırlanmıştır. BİLSEM sınavının gerek ilk aşaması olan grup tarama uygulamasında gerekse sonraki aşama olan bireysel değerlendirme bölümünde sorulan soruların benzerlerini deneme sınavlarımızda görebileceksiniz. Ayrıca soruların çözümünün detaylı olarak anlatıldığı çözüm kitapçığımız sayesinde çocuklarımız sınava rahat ve doğru bir şekilde hazırlanabilecek.

Bilgi ve teknolojinin akıl almaz bir hızla geliştiği çağımızda eğitim materyallerinin de uygun nitelikte olması düşüncesindeyiz. TEAS PRESS Eğitim Yayınları Grubu olarak bu anlayışla tüm soruların cevabına ışık tutan **SmartPen** teknolojisi ile BİLSEM sınavına hazırlanmayı neşeli bir hale dönüştürdük.


Gerek **SmartPen** gerekse de eğlenceli ve görsel içeriğiyle renkli bir çalışma imkânı sunan bu hazırlık kitabının BİLSEM sınavlarında yüksek başarıyı hedefleyen siz değerli geleceğin üstün yetenekli öğrencileri için vazgeçilmez bir rehber olacağı konusunda şüphemiz yok.

TEAS PRESS Eğitim Yayınları Grubu olarak çocuklarımızın topluma faydalı ve başarılı bir birey olarak yetişmelerine katkıda bulunmayı hedeflemekteyiz. Bu amaçla uzman eğitimcilerin özenle hazırladığı bu değerli yayını sizlerin ilgisine sunuyoruz. Yayınlarımızı ilgi ve beğeniyle takip eden siz değerli öğrenci ve velilerimize teşekkür eder, başarılar dileriz.

1. Soru işareti olan yere aşağıdakilerden hangisi gelmelidir?



A)



B)



C)



D)



2. Hangi araç sağa doğru gidiyor?

A)



B)



C)



D)



3. Kaç tane mor balon görebiliyorsun?



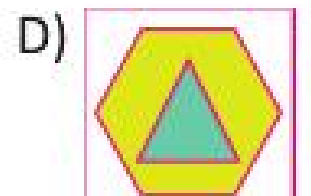
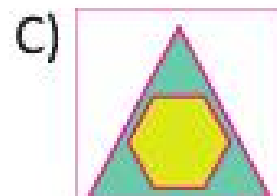
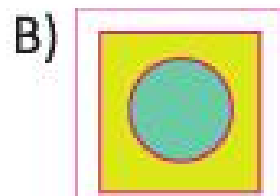
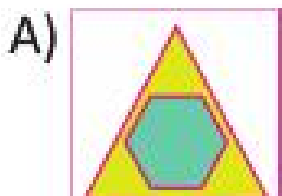

A) 1

B) 5




C) 3

D) 4



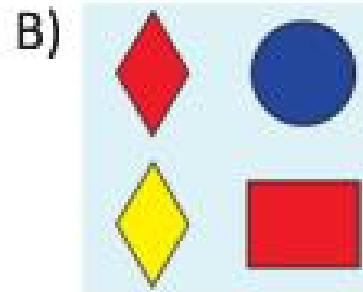
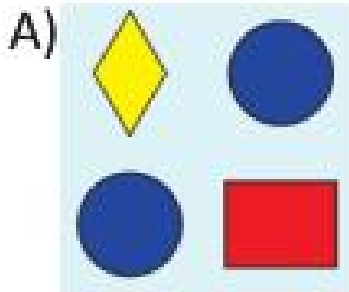

4. Soru işareti yerine hangisi gelmelidir?



5. Beyaz şapkalı, siyah beyaz topa vuran, beyaz tişörtlÜ, kısa pantolonlu çocuęu gösteren resim hangisidir?



6. Aşağıdakilerden hangisiyle yukarıdaki birbirinin eşidir?



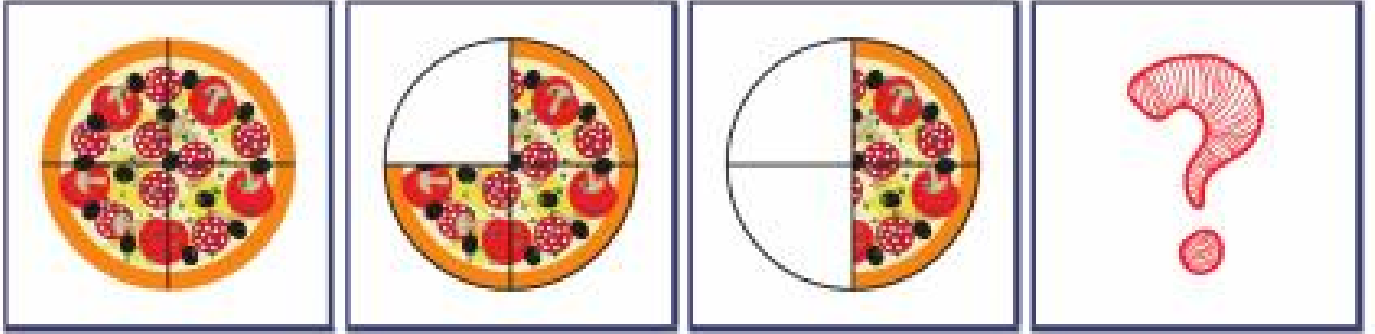
7. Soru işareti olan yere hangisi gelmelidir?



8. Aşağıdaki resimdeki trafik lambasında yanlış kullanılan renk hangisidir?



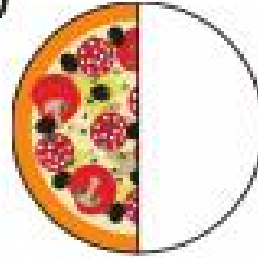
9. Aşağıdaki verilen pizza dizilişine göre soru işareti olan yere hangisi gelmelidir?



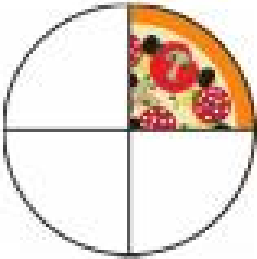
A)




B)



C)



D)



10. Aşağıdaki karelerden hangisi örüntüyü bozmaktadır?



A) 4

B) 5

C) 6

D) 7

11. Hangi resimde bir doğum günü partisine gitmek için hazırlanmış birisi vardır?

A)



B)



C)



D)



12. Hangi kurbağa bir yönüyle diğerlerinden farklı?

A)




B)




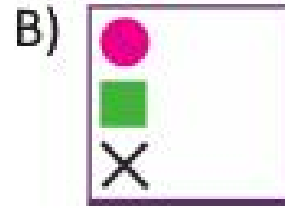

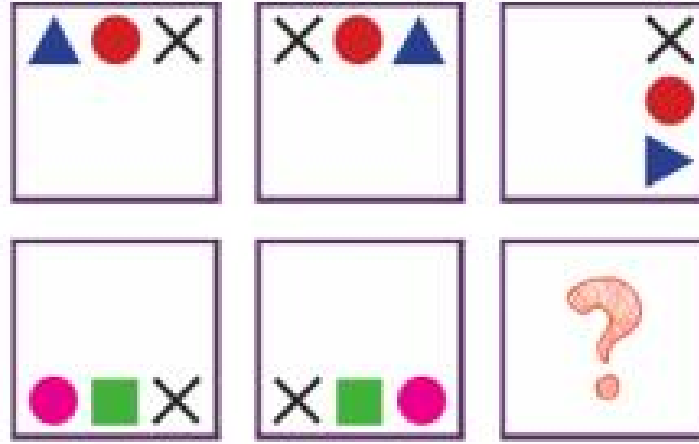
C)




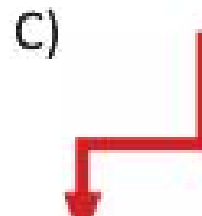
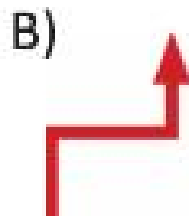

D)



13. Soru işareti olan yere hangisi gelmelidir?



14. Yukarıdaki şeklin saat yönünde çeyrek tur döndürülmüş hali aşağıdakilerden hangisidir? (90° derece)



15. Soru işareti olan yere hangisi gelmelidir?



A)



B)



C)








D)



16. Aşağıdaki resimde eşi olmayanı daire içine alabilir misiniz?



17. Soru işareti olan yere hangisi gelmelidir?




7 ₺

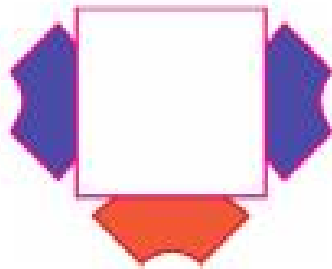


18. Yukarıdaki oyuncakı hangi parayla alamayız?



19. Basri Amca mahalledeki 6 çocuğa 24 kurabiyeyi paylaştirmek istiyor. Her bir çocuk kaç kurabiye alır?




20. Soru işareti olan yere hangisi gelmelidir?




21. Büyük – Küçük arasındaki ilişki aşağıdakilerden hangisinde yoktur?

Güzel – Çirkin	Yaşlı – Genç	Uzun – Kısa	Yuvarlak – Kare
A)	B)	C)	D)


22. Soru işareti olan yere hangisi gelmelidir?




A)



B)



C)



D)



23. Aşağıdakilerden hangisi diğerlerinden farklıdır?

A)



B)



C)



D)



24. Aşağıdaki meslek isimlerinin hangisinde 'E' sesi vardır?

A)



B)






C)




D)




25. Soru işareti olan yere hangisi gelmelidir?




A)




B)



C)



D)



26. Hangi iki şekil birleştirilirse yukarıdaki fincan şekli oluşur?



1




2



3



4



5

A) 2 ve 4

B) 1 ve 4

C) 1 ve 5

D) 1 ve 3

27. $A = 5$ $B = 6$ $C = 7$ $D = 8$ ise

BCCDA sayısı aşağıdakilerden hangisidir?

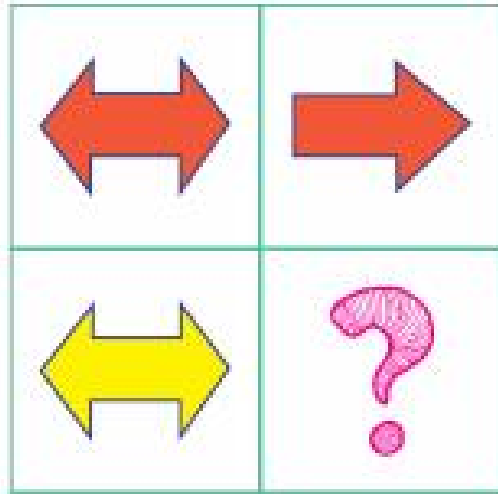
A) 67765


B) 56675


C) 5778

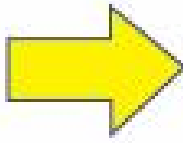
D) 67785

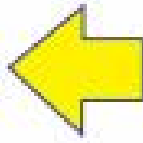
28. Soru işareti olan yere hangisi gelmelidir?








A) 

B) 

C) 

D) 

29. Soru işareti olan yere hangi parça gelmelidir?



30. Aşağıda 1'den 40'a kadar sayılar yazılırken hangi sayı unutulmuştur?

1	2	3	4	5	6	7	8	9	10
11	12	13	14	15	16	17	18	19	20
21	22	23	24	25	26	27	28	29	30
31	33	34	35	36	37	38	39	40	

A) 39

B) 33

C) 32

D) 30

BİLSEM

•Anlama •Sınıflama •Sıralama •Problem Kurma ve Çözme •Sorgulama •İşlevi Kurma •Değerlendirme •Tartışma
•Ana Dilini Etkin Biçimde Kullanabilme •Karar Verebilme •Birlikte Karar Verme •Çözümleyebilme
•Sonuçı Belirleme ve Çözme •Bir Sonuç Varmı •Vardığı Sonuçları Sorgulama •Değerlendirme
•Bilgiyi Anlatarak Elde Etme, Bulma ve Yorumlama •Değerinde Yapılandırma •Kendini Anlatabilme
•Hatırlama Açık Olma •Gerektiğinde İş Birliği Yapma •Örgütme •Bilgi Teknolojilerini Aktif Kullanabilme
•Okumaktan ve Öğrenmekten Zevk Alma •Verilere Dayalı Tahminlerde Bulunabilme •Sesli •Uzay
•BüyükÖk ve bunların içerisindeki öğrenen kavramı gibi ilke ve kazanımları temel alınarak hazırlanmıştır.

Konular basitten zora doğru aktif (etkin) öğrenme yöntemlerine bağlı olarak işlenmiştir.
Çocukların nesnelerle, simgeler, olaylarla, objeler arasında doğru ilişki kurabilmeleri hedeflenmiştir.

BİLSEM

Bilim ve Sanat Merkezleri
Öğrenci Seçme Sınavı
Hazırlık Kitabı

1. SINIF



TÜM SORULARIN CEVABINA
IŞIK TUTAN "SMARTPEN" İLE
HİÇ TEST ÇÖZDÜNÜZ MÜ?



TEAS



ÖN SÖZ

Sevgili Geleceğin Dâhileri ve Sayın Anne-Babalar,

Her çocuk özeldir ve geliştirilmeyi bekleyen minik yeteneklerdir. Maalesef okullarımız pek çok çocuğun yeteneklerini keşfetme konusunda yeterli düzeyde değil. Dolayısıyla minik cevherleri keşfetme, ilgi ve becerilerini fark etme işi genellikle aileye düşüyor. Çocuğun hem doğuştan sahip olduğu, hem de sonradan kazandığı yetenek ve becerilerin farkında olabilmek ve bunları ortaya çıkarabilmek, evlatlarımıza yapacağımız en büyük iyiliktir. Ancak bilinçli ebeveynler bu yetenekleri zamanında keşfederek çocuklarına doğru bir yol gösterirler.

Ülkemizde geleceğin parlayan yıldızlarını yetiştirmek gayreti doğrultusunda, özel yetenekli öğrencilerin bireysel yeteneklerinin farkında olmaları ve kapasitelerini geliştirerek en üst düzeyde kullanmalarını sağlamak amacıyla ‘Bilim ve Sanat Merkezleri’ (BİLSEM) kurulmuştur. Siz değerli anneler ve babalar bir veli olarak çocuklarınızın yeteneklerini keşfetme yolculuğunda elinizdeki cevherin doğru şekillenmesi için elinizden geldiğince gerekli ortamı sağlama çabası içerisindeyiz. İşte bu noktada uzman eğitimcilerin özenle hazırladığı BİLSEM deneme sınavlarının oldukça yararlı olacağını düşünüyoruz.

Bu kitap Milli Eğitim Bakanlığı’nın yaptığı BİLSEM sınavına uygun olarak hazırlanmıştır. BİLSEM sınavının gerek ilk aşaması olan grup tarama uygulamasında gerekse sonraki aşama olan bireysel değerlendirme bölümünde sorulan soruların benzerlerini deneme sınavlarımızda görebileceksiniz. Ayrıca soruların çözümünün detaylı olarak anlatıldığı çözüm kitapçığımız sayesinde çocuklarımız sınava rahat ve doğru bir şekilde hazırlanabilecek.

Bilgi ve teknolojinin akıl almaz bir hızla geliştiği çağımızda eğitim materyallerinin de uygun nitelikte olması düşüncesindeyiz. TEAS PRESS Eğitim Yayınları Grubu olarak bu anlayışla tüm soruların cevabına ışık tutan **SmartPen** teknolojisi ile BİLSEM sınavına hazırlanmayı neşeli bir hale dönüştürdük.

Gerek **SmartPen** gerekse de eğlenceli ve görsel içeriğiyle renkli bir çalışma imkânı sunan bu hazırlık kitabının BİLSEM sınavlarında yüksek başarıyı hedefleyen siz değerli geleceğin üstün yetenekli öğrencileri için vazgeçilmez bir rehber olacağı konusunda şüphemiz yok.

TEAS PRESS Eğitim Yayınları Grubu olarak çocuklarımızın topluma faydalı ve başarılı bir birey olarak yetişmelerine katkıda bulunmayı hedeflemekteyiz. Bu amaçla uzman eğitimcilerin özenle hazırladığı bu değerli yayını sizlerin ilgisine sunuyoruz. Yayınlarımızı ilgi ve beğeniyle takip eden siz değerli öğrenci ve velilerimize teşekkür eder, başarılar dileriz.

1. Aşağıdakilerden hangisinde annesinin kesesinde bebek kanguru, ağaçta duran koala ve kuş resmi görülmektedir?

A)



B)



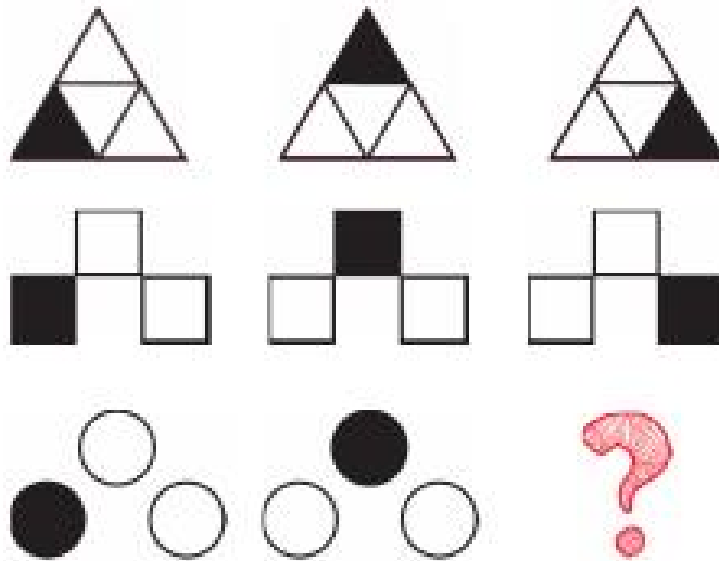
C)




D)




2. Soru işareti olan yere hangisi gelmelidir?



A)



B)



C)




D)



3. Soru işareti olan yere hangisi gelmelidir?



A)



B)



C)



D)



4. Aşağıdaki resimleri oluş sırasına göre sıralayınız.




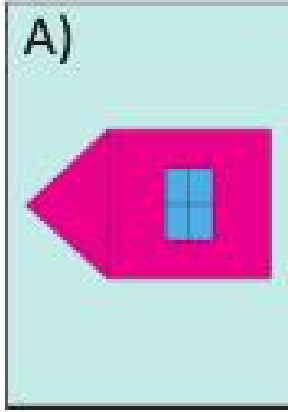
A) 1 - 3 - 4 - 2

B) 1 - 3 - 2 - 4

C) 4 - 2 - 3 - 1

D) 1 - 2 - 3 - 4

5. Aşağıdakilerden hangisi ters dönmüş bir ev resmini gösterir?



6. Soru işareti olan yere hangisi gelmelidir?



7. Aşağıdaki resimde kaç tane pembe çiçek vardır?



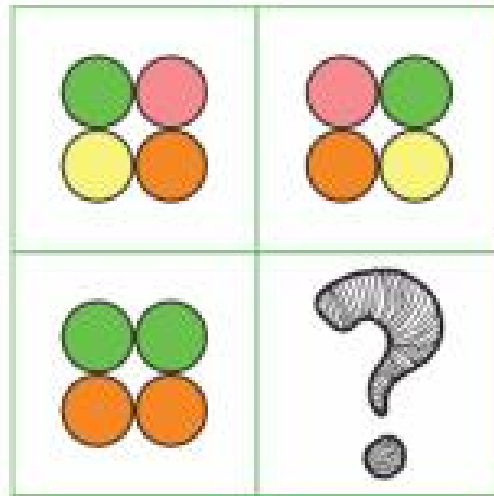
A) 4

B) 5

C) 6

D) 7

8. Aşağıdaki soru işareti olan yere hangisi gelmelidir?



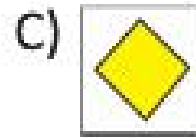
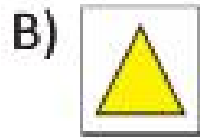
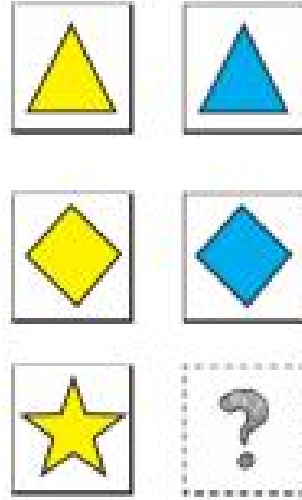
A)

B)

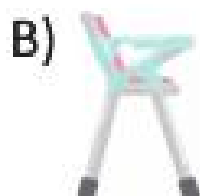


C)

D)

9. Soru işareti olan yere hangisi gelmelidir?





10. Soru işareti olan yere hangisi gelmelidir?



11. Hangisi adamın gölgesidir?



12. Hangisi bir yönüyle diğerlerinden farklıdır?



13. Hangisi bir canlı değildir?

A)



B)



C)



D)



14. Hangisi daha az süt alır?

A)



B)



C)



D)



15. Hangisi diğerlerinden daha hızlı bir ulaşım aracıdır?

A)



B)




C)



D)



16. Aşağıdaki örüntünün harflerle gösterilmiş hali hangisidir?



A)

ABB

B)

ABA

C)

ABC

D)

ABA

17. Hangi saat 'tam bir saati' gösterir?

A)




B)



C)



D)

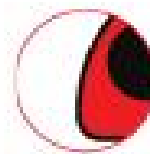


18. Aşağıdakilerden hangisi yukarıdaki uęur böceęini tamamlayan parçadır?

A)



B)



C)








D)

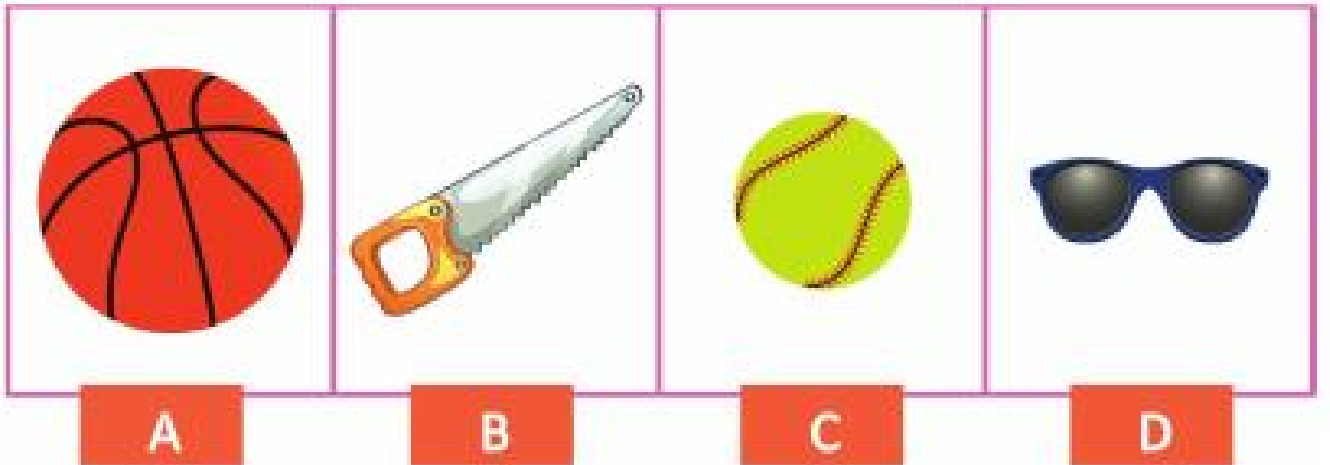




19. Soru işareti olan yere hangisi gelmelidir?



20. Hangi ikisi bir yönüyle birbirleriyle ilişkilidir?



A) A ve B

B) B ve C

C) A ve C

D) C ve D

21. Murat annesi, babası, abisi ve erkek kardeşiyle birlikte fotoğraf çektirdiğine göre aşağıdakilerden hangisi bu fotoğraf olabilir?

A)



B)



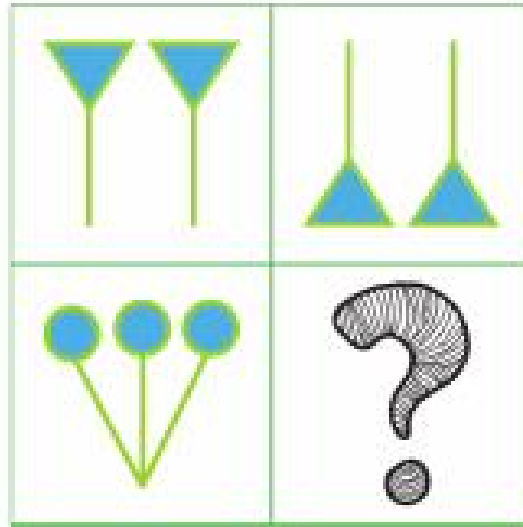
C)



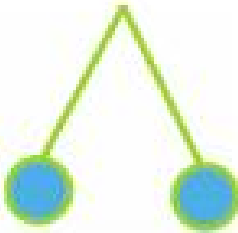
D)




22. Soru işareti olan yere hangisi gelmelidir?




A)



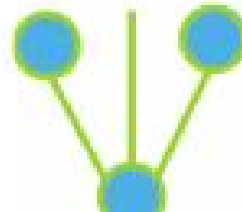
B)






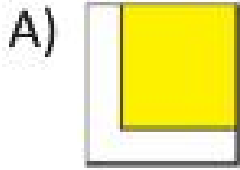
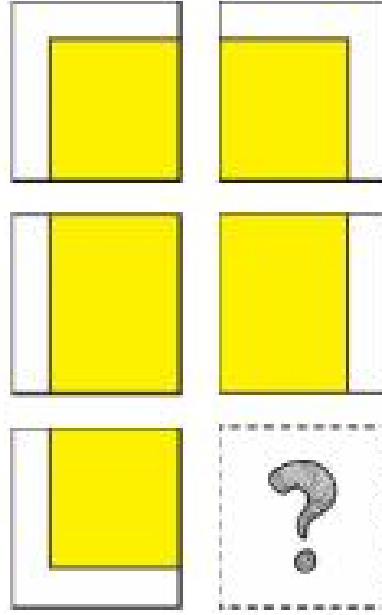
C)







D)



23. Soru işareti olan yere hangisi gelmelidir?



24. Cıvcıv hangi resimde sağa doğru bakmaktadır?



25. Soru işareti olan yere hangi ay gelmelidir?



A)

Haziran

B)

Eylül

C)

Şubat

D)

Mart

26. Hangisinde hayvanlarla, yavrularına verilen adlar eşleştirilirken yanlışlık yapılmıştır?

A)

İnek yavrusu: Buzağı

B)

At yavrusu: Tay




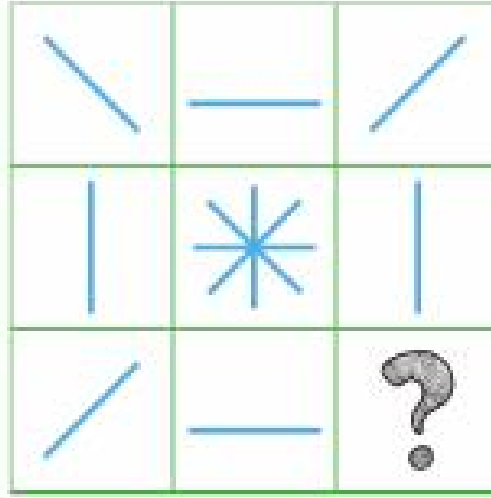
C)

Tavuk yavrusu: Cıvcıv

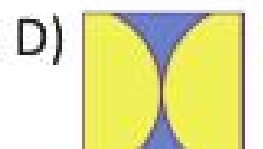

D)

Keçi yavrusu: Kuzu

27. Soru işareti olan yere hangisi gelmelidir?




28. Soru işareti olan yere hangisi gelmelidir?





29. Yukarıda verilen hayvanın adında aşağıdaki harflerden hangisi yoktur?


A)




B)



C)




D)




30. Hangisi 2 eşit parçaya ayrılmıştır?


A)




B)



C)



D)



BİLSEM

•Anlama •Sınıflama •Sıralama •Problem Kurma ve Çözme •Sorgulama •İşlemler •Değerlendirme •Tartışma
•Ana Dilini Etkin Biçimde Kullanabilme •Karar Verebilme •Birlikte Karar Verme •Çözümleyebilme
•Sonuç Bulabilme ve Çözme •Bir Sonuç Varmı •Vardığı Sonuçları Sorgulama •Değerlendirme
•Bilgiyi Anlatarak Ede Ede, Bulma ve Yorumlama •Değerlendirme •Yeni Bir Anlatımla
•Bilgiyi Açık Olma •Gerekliğinde İş Bilgi Yapma •Öğrenme •Bilgi Teknolojilerini Aktif Kullanabilme
•Okumaktan ve Öğrenmekten Zevk Alma •Verilere Dayalı Tahminlerde Bulunabilme •Sevki •Uzay
•Büyük Ök ve bunları Anlatarak İşleri kavrama gibi ilke ve kazanımları temel alınarak hazırlanmıştır.

Konular basitten zora doğru aktif (etkin) öğrenme yöntemlerine bağlı olarak işlenmiştir.
Çocukların nesnelerle, simgeler, olaylarla ilgiler arasında doğru ilişki kurabilmeleri hedeflenmiştir.

BİLSEM

Bilim ve Sanat Merkezleri
Öğrenci Seçme Sınavı
Hazırlık Kitabı

1. SINIF



TÜM SORULARIN CEVABINA
IŞIK TUTAN "SMARTPEN" İLE
HİÇ TEST ÇÖZDÜNÜZ MÜ?



TEAC



ÖN SÖZ

Sevgili Geleceğin Dâhileri ve Sayın Anne-Babalar,

Her çocuk özeldir ve geliştirilmeyi bekleyen minik yeteneklerdir. Maalesef okullarımız pek çok çocuğun yeteneklerini keşfetme konusunda yeterli düzeyde değil. Dolayısıyla minik cevherleri keşfetme, ilgi ve becerilerini fark etme işi genellikle aileye düşüyor. Çocuğun hem doğuştan sahip olduğu, hem de sonradan kazandığı yetenek ve becerilerin farkında olabilmek ve bunları ortaya çıkarabilmek, evlatlarımıza yapacağımız en büyük iyiliktir. Ancak bilinçli ebeveynler bu yetenekleri zamanında keşfederek çocuklarına doğru bir yol gösterirler.

Ülkemizde geleceğin parlayan yıldızlarını yetiştirmek gayreti doğrultusunda, özel yetenekli öğrencilerin bireysel yeteneklerinin farkında olmaları ve kapasitelerini geliştirerek en üst düzeyde kullanmalarını sağlamak amacıyla ‘Bilim ve Sanat Merkezleri’ (BİLSEM) kurulmuştur. Siz değerli anneler ve babalar bir veli olarak çocuklarınızın yeteneklerini keşfetme yolculuğunda elinizdeki cevherin doğru şekillenmesi için elinizden geldiğince gerekli ortamı sağlama çabası içerisindeyiz. İşte bu noktada uzman eğitimcilerin özenle hazırladığı BİLSEM deneme sınavlarının oldukça yararlı olacağını düşünüyoruz.

Bu kitap Milli Eğitim Bakanlığı’nın yaptığı BİLSEM sınavına uygun olarak hazırlanmıştır. BİLSEM sınavının gerek ilk aşaması olan grup tarama uygulamasında gerekse sonraki aşama olan bireysel değerlendirme bölümünde sorulan soruların benzerlerini deneme sınavlarımızda görebileceksiniz. Ayrıca soruların çözümünün detaylı olarak anlatıldığı çözüm kitapçığımız sayesinde çocuklarımız sınava rahat ve doğru bir şekilde hazırlanabilecek.

Bilgi ve teknolojinin akıl almaz bir hızla geliştiği çağımızda eğitim materyallerinin de uygun nitelikte olması düşüncesindeyiz. TEAS PRESS Eğitim Yayınları Grubu olarak bu anlayışla tüm soruların cevabına ışık tutan **SmartPen** teknolojisi ile BİLSEM sınavına hazırlanmayı neşeli bir hale dönüştürdük.

Gerek **SmartPen** gerekse de eğlenceli ve görsel içeriğiyle renkli bir çalışma imkânı sunan bu hazırlık kitabının BİLSEM sınavlarında yüksek başarıyı hedefleyen siz değerli geleceğin üstün yetenekli öğrencileri için vazgeçilmez bir rehber olacağı konusunda şüphemiz yok.

TEAS PRESS Eğitim Yayınları Grubu olarak çocuklarımızın topluma faydalı ve başarılı bir birey olarak yetişmelerine katkıda bulunmayı hedeflemekteyiz. Bu amaçla uzman eğitimcilerin özenle hazırladığı bu değerli yayını sizlerin ilgisine sunuyoruz. Yayınlarımızı ilgi ve beğeniyle takip eden siz değerli öğrenci ve velilerimize teşekkür eder, başarılar dileriz.

1. Hangi resim kucağında köpek, ayağının yanında kedi, arkasındaki kafeste de kuş olan bir adam resmini göstermektedir?


A)



B)



C)



D)



2. Hangisi bir özelliğiyle diğerlerinden farklıdır?

A)



B)



C)



D)



3. Soru işareti olan yere hangisi gelmelidir?



B)



C)



D)



4. Aşağıdakilerden hangisinde bir araba sağa, bir araba sola gitmektedir?

A)



B)




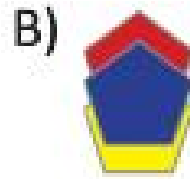

C)




D)



5. Soru işareti olan yere hangisi gelmelidir?



6. Aşağıda gizlenmiş L harfini bulabilir misin?




7. Aşağıdaki hayvanlardan hangisi bir yönüyle diğerlerinden farklıdır?

A)



B)



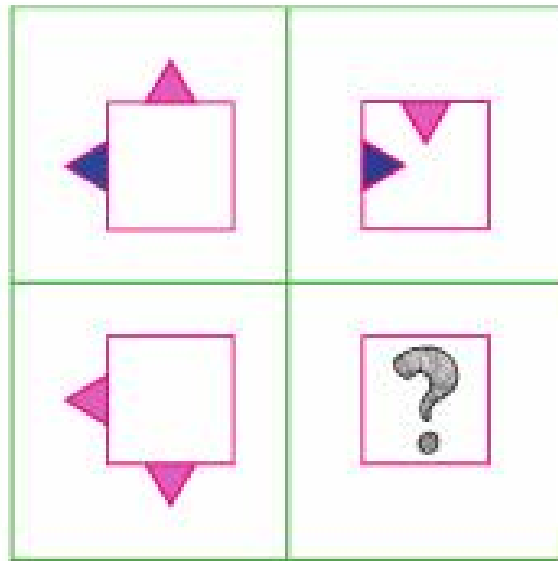
C)




D)




8. Soru işareti olan yere hangisi gelmelidir?



A)



B)



C)



D)



9. Resimleri oluş sırasına göre sıralayabilir misin?



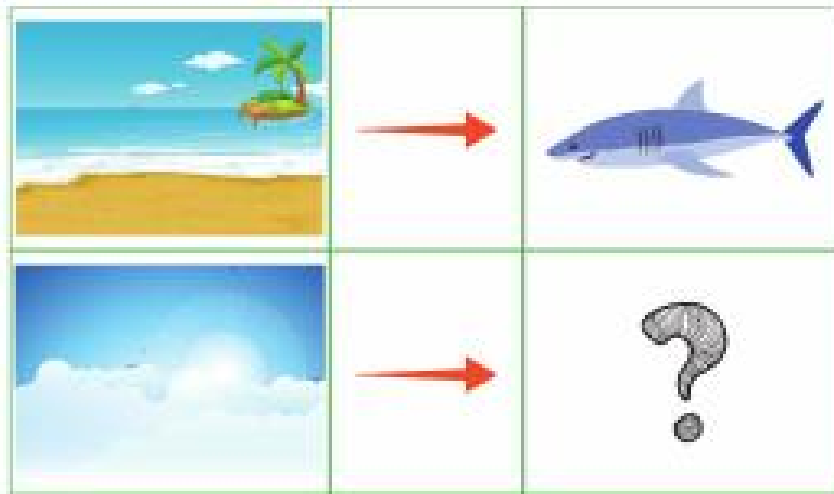
A) 1 - 3 - 4 - 2

B) 1 - 3 - 2 - 4

C) 3 - 4 - 1 - 2

D) 1 - 2 - 3 - 4

10. Soru işareti olan yere hangisi gelmelidir?



A)



B)





C)



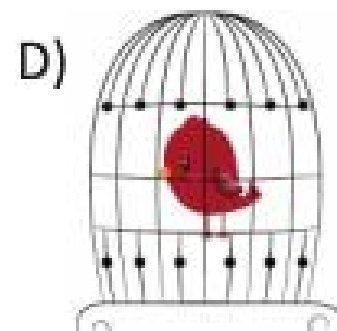

D)



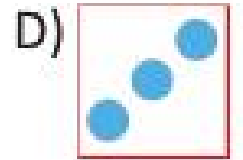
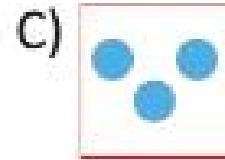



11. Soru işareti olan yere hangisi gelmelidir?



12. Hangi resim uçan bir kuşu gösterir?



13. Soru işareti olan yere hangisi gelmelidir?



14. Gitar çalan kaç tane baykuş vardır?



A) 4

B) 3

C) 2

D) 1

15. Aşağıdaki resimlerde anlatılan mevsimler hangisinde doğru sıralanmıştır?



1



2




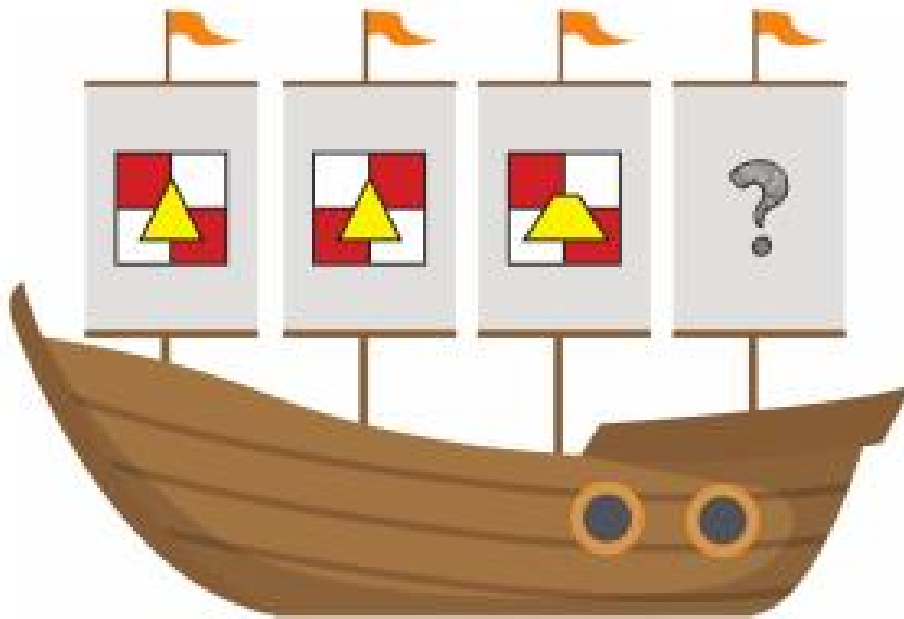
3



4

- A) ilkbahar - yaz - sonbahar - kış
 B) kış - yaz - ilkbahar - sonbahar
 C) kış - sonbahar - yaz - ilkbahar
 D) yaz - sonbahar - kış - ilkbahar

16. Soru işareti olan yere hangisi gelmelidir?



17. 4 yarım kaç bütün eder?



A) 1

B) 2

C) 3

D) 4

18. Aşağıdaki hayvanlardan hangisi en ağırdır?



19. Resmin eksik parçalarını bulup eşleştirin.



1



2



3



4






5






6

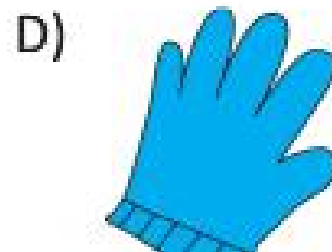

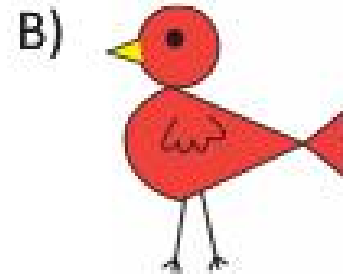
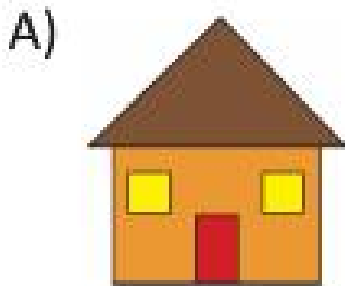
20. Soru işareti olan yere hangisi gelmelidir?



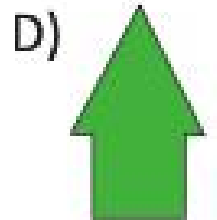
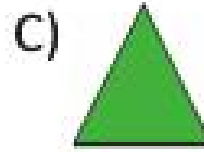


21. Soru işareti olan yere hangi tırtıl gelmelidir?



22. Aşağıdakilerden hangisi iki eş parçaya bölünebilir?



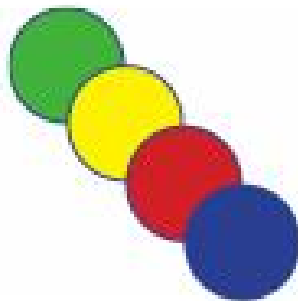
23. Aşağıdakilerden hangisi resmin eksik parçasıdır?



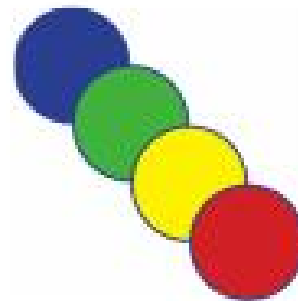
24. Aşağıdaki örüntüye göre soru işareti olan yerde en arkada bulunan şeklin rengi ne olmalıdır?



1




2



3




4

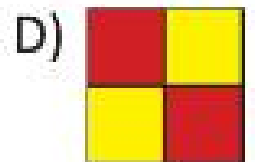
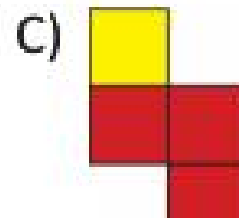
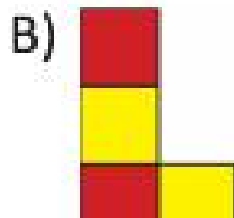
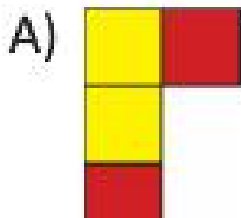





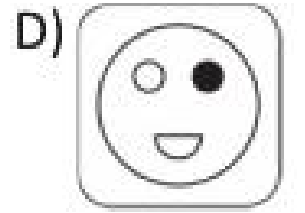
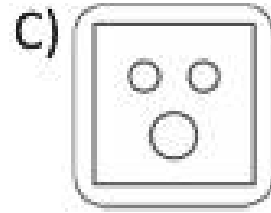



25. Yukarıdakiler aynı sesle başlamaktadır. Hangisinde aynı ilişki vardır?



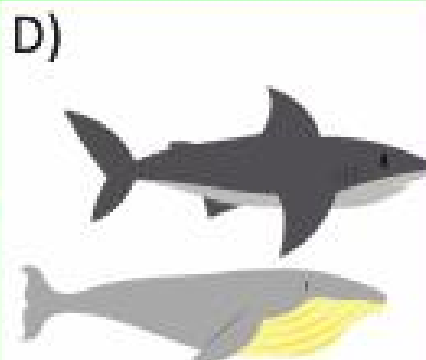

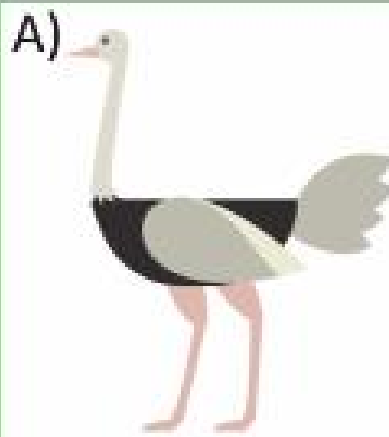
26. Aşağıdaki kareler kullanılarak hangi şekil yapılamaz?



27. Soru işareti olan yere hangisi gelmelidir?




28. Hangisi bir özelliğiyle diğerlerinden farklıdır?



29. Aşağıdaki resimde diğerlerinden farklı olanı bulun.



30. Aşağıda bir düzine kuş olması için kaç tane daha kuş gelmelidir?



A) 1

B) 2

C) 3

D) 4

BİLSEM

Bilim ve Sanat Merkezleri
Öğrenci Seçme Sınavı
Hazırlık Kitabı

1. SINIF



TÜM SORULARIN CEVABINA
IŞIK TUTAN "SMARTPEN" İLE
HİÇ TEST ÇÖZDÜNÜZ MÜ?



TEAC



ÖN SÖZ

Sevgili Geleceğin Dâhileri ve Sayın Anne-Babalar,

Her çocuk özeldir ve geliştirilmeyi bekleyen minik yeteneklerdir. Maalesef okullarımız pek çok çocuğun yeteneklerini keşfetme konusunda yeterli düzeyde değil. Dolayısıyla minik cevherleri keşfetme, ilgi ve becerilerini fark etme işi genellikle aileye düşüyor. Çocuğun hem doğuştan sahip olduğu, hem de sonradan kazandığı yetenek ve becerilerin farkında olabilmek ve bunları ortaya çıkarabilmek, evlatlarımıza yapacağımız en büyük iyiliktir. Ancak bilinçli ebeveynler bu yetenekleri zamanında keşfederek çocuklarına doğru bir yol gösterirler.

Ülkemizde geleceğin parlayan yıldızlarını yetiştirmek gayreti doğrultusunda, özel yetenekli öğrencilerin bireysel yeteneklerinin farkında olmaları ve kapasitelerini geliştirerek en üst düzeyde kullanmalarını sağlamak amacıyla ‘Bilim ve Sanat Merkezleri’ (BİLSEM) kurulmuştur. Siz değerli anneler ve babalar bir veli olarak çocuklarınızın yeteneklerini keşfetme yolculuğunda elinizdeki cevherin doğru şekillenmesi için elinizden geldiğince gerekli ortamı sağlama çabası içerisindeyiz. İşte bu noktada uzman eğitimcilerin özenle hazırladığı BİLSEM deneme sınavlarının oldukça yararlı olacağını düşünüyoruz.

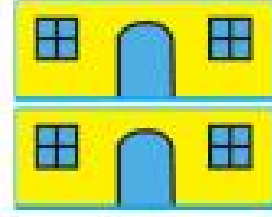


Bu kitap Milli Eğitim Bakanlığı’nın yaptığı BİLSEM sınavına uygun olarak hazırlanmıştır. BİLSEM sınavının gerek ilk aşaması olan grup tarama uygulamasında gerekse sonraki aşama olan bireysel değerlendirme bölümünde sorulan soruların benzerlerini deneme sınavlarımızda görebileceksiniz. Ayrıca soruların çözümünün detaylı olarak anlatıldığı çözüm kitapçığımız sayesinde çocuklarımız sınava rahat ve doğru bir şekilde hazırlanabilecek.

Bilgi ve teknolojinin akıl almaz bir hızla geliştiği çağımızda eğitim materyallerinin de uygun nitelikte olması düşüncesindeyiz. TEAS PRESS Eğitim Yayınları Grubu olarak bu anlayışla tüm soruların cevabına ışık tutan **SmartPen** teknolojisi ile BİLSEM sınavına hazırlanmayı neşeli bir hale dönüştürdük.

Gerek **SmartPen** gerekse de eğlenceli ve görsel içeriğiyle renkli bir çalışma imkânı sunan bu hazırlık kitabının BİLSEM sınavlarında yüksek başarıyı hedefleyen siz değerli geleceğin üstün yetenekli öğrencileri için vazgeçilmez bir rehber olacağı konusunda şüphemiz yok.

TEAS PRESS Eğitim Yayınları Grubu olarak çocuklarımızın topluma faydalı ve başarılı bir birey olarak yetişmelerine katkıda bulunmayı hedeflemekteyiz. Bu amaçla uzman eğitimcilerin özenle hazırladığı bu değerli yayını sizlerin ilgisine sunuyoruz. Yayınlarımızı ilgi ve beğeniyle takip eden siz değerli öğrenci ve velilerimize teşekkür eder, başarılar dileriz.

1. Soru işareti olan yere kaç katlı bir bina gelmelidir?



A) 4

B) 3

C) 2

D) 1

2. Aşağıdaki resimde kaç tane oturan kurbağa vardır?



A) 3

B) 4

C) 5

D) 8

3. Aşağıdaki resimleri oluş sırasına göre sıralayınız.





A) A - B - C - D

B) D - C - B - A



C) B - D - C - A

D) B - C - D - A

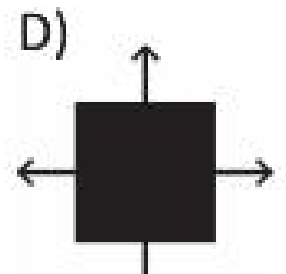
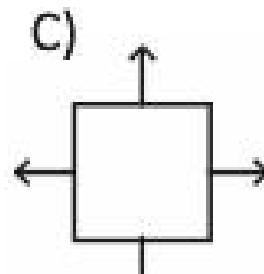
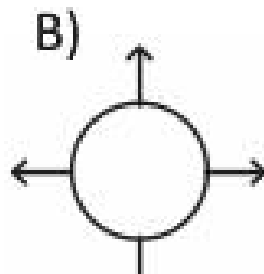
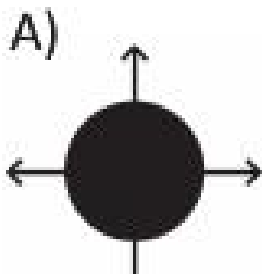
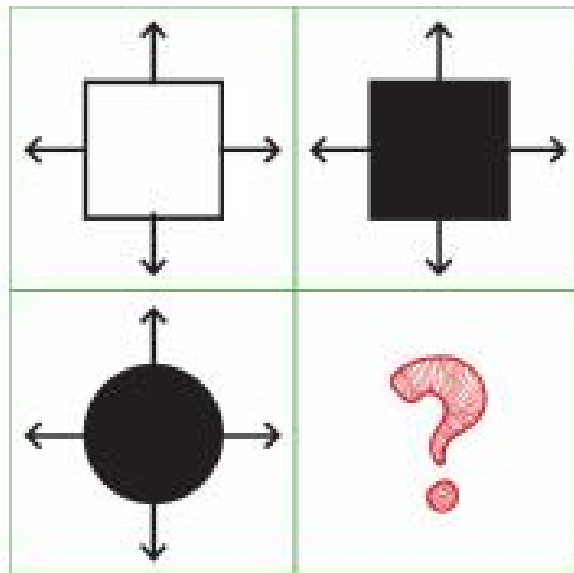
4. Yukarıdaki iki elma arasındaki ilişki hangisinde yoktur?



5. Aşağıdaki örüntüyü devam ettirebilmek için soru işareti olan yere hangi çiçek gelmelidir?



6. Soru işareti olan yere hangisi gelmelidir?



7. Hangi tarihte olduğumuzu öğrenmek için neyi kullanırız?

A)



B)








C)




D)




8. Soru işareti olan yere hangisi gelmelidir?



A)



B)





C)




D)



9. Soru işareti olan yere hangisi gelmelidir?



10. Soru işareti olan yere hangisi gelmelidir?



11. Aşağıdaki resimlerden hangisi bisiklete binen iki çocuğu göstermektedir?

A)



B)



C)



D)



12. Hangisi diğerlerinden bir yönüyle farklıdır?

A)



B)




C)



D)



13. Kaç tane aşağıya doğru uçan kuş vardır?



A)

4

B)

3




C)

2


D)

1


14. Soru işareti olan yere hangisi gelmelidir?



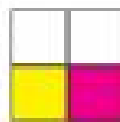
A)




B)




C)



D)



15. Yarışmada hangi çocuk sonuncu olmuştur?



16. Aşağıdaki kelimeler tersten okunursa hangisi diğerlerine göre farklı okunur?

A) K Ü Ç Ü K


B) K E P E K

C) K A V A K

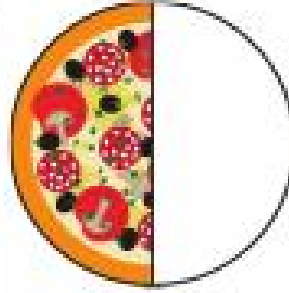
D) E T E K

17. Aşağıdaki pizzalardan hangisinin yarısı yenmiştir?

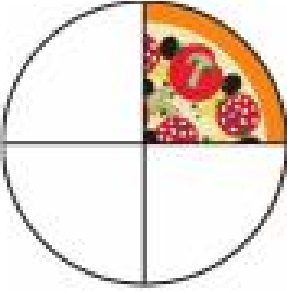
A)




B)




C)



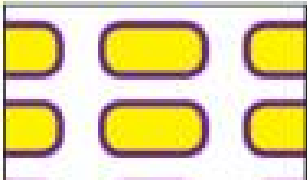
D)




18. Soru işareti olan yere hangisi gelmelidir?




A)



B)



C)





D)





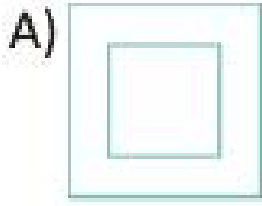

19. Resimlerde görülen olaylar sıralanırsa hangisi 1. resim olur?






20. Soru işareti olan yere hangisi gelmelidir?



21. Aşağıdaki örüntüde soru işareti olan yere hangisi gelmelidir?



22. Hangi resimde daha çok uzaylı vardır?




23. Hangisi diğerlerinden daha hafiftir?

A)



B)



C)




D)



24. Hangisi zamanı göstermez?

A)




B)



C)



D)



25. Yarışta 3 numaralı siyah araba 2. sırada olan mavi arabayı geçerse kaçinci olur?



A) 1


B) 2

C) 3

D) 4



26. Aşağıdakilerden hangisi yukarıdaki mevsimle ilişkili değildir?



27. Aşağıdakilerden hangisi bir özelliğiyle diğerlerinden farklıdır?

A)




B)





C)



D)




28. Aşağıdaki şekil saat yönünde döndürüldüğüne göre, soru işareti olan yere hangisi gelmelidir?



A)




B)







C)



D)



29. Soru işareti olan yere hangisi gelmelidir?



30. Soru işareti olan yere hangisi gelmelidir?

1	3	5	7	9	?
---	---	---	---	---	---

A) 10

B) 11

C) 13

D) 15

BİLSEM

•Anlama •Sınıflama •Sıfıflama •Problem Kurma ve Çözme •Sorgulama •İşlemleri Kurma •Değerlendirme •Tartışma
•Ana Dilini Etkin Biçimde Kullanabilme •Karar Verebilme •Birlikte Karar Verme •Çözümleyebilme
•Sonuçı Belirleme ve Çözme •Bir Sonuç Varmı •Vardığı Sonuçları Sorgulama •Değerlendirme
•Bilgiyi Anlatarak Elde Etme, Bulma ve Yorumlama •Değerlendirme •Yapılandırma •Kendini Anlatma
•Değerlendirme Açık Olma •Gerekliğinde İş Birliği Yapma •Öğrenme •Bilgi Teknolojilerini Aktif Kullanabilme
•Okumaktan ve Öğrenmekten Zevk Alma •Verilere Dayalı Tahminlerde Bulunabilme •Sevki •Uzay
•BüyükÖk ve bunların arasındaki ilişkileri kavrama gibi ilke ve kazanımları temel alınarak hazırlanmıştır.

Konular basitten zora doğru aktif (etkin) öğrenme yöntemlerine bağlı olarak işlenmiştir.
Çocukların nesnelerle, simgeler, olaylarla, oyunlar arasında doğru ilişki kurabilmeleri hedeflenmiştir.

BİLSEM

Bilim ve Sanat Merkezleri
Öğrenci Seçme Sınavı
Hazırlık Kitabı

1. SINIF



TÜM SORULARIN CEVABINA
IŞIK TUTAN "SMARTPEN" İLE
HİÇ TEST ÇÖZDÜNÜZ MÜ?



TEAC



ÖN SÖZ

Sevgili Geleceğin Dâhileri ve Sayın Anne-Babalar,

Her çocuk özeldir ve geliştirilmeyi bekleyen minik yeteneklerdir. Maalesef okullarımız pek çok çocuğun yeteneklerini keşfetme konusunda yeterli düzeyde değil. Dolayısıyla minik cevherleri keşfetme, ilgi ve becerilerini fark etme işi genellikle aileye düşüyor. Çocuğun hem doğuştan sahip olduğu, hem de sonradan kazandığı yetenek ve becerilerin farkında olabilmek ve bunları ortaya çıkarabilmek, evlatlarımıza yapacağımız en büyük iyiliktir. Ancak bilinçli ebeveynler bu yetenekleri zamanında keşfederek çocuklarına doğru bir yol gösterirler.

Ölkemizde geleceğin parlayan yıldızlarını yetiştirmek gayreti doğrultusunda, özel yetenekli öğrencilerin bireysel yeteneklerinin farkında olmaları ve kapasitelerini geliştirerek en üst düzeyde kullanmalarını sağlamak amacıyla ‘Bilim ve Sanat Merkezleri’ (BİLSEM) kurulmuştur. Siz değerli anneler ve babalar bir veli olarak çocuklarınızın yeteneklerini keşfetme yolculuğunda elinizdeki cevherin doğru şekillenmesi için elinizden geldiğince gerekli ortamı sağlama çabası içerisindeyiz. İşte bu noktada uzman eğitimcilerin özenle hazırladığı BİLSEM deneme sınavlarının oldukça yararlı olacağını düşünüyoruz.




Bu kitap Milli Eğitim Bakanlığı’nın yaptığı BİLSEM sınavına uygun olarak hazırlanmıştır. BİLSEM sınavının gerek ilk aşaması olan grup tarama uygulamasında gerekse sonraki aşama olan bireysel değerlendirme bölümünde sorulan soruların benzerlerini deneme sınavlarımızda görebileceksiniz. Ayrıca soruların çözümünün detaylı olarak anlatıldığı çözüm kitapçığımız sayesinde çocuklarımız sınava rahat ve doğru bir şekilde hazırlanabilecek.

Bilgi ve teknolojinin akıl almaz bir hızla geliştiği çağımızda eğitim materyallerinin de uygun nitelikte olması düşüncesindeyiz. TEAS PRESS Eğitim Yayınları Grubu olarak bu anlayışla tüm soruların cevabına ışık tutan **SmartPen** teknolojisi ile BİLSEM sınavına hazırlanmayı neşeli bir hale dönüştürdük.

Gerek **SmartPen** gerekse de eğlenceli ve görsel içeriğiyle renkli bir çalışma imkânı sunan bu hazırlık kitabının BİLSEM sınavlarında yüksek başarıyı hedefleyen siz değerli geleceğin üstün yetenekli öğrencileri için vazgeçilmez bir rehber olacağı konusunda şüphemiz yok.

TEAS PRESS Eğitim Yayınları Grubu olarak çocuklarımızın topluma faydalı ve başarılı bir birey olarak yetişmelerine katkıda bulunmayı hedeflemekteyiz. Bu amaçla uzman eğitimcilerin özenle hazırladığı bu değerli yayını sizlerin ilgisine sunuyoruz. Yayınlarımızı ilgi ve beğeniyle takip eden siz değerli öğrenci ve velilerimize teşekkür eder, başarılar dileriz.

1. Aşağıdakilerden hangisi toprağın içinde yetişmez?



2. Aşağıdaki soru işaretleri yerine hangi harfler getirilirse anlamlı bir kelime oluşur?

T	E	R	?	?	M	İ	Z
---	---	---	---	---	---	---	---

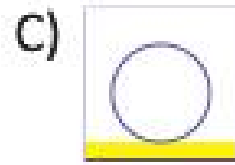
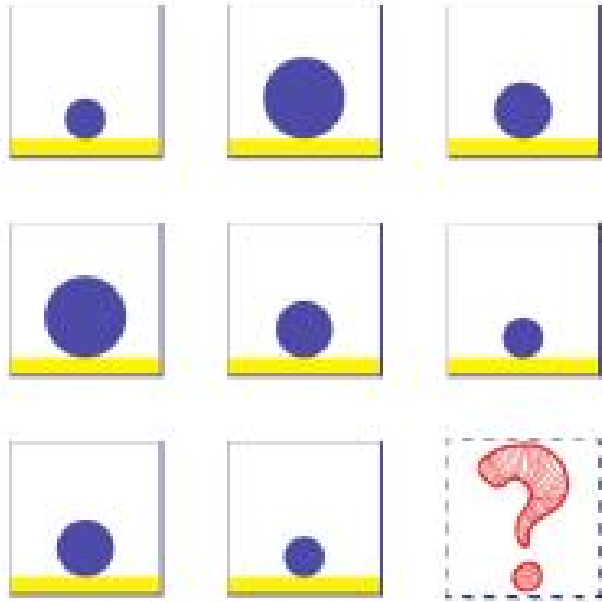
A) RE

B) ET


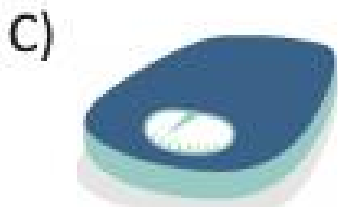

C) EK

D) TE


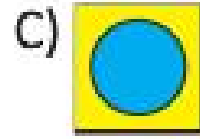


3. Soru işareti olan yere hangisi gelmelidir?




4. Domates, patetes, soğan gibi yiyecekleri tartarken hangi araçtan yararlanırız?



5. Soru işareti olan yere hangisi gelmelidir?



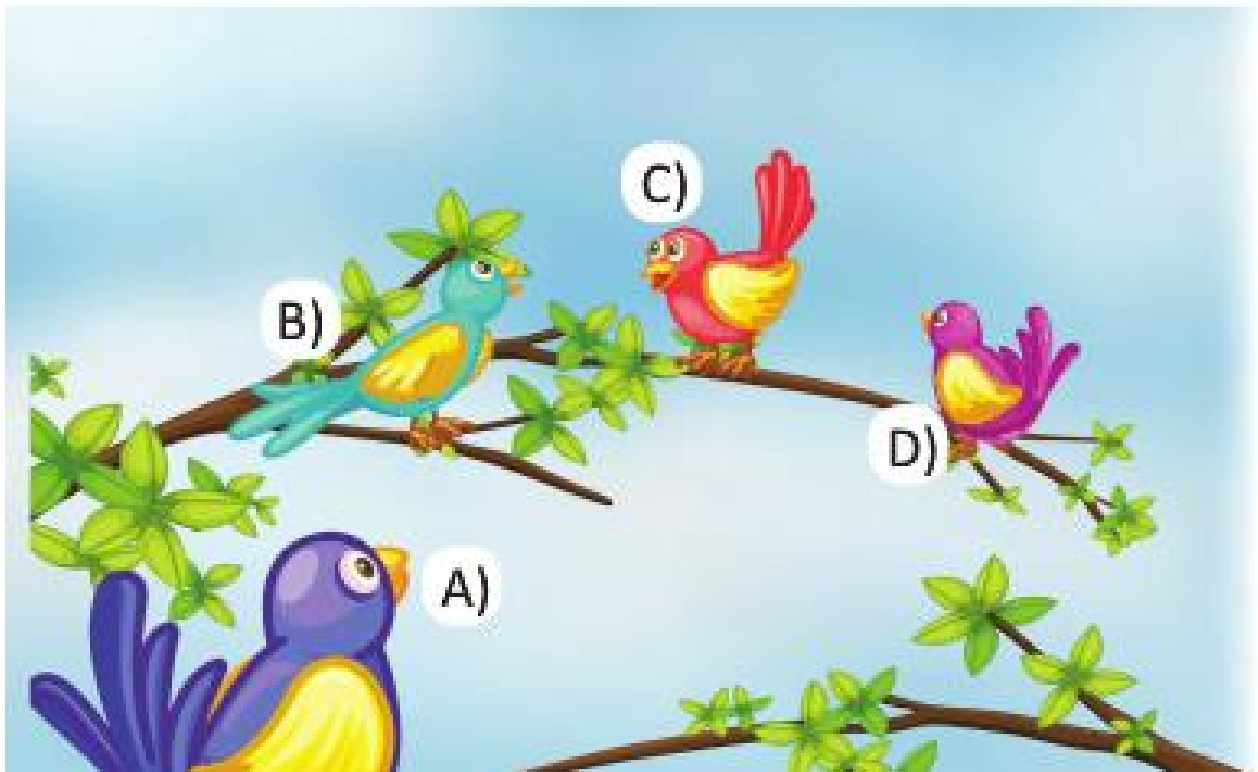
6. Aşağıdaki elmalardan hangisi örüntüyü bozmaktadır?








7. Soru işareti olan yere hangisi gelmelidir?



8. Kuşlardan hangisi diğerlerine göre daha yukarıdadır?



9. Soru işareti olan yere hangisi gelmelidir?



10. Dün günlerden salı ise bugün günlerden nedir?

A) Cuma

B) Perşembe

C) Carsamba


D) Pazartesi

11. Aşağıdakilerden hangisi 2 eş parçaya ayrılmıştır?

A)




B)




C)



D)



12. Resmin eksik parçalarını bulup eşleştirin.



1



2



3



4



5




6




7


13. Soru işareti olan yere hangisi gelmelidir?



A)




B)




C)



D)



14. Soru işareti olan yere hangisi gelmelidir?



A)




B)



C)




D)



15. Aşağıdakilerden hangisi pusuladır?

A)



B)



C)



D)



16. Aşağıdakilerden hangisi diğerlerinden küçük para birimidir?

A)



B)



C)



D)



17. Aşağıdaki pastaların sıralanışına göre soru işareti olan yere kaç katlı pasta gelmelidir?



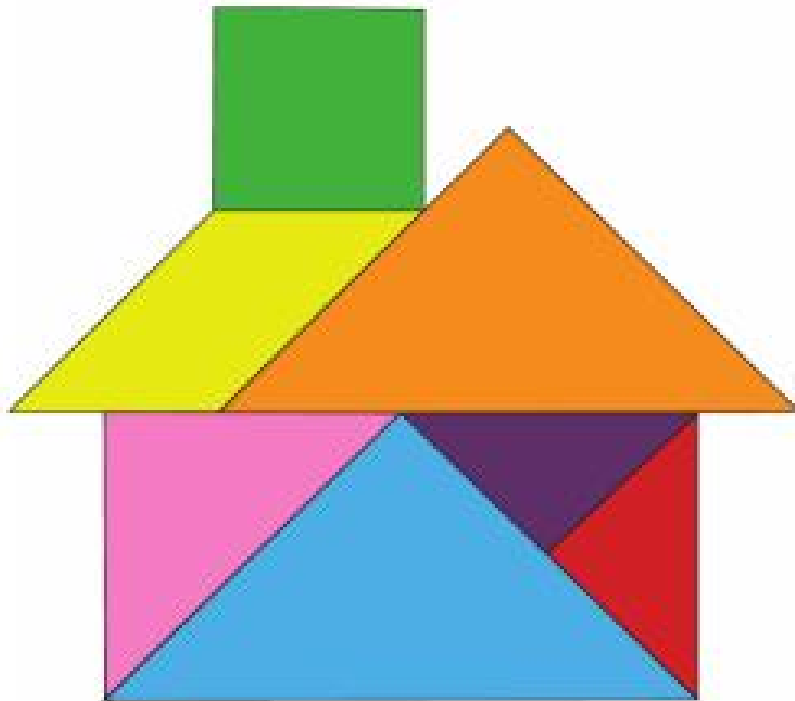
A) 2

B) 3

C) 4

D) 5

18. Aşağıdaki ev yapılıırken kaç tane üçgen kullanılmıştır?




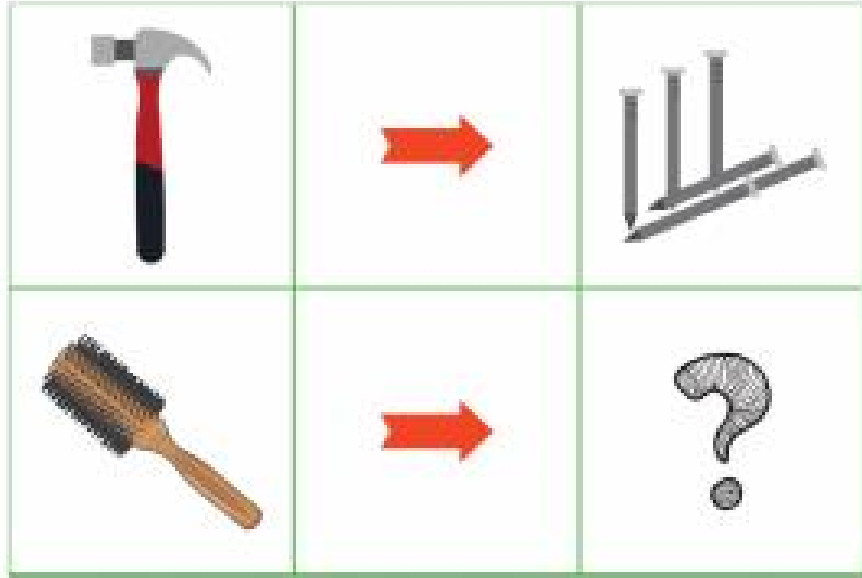
A) 4

B) 5


C) 6

D) 7

19. Soru işareti olan yere hangisi gelmelidir?



20. Aşağıdaki çocukların uzundan kısaya doğru sıralanışı hangisidir?



A) 1 - 2 - 3 - 4

B) 2 - 3 - 4 - 1

C) 4 - 3 - 2 - 1

D) 1 - 3 - 2 - 4

21. Aşağıdaki resimlerin ilkbahardan kışa doğru sıralanışı hangisidir?



1



2



3



4





A) 3 - 2 - 1 - 4

B) 1 - 2 - 4 - 3

C) 4 - 1 - 2 - 3


D) 4 - 3 - 2 - 1

22. Soru işareti olan yere hangisi gelmelidir?




23. Aşağıdakilerden hangisi bir yönüyle diğerlerinden farklıdır?

A)



B)



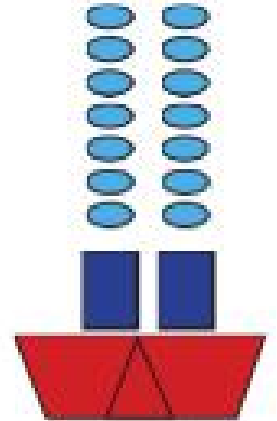
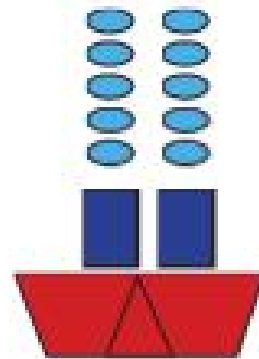
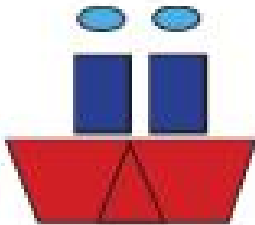
C)



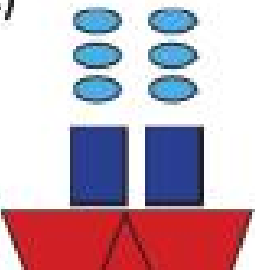
D)




24. Soru işareti olan yere hangisi gelmelidir?



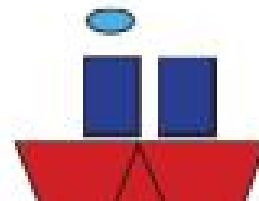
A)




B)



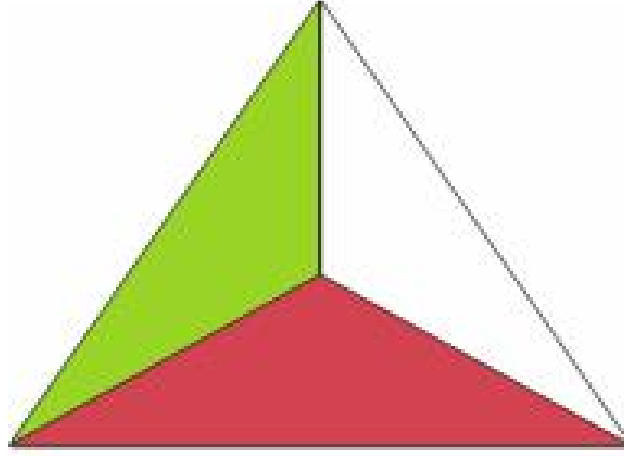
C)



D)



25. Aşağıdaki şekilde kaç tane üçgen vardır?



A) 1

B) 2

C) 3

D) 4


26. KALEM ile YAZI arasındaki ilişkiye benzer bir ilişki hangi ikisi arasında vardır?

A) DEFTER - KİTAP

B) KALEMLİK - KALEM




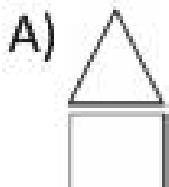

C) FIRÇA - RESİM

D) ÇANTA - SULUK

27. Aşağıdakilerden hangisi penguenin () saatin ters yönünde çeyrek tur döndürülmüş halidir?



28. Soru işareti olan yere hangisi gelmelidir?



BİLSEM

Bilim ve Sanat Merkezleri
Öğrenci Seçme Sınavı
Hazırlık Kitabı

1. SINIF



TÜM SORULARIN CEVABINA
IŞIK TUTAN "SMARTPEN" İLE
HİÇ TEST ÇÖZDÜNÜZ MÜ?



TEAC



ÖN SÖZ

Sevgili Geleceğin Dâhileri ve Sayın Anne-Babalar,

Her çocuk özeldir ve geliştirilmeyi bekleyen minik yeteneklerdir. Maalesef okullarımız pek çok çocuğun yeteneklerini keşfetme konusunda yeterli düzeyde değil. Dolayısıyla minik cevherleri keşfetme, ilgi ve becerilerini fark etme işi genellikle aileye düşüyor. Çocuğun hem doğuştan sahip olduğu, hem de sonradan kazandığı yetenek ve becerilerin farkında olabilmek ve bunları ortaya çıkarabilmek, evlatlarımıza yapacağımız en büyük iyiliktir. Ancak bilinçli ebeveynler bu yetenekleri zamanında keşfederek çocuklarına doğru bir yol gösterirler.

Ülkemizde geleceğin parlayan yıldızlarını yetiştirmek gayreti doğrultusunda, özel yetenekli öğrencilerin bireysel yeteneklerinin farkında olmaları ve kapasitelerini geliştirerek en üst düzeyde kullanmalarını sağlamak amacıyla ‘Bilim ve Sanat Merkezleri’ (BİLSEM) kurulmuştur. Siz değerli anneler ve babalar bir veli olarak çocuklarınızın yeteneklerini keşfetme yolculuğunda elinizdeki cevherin doğru şekillenmesi için elinizden geldiğince gerekli ortamı sağlama çabası içerisindeyiz. İşte bu noktada uzman eğitimcilerin özenle hazırladığı BİLSEM deneme sınavlarının oldukça yararlı olacağını düşünüyoruz.

Bu kitap Milli Eğitim Bakanlığı’nın yaptığı BİLSEM sınavına uygun olarak hazırlanmıştır. BİLSEM sınavının gerek ilk aşaması olan grup tarama uygulamasında gerekse sonraki aşama olan bireysel değerlendirme bölümünde sorulan soruların benzerlerini deneme sınavlarımızda görebileceksiniz. Ayrıca soruların çözümünün detaylı olarak anlatıldığı çözüm kitapçığımız sayesinde çocuklarımız sınava rahat ve doğru bir şekilde hazırlanabilecek.

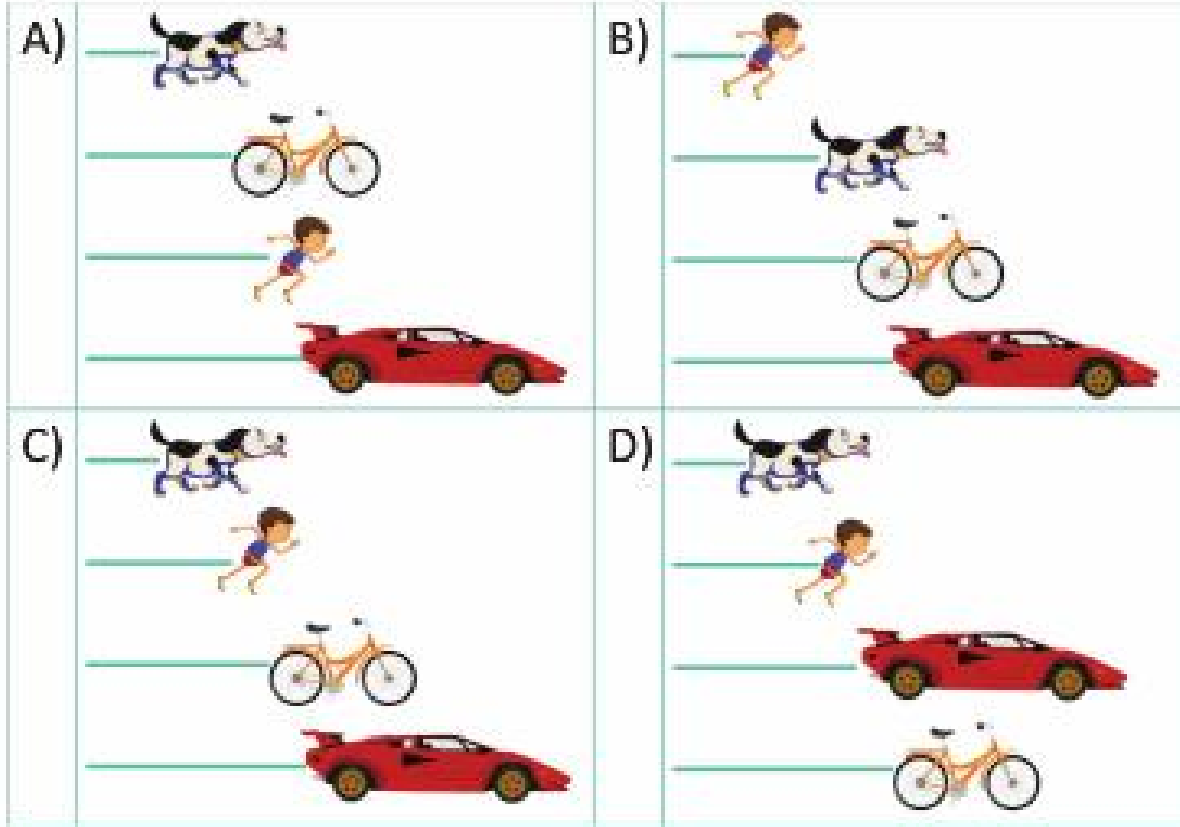
Bilgi ve teknolojinin akıl almaz bir hızla geliştiği çağımızda eğitim materyallerinin de uygun nitelikte olması düşüncesindeyiz. TEAS PRESS Eğitim Yayınları Grubu olarak bu anlayışla tüm soruların cevabına ışık tutan **SmartPen** teknolojisi ile BİLSEM sınavına hazırlanmayı neşeli bir hale dönüştürdük.

Gerek **SmartPen** gerekse de eğlenceli ve görsel içeriğiyle renkli bir çalışma imkânı sunan bu hazırlık kitabının BİLSEM sınavlarında yüksek başarıyı hedefleyen siz değerli geleceğin üstün yetenekli öğrencileri için vazgeçilmez bir rehber olacağı konusunda şüphemiz yok.



TEAS PRESS Eğitim Yayınları Grubu olarak çocuklarımızın topluma faydalı ve başarılı bir birey olarak yetişmelerine katkıda bulunmayı hedeflemekteyiz. Bu amaçla uzman eğitimcilerin özenle hazırladığı bu değerli yayını sizlerin ilgisine sunuyoruz. Yayınlarımızı ilgi ve beğeniyle takip eden siz değerli öğrenci ve velilerimize teşekkür eder, başarılar dileriz.

Yusuf köpeğinden hızlı, arabadan yavaş koşmaktadır. Bisiklet Yusuf'tan hızlı arabadan yavaştır.


1. Aşağıdakilerden hangisi yazılanların resmidir?



2. Soru işareti olan yere hangisi gelmelidir?




3. Soru işareti olan yere hangisi gelmelidir?




A)




B)




C)




D)




4. Soru işareti olan yere hangisi gelmelidir?




A)




B)








C)





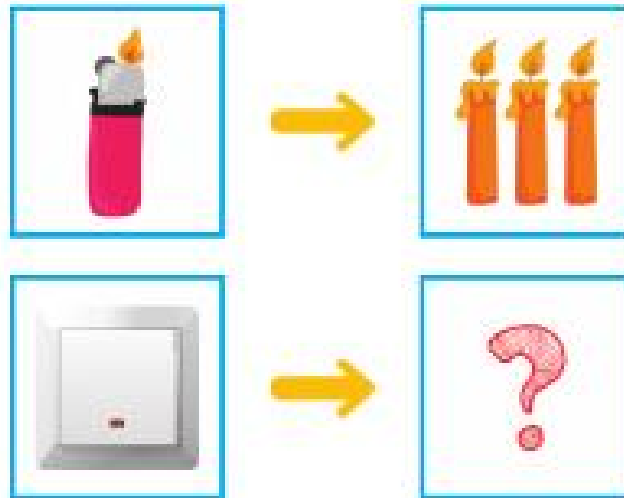
D)








5. Soru işareti olan yere hangisi gelmelidir?



6. Soru işareti olan yere hangisi gelmelidir?



7. Soru işareti olan yere hangisi gelmelidir?

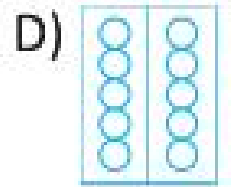

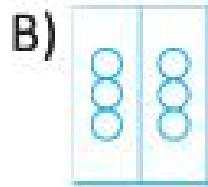



8. Pizza hamuru açılır, üzerine malzemeleri konulur ve pizza pişmesi için ateşe koyulur.

Pizza tarifi verilirken aşağıdakilerden hangisinden bahsedilmemiştir?






9. Soru işareti olan yere hangisi gelmelidir?

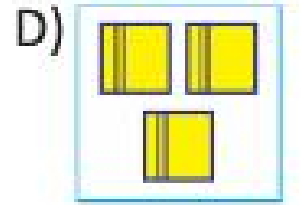
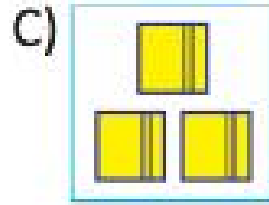
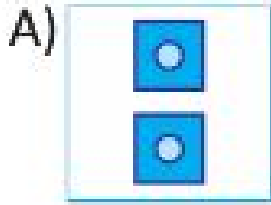
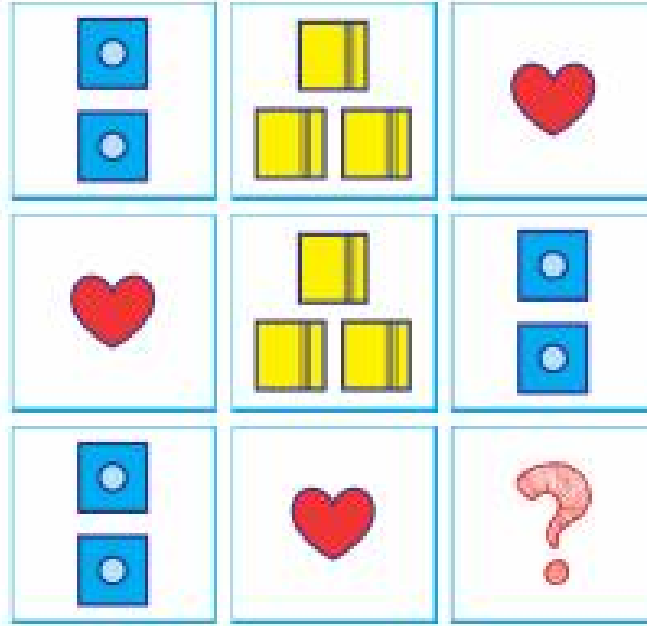


10. Dünyayı verelim çocuklara hiç değilse bir günlüğüne
Allı pullu bir balon gibi verelim oynasınlar
Oynasınlar türküler söyleyerek yıldızların arasında

Aşağıdakilerden hangisi şiirde geçmemektedir?



11. Soru işareti olan yere hangisi gelmelidir?



12. Soru işareti olan yere hangisi gelmelidir?



13. Araba ile aşağıdakilerden hangisi arasında bir ilişki vardır?

A)



B)



C)



D)



14. Hangisi diğerlerinden farklıdır?

A)



B)






C)



D)




15. Soru işareti olan yere hangisi gelmelidir?



16. Soru işareti olan yere hangisi gelmelidir?



17. Aşağıdaki civcivlerin sıralamasına göre soru işareti olan yere hangisi gelmelidir?



A)



B)



C)



D)



18. Hangi sepette daha az elma vardır? Tahmin edin.

A)



B)



C)



D)



19. Aşağıdaki resimlerin yaşı ilerleyişine göre sıralanmış hali hangisidir?



4



2



3



1

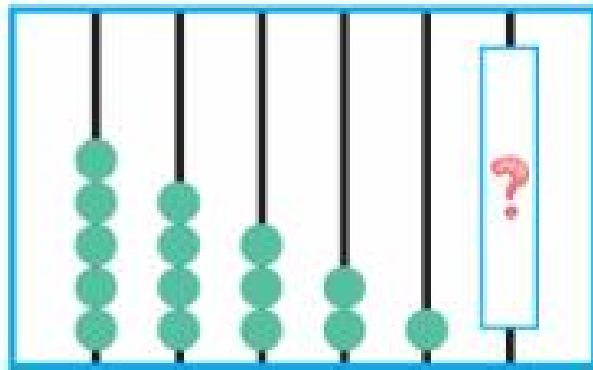
A) 2 1 4 3

B) 1 2 3 4

C) 2 4 1 3

D) 4 3 2 1

20. Soru işareti olan yere hangisi gelmelidir?



A)



B)



C)



D)



21. Soru işareti olan yere hangisi gelmelidir?



A)



B)




C)



D)



22. Aşağıdaki kaplumbağa oluşturulurken kaç tane kare kullanılmıştır?



A)

1

B)

3

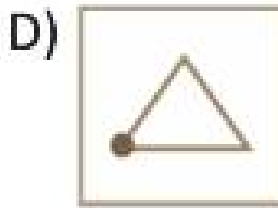
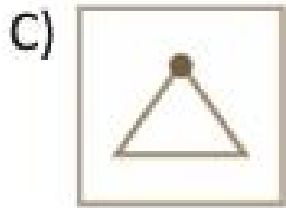
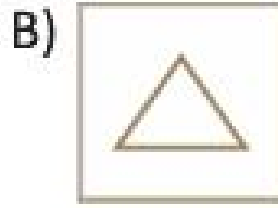
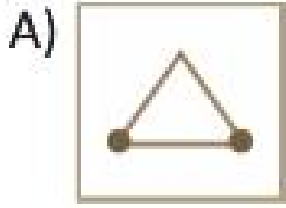
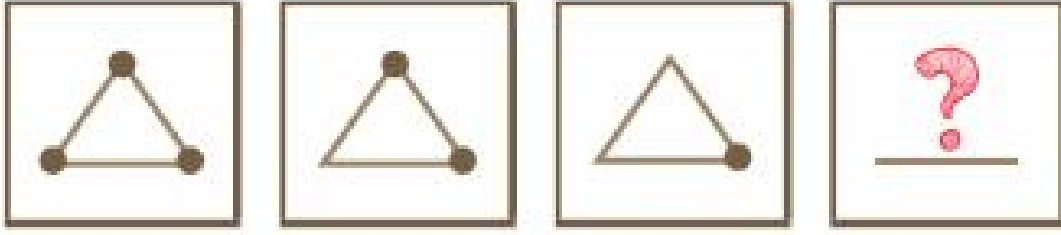
C)

4

D)

5

23. Soru işareti olan yere hangisi gelmelidir?



24. Aşağıdaki tabloda gizlenmiş 'KİTAP' kelimesini bulabilir misin?

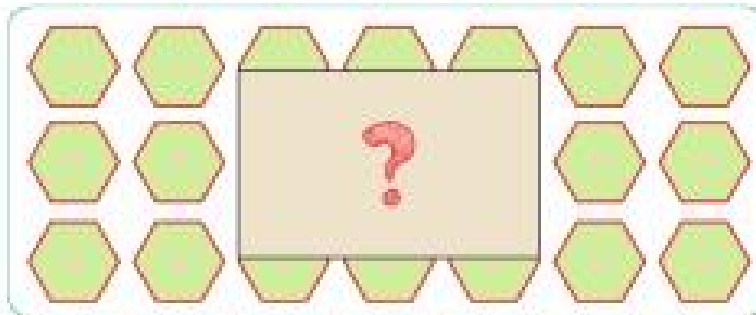
K	C	D	E	F	K
I	G	N	Ö	A	i
M	U	i	D	E	T
C	S	V	Z	i	A
F	O	B	C	Ü	P

25. Aşağıdaki sayı dizisinde sıralamada eksik olan hangi sayıdır?

6	8	10	14	16	18	20	22
---	---	----	----	----	----	----	----


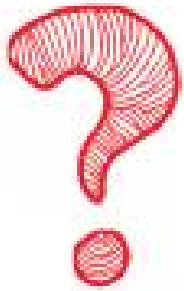
- A) 8 B) 10 C) 12 D) 14

26. Soru işareti olan yere hangisi gelmelidir?



- A) B) C) D)

27. Soru işareti olan yere hangisi gelmelidir?



A)



B)




C)



D)




28. Soru işareti olan yere hangisi gelmelidir?




A)




B)



C)



D)



29. Tren ile aşağıdakilerden hangisi arasında bir ilişki vardır?

A)



C)



B)



D)




30. Şu anda saat yukarıdaki gibiyse yarım saat sonra saat kaç gösterir?


A)



B)



C)



D)



BİLSEM

•Anlama •Sınıflama •Sıfıflama •Problem Kurma ve Çözme •Sorgulama •İşlemleri Kurma •Değerlendirme •Tartışma
•Ana Dilini Etkin Biçimde Kullanabilme •Karar Verebilme •Birlikte Karar Verme •Çözümleyebilme
•Sonuçla Belirleme ve Çözme •Bir Sonuçla Vurma •Vardığı Sonuçları Sorgulama •Değerlendirme
•Bilgiyi Anlatarak Elde Etme, Bulma ve Yorumlama •Değerlendirme •Yapılandırma •Kendini Anlatabilme
•Belirleme Açık Olma •Gerekliğinde İş Birliği Yapma •Öğrenme •Bilgi Teknolojilerini Aktif Kullanabilme
•Okumaktan ve Öğrenmekten Zevk Alma •Verilere Dayalı Tahminlerde Bulunabilme •Sevki •Uzay
•BüyükÖk ve bunların arasındaki ilişkileri kavrama gibi ilke ve kazanımları temel alarak yapılandırma.

Konular basitten zora doğru aktif (etkin) öğrenme yöntemlerine bağlı olarak işlenmiştir.
Çocukların nesnelerle, simgeler, olaylarla, diğer çocuklar arasında doğru ilişki kurabilmeleri hedeflenmiştir.

BİLSEM

Bilim ve Sanat Merkezleri
Öğrenci Seçme Sınavı
Hazırlık Kitabı

1. SINIF



TÜM SORULARIN CEVABINA
IŞIK TUTAN "SMARTPEN" İLE
HİÇ TEST ÇÖZDÜNÜZ MÜ?

Cözüm



TEAC

1. DENEME ÇÖZÜMLERİ

1. Verilen sepanelerde arıya en yakın olan ayıncıktan sonra forma değişiyor, sonra formasını giyiyor, daha sonra da pamağı malzemesinde yiyor, en sonunda ise tamirlemezlik formasını yeniden giyiyor. Bu sıraya uygun olanlar cevap 2-1-4-3 olmalıdır.




CEVAP: B) 2 - 1 - 4 - 3

4. 1. resimdeki çaydanlığın tutacağı formadır, tutacağı formayı okuduğu kitabın görünümünde sadece b sepanesinde vardır. 2. resimdeki çaydanlığın gövdesi formadır, kitabın görünümünde gövdesi forması olan sadece c sepanesindedir. 3. resimdeki çaydanlığın ayağı olan kısmı ve tutacağı beyazdır, bu özelliklerdeki kitabın görünümünde sadece a sepanesinde vardır. Doğru sıralama a - 3, b - 1 ve c - 2'dir.




CEVAP: C) 1-B, 2-C, 3-A

7. Soruda 10'er ritmik yapıldığında 10'dan sonra 12 gelmeli, 11 gelmemelidir. Doğru cevap D sepanesindedir.




CEVAP: D

10. Soruda hayvan ve ondan elde edilen yiyecek ilişkisi vardır. Arı bal yapar, tavuk ise yumurta yapar. Doğru cevap C sepanesindedir.



2. M harfleri ile arısına giden en yakın M harfleri 3. sırada 3. sıradadır.



5. AB = 52, AC = 51 ise A = 5, B = 2, C = 1'dir. CE = 18, DE = 48 ise D = 4, E = 8'dir. Buna göre, EDCBA = 84125'tir. Doğru cevap B sepanesindedir.

BC = 21	CD = 14
AB = 52	CE = 18
AC = 51	DE = 48
BD = 24	DA = 45

- A) 52148 B) 84125
C) 81425 D) 84152

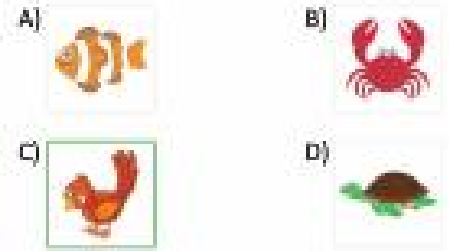
CEVAP: B

8. Üst sırada buz ve buzdolabı vardır. Buz soğutur, buzdolabı ise soğutmaya yarayan bir beyaz ayağıdır. Bu ilişkiyi göz önüne alarak, altıncı sırada soğutmaya yarayan bir beyaz ayağıdır. Doğru cevap B sepanesindedir.




CEVAP: B

3. Sepanelerdeki bu harflerle ilgili yengeç, balık ve kaplumbağa suya yavaşlar. Bu özellik ile ilgili olan buğur. Doğru cevap C sepanesindedir.



CEVAP: C

6. Sepanelerdeki hayvanlar içerisinde salıngıç en yavaş olanıdır. Salıngıç yavaş hareket eder. Bu özellik ile ilgili olan salıngıç. Doğru cevap C sepanesindedir.




CEVAP: C

9. Sepanelerdeki verilen doktor, aşı ve itfaiyecinin trafik işaretleri ile doğru ilişki bulunmamaktadır. Trafik işaretleri ile trafik polisi ilişkilidir. Doğru cevap D sepanesindedir.



CEVAP: D


11. Verilenlere bakıldığında her satır ve sütunda 2, 3 ve 5 sayıları kadar nokta vardır. Ayrıca her satır ve sütunda 2 kırmızı ve 1 mavi yarı vardır. Bu kurala göre, soru işaretli bölgenin forması nokta olarak ve 3 nokta olmalıdır. Doğru cevap D sepanesindedir.



12. 4 hayvan zaten resimde de uçuyor olarak verilmiştir. Uçur balık ise su altında uçabiliyor ama resimde daha konuşmuş olarak gösterilmiştir. Resimde toplamda 5 uçabilen hayvan vardır. Doğru cevap B sepanesindedir.

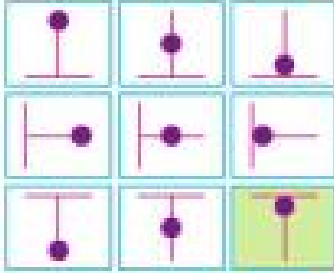


13. Seçeneklerdeki ekit, dondurma ve peynir ineğin elinde edilen ekit ile yapılır. Bel ki bu bir ekit ürünü değildir, ineğin ilgilendiği olmayan bir yiyecektir. Doğru cevap C seçeneğidir.



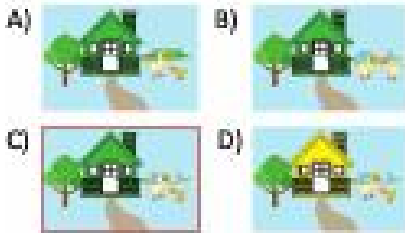
CEVAP: C

16. Verilenlere bakıldığında hoplar soldan sağa ve yukarıdan aşağıya doğru hareket halindedir. Bu kurala göre, son sıradaki top da yukarıya çıkıyor olmalıdır. Doğru cevap D seçeneğidir.



CEVAP: D

19. Sonuçta anlatılan özellikler ev C seçeneğinde verilmiştir. Doğru cevap C seçeneğidir.




CEVAP: C

22. Sonuçta verilen ve sonuçta yerleştirildiği yerler ekit ve buzdolabı verilmiştir. Şifre buzdolabında saklanır. Bu bilgiye göre alışverişe gitmek gerekir. Doğru cevap C seçeneğidir.



14. Resmin altlık parçası tam olarak A seçeneğinde verilmiştir. Doğru cevap A seçeneğidir.




CEVAP: A

17. Bileziklerdeki bekerlek adedince nokta olmalıdır. Örneğin, 10 bekerlekli bilezikte 10 nokta vardır. Bu kurala göre, 13 bekerlekli bilezikte 13 nokta olmalıdır. Doğru cevap C seçeneğidir.



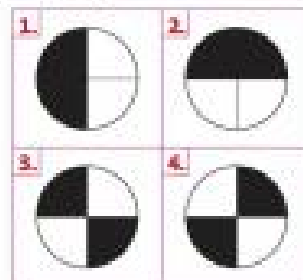
CEVAP: C

20. Ayta inmek üzere olan robot sonuçta uzayda. Tekrar neymiş D seçeneğinde verilmiştir. Doğru cevap D seçeneğidir.

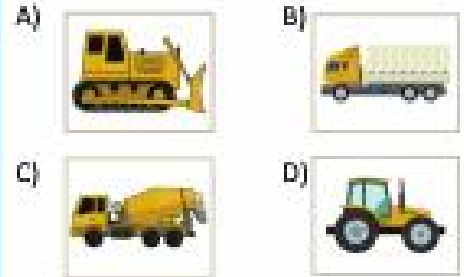


CEVAP: D

23. Üst sıradaki soldaki şekil soldan sağa yönünde çeyrek tur döndürülmesiyle sağdaki şekile eşit olur. Benzer kurala göre, sonu (şaretil) döndürmek için soldaki şekil soldan sağa yönünde bir tur döndürülür.




15. Traktör dışındaki diğer taşıt araçları ve taşıtları ilgilidir. Traktör ise çiftlikte kullanılır, tarımla ilgilidir. Doğru cevap D seçeneğidir.




CEVAP: D

18. Örnekteki sırayla 1, 2, 3 şeklinde ilmi verilir. Örnekteki harflerle ifade etmek sırayla ilmi verilir. 1, 2 ve 3 harfleri gelmelidir. Buna göre, örnekte ABC ile gösterilmelidir. Doğru cevap C seçeneğidir.



CEVAP: C ABC

21. Sonuçta bir meyve ağacının ekilmesinden meyve verip toplanmasına kadar geçen süre anlatılmaktadır. Dikimin ekilip büyümesi ve çiçek vermesi gösterilmektedir. Bir sonraki aşamada meyve vermesi neymiş olmalıdır. Doğru cevap A seçeneğidir.



CEVAP: A

24. 51 sayısından 1 ve 2'yi yer değiştirilerek çıkarma işlemi doğru sonucu verir.


$$51 - 12 = 39$$

25. M harfi el üstü yönünde yanına bir (180° derece) döndürülerek C seçeneğinde şekli elde edildi. Doğru cevap C seçeneğidir.

A) M B) Σ C) W D) Σ


CEVAP: C

28. Verilen iki şekil birleştirildiğinde Ort sırada soldan sağa sırayla bir yeşil ve iki kırmızı kare oluşur. Bu özellikteki şekil sadece A seçeneğinde verilmiştir. Doğru cevap A seçeneğidir.



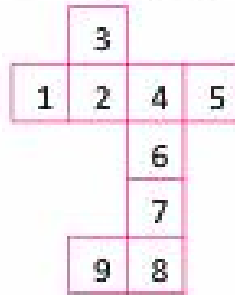
CEVAP: A

26. Resimde verilen çocuk aynanın arkasında, önünde, altında ve sağında duruyor. C seçeneğinde gösterilen şekilde çocuk aynanın arkasında durmuyor. Doğru cevap C seçeneğidir.



CEVAP: C

29. Zaman 6 yoldır. Soruda 3 yön verilmiştir. Dolayısıyla bir saat elde etmek için 3 yön gösterilmelidir. Doğru cevap C seçeneğidir.



CEVAP: C

27. Soruda hayvan ve yediği yiyecek ilişkisi vardır. Fare peynir yer. Maymun ise muz yer. Doğru cevap D seçeneğidir.



CEVAP: D

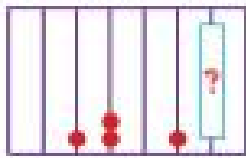
30. Soruda bir meyve ve meyveyle aynı renge sahip başka bir meyve/sebze ilişkisi vardır. Örneğin, portakal ve havuç verilmiştir. Her listede bu ilişkiyi gösteren bir meyve bulmamız gerekir. Seçeneklerden muz bu ilişkiyi sağlıyor. Doğru cevap B seçeneğidir.



CEVAP: B

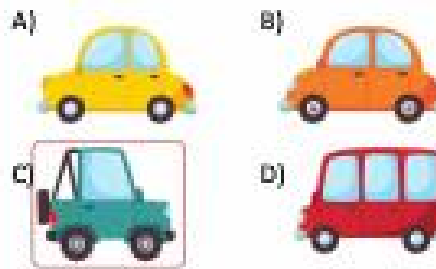
2. DENEME ÇÖZÜMLERİ

1. Verilenlere bakıldığında soldaki sıralamada önce bir boncuk sonra iki boncuk vardır. Bu kurala göre, sağdaki sıralamada bir boncuktan sonra 3 boncuk gelmelidir. Doğru cevap C seçeneğidir.



CEVAP: C

2. Yeşil renkli araç sağa doğru gidiyor. Diğer üç araç sola gidiyor. Doğru cevap C seçeneğidir.



CEVAP: C

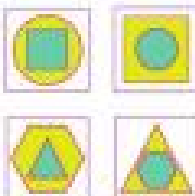
3. Verilen resimde 4 tane mor renkli balon var. Doğru cevap D seçeneğidir.



A) B) C) D)

CEVAP: D

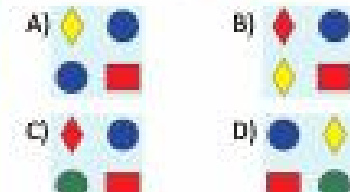
4. Verilenlere bakıldığında içteki şeklin dışarıya göre, dışındaki şeklin içi alanlarıyla yeni şekiller elde edilmiş ve bunlara birlikte içi ve dışarı renkleri atılmıştır. Bu kurala göre dışarıya göre, dışarıya göre içi alanlar olacaktır. Doğru cevap A seçeneğidir.



5. İstenen özellikler C şıkkındaki resimde gösterilmiştir. Doğru cevap C seçeneğidir.

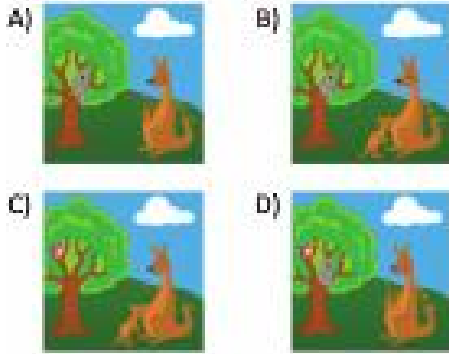


6. Aynı şekiller D seçeneğinde verilmiştir. Doğru cevap D seçeneğidir.



3. DENEME ÇÖZÜMLERİ

1. Soruda anlatılan resim D seçeneğinde verilmiştir. Doğru cevap D seçeneğidir.




CEVAP: D

4. Verilen seçeneklerde çocuk gece uyumakta, sabah kalkmakta, la havlu yapmaktaki ve dişleri fırçalamaktadır. Buna göre, olaylar 4 - 3 - 2 - 1 şeklinde sıralanmalıdır.



CEVAP: C

7. Resimde 4 tane pembe çiçek vardır. Doğru cevap A seçeneğidir.



A)  B)  C)  D) 


CEVAP: A

10. Soruda varlık ve içinde olduğu nesne ilişkilidir. Örneğin, kuş ve kafes verilmiştir. Bu kurala göre beşeride ilgili olarak soru işaretli yere boşluk bırakılmalıdır. Doğru cevap A seçeneğidir.



A)  B)  C)  D) 

2. Verilenlere bakıldığında, her sıradaki üçgen renkli parça sayısı soldan sağa, önce solda, sonra önce ve daha sonra da sağa doğru gelmektedir. Bu kurala göre, 7 ile gösterilen yere gelmesi gereken şekil D seçeneğinde verilmiştir. Doğru cevap D seçeneğidir.



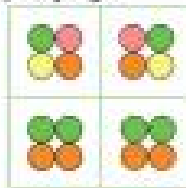
CEVAP: D

5. B seçeneğinde tene dönmüş bir ev resmi vardır. Doğru cevap B seçeneğidir.



CEVAP: B

8. Üst sırada verilenlere bakıldığında yan yana duran yuvarlaklar yer değiştirilerek sonradaki şekil elde edilmiştir. Bu kurala göre alt sıradaki şekildedeki yuvarlaklar yer değiştirilince yine aynı şekli oluşur. Doğru cevap C seçeneğidir.



A)  B)  C)  D) 

CEVAP: C

11. En alt sıradaki sol baştaki gölge adamın gölgesidir.



3. Soruda nesne ve benzerliği geometrik şekil ilişkilidir. Örneğin dünya ve daire verilmiştir. Bu kurala göre beşeride poligon bir şekille benzerleştirilmelidir. Doğru cevap D seçeneğidir.



A)  B)  C)  D) 

CEVAP: D

6. Soruda nesne ve kullandığı araç ilişkilidir. Örneğin, italyan aracı ile italyan verilmiştir. Buna göre polis arabası ve polis birliği ilişkilidir. Doğru cevap A seçeneğidir.



A)  B)  C)  D) 

CEVAP: A


9. Verilenlere bakıldığında her sıradaki soldaki san şekli manevi değiştirilmiştir. Bu kurala göre son sıradaki san yıldızdan sonra nasıl yıldız gelmelidir. Doğru cevap A seçeneğidir.



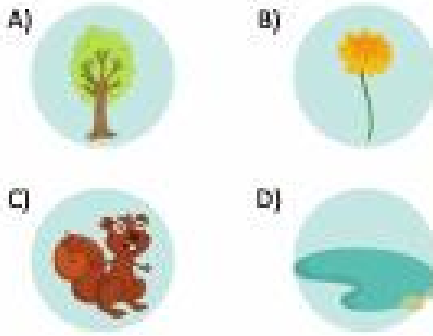
A)  B)  C)  D) 

CEVAP: A

12. A, B, C seçeneklerinde mutlu, üzgün, üzgün resimleri verilmiştir. D seçeneği ise bu yönlerle farklıdır. Doğru cevap D seçeneğidir.



13. Su bir canı değildir. Doğru cevap D seçeneğidir.




CEVAP: D

14. Bardak diğerlerinden daha az sıt ılır. Doğru cevap A seçeneğidir.



CEVAP: A

15. Uçak diğer seçeneklerdeki araçlardan daha hızlıdır. Doğru cevap A seçeneğidir.



CEVAP: A

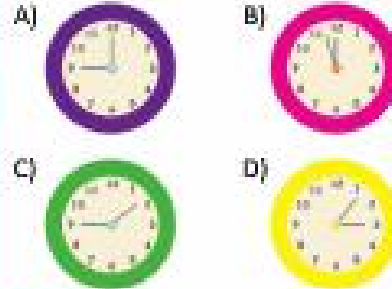
16. Verilen örüntü 1 birim ve 1 ufuk bütçe şeklinde ilerlemektedir. Örüntünün herferle. Nede sonliniğ hali ABB'dir. Doğru cevap A seçeneğidir.



A) B) C) D)

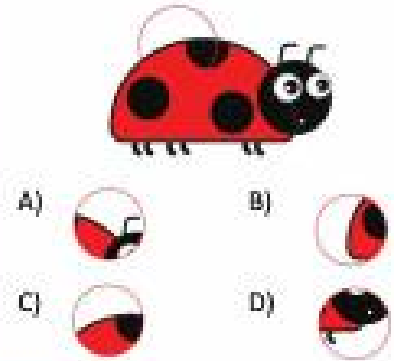
CEVAP: A

17. A seçeneğinde saat tam 9'u göstermektedir. Doğru cevap A seçeneğidir.




CEVAP: A

18. C seçeneğinde geldi nesnin elcik parçasıdır. Doğru cevap C seçeneğidir.



CEVAP: C

19. Verilenlere bakıldığında 10. sırada yer alan soldaki gelidin dibey olarak sağ yansı nent değiştirerek sağdaki gelidi oluşturmıştır. Bu kurala göre alt sıradaki eliyah nesnin sol tarafı eliyah olarak kalması sağ taraf başka bir nent olmalıdır. Doğru cevap A seçeneğidir.



A) B) C) D)

CEVAP: A

20. Verilen nesnelerde 10 tane topbar. Bu yıldıyle A ve C birbiriyle 10'dur. Doğru cevap C seçeneğidir.



A) B) C) D)


CEVAP: C

21. Sonunda anlaşılan 10'da 10 neslin C seçeneğinde verilmiştir. Doğru cevap C seçeneğidir.




CEVAP: C

22. Verilenlere bakıldığında 1. gelidi tam çevrilerek 2. gelide elde edilmiştir. Bu kurala göre sonu 10'da 10 yansı üç topbar 10'da 10 gelidi gelmelidir. Doğru cevap B seçeneğidir.



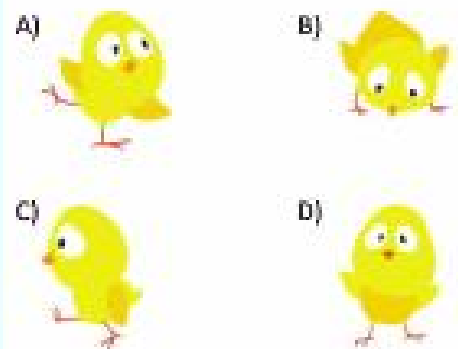
A) B) C) D)

23. Verilen gelidire bir bittin olarak bakıldığında parçaların birbiriyle 10'da 10 olmaktadır. 10'da 10 parçaları 10'da 10 parçası C seçeneğinde 10'da 10 parçası C seçeneğidir.



A) B) C) D)

24. A seçeneğinde eliyah sağ tarafı bakılmaktadır. Doğru cevap A seçeneğidir.




25. Sonraki ilkbahar mevsiminin ayı ile anılan mevsim Ekim olan ay Mart ayıdır. Doğru cevap D seçeneğidir.



- A) Ocak B) Eylül C) Ekim D) Mart

CEVAP: D

28. Verilenlere bakıldığında her satırda 3 tane aynı şekli parçaya gelmektedir. Bu kurala göre son satırdaki şekli de bulunduğu satırdaki şekillerle aynı olmalıdır. Doğru cevap B seçeneğidir.



- A) B) C) D)

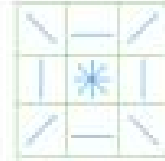
CEVAP: B

26. Sonraki hayvanlar ve yaşlarına verilen adlar verilmiştir. Keçi yaşını bu olarak verilmiştir. Keçinin yaşına eşit kaç denir. Doğru cevap D seçeneğidir.

A) İnek yaşını: İhsan	B) At yaşını: Tiry
C) Tavuk yaşını: Öncü	D) Keçi yaşını: Kuzu

CEVAP: D

27. Verilen şekillere bakıldığında tüm şekillerin birleşerek ortadaki şekli oluşturduğu görülmektedir. Doğru cevap D seçeneğidir.



- A) B) C) D)

CEVAP: D

29. Resimde verilen hayvan arıdır. Arı kelimesinde R harfi yoktur. Doğru cevap A seçeneğidir.



- A) B) C) D)

CEVAP: A

30. A ve C seçeneklerindeki şekiller 4 eş parçaya bölünmüştür. B seçeneğindeki şekli 2 eş parçaya ayırılmaz. D seçeneğindeki şekli ise eş olmayan 3 parçaya ayırılmaz. Doğru cevap B seçeneğidir.

- A) B) C) D)

CEVAP: B

4. DENEME ÇÖZÜMLERİ

1. Sonraki anıtların simülasyonu nedir. D seçeneğindedir. Doğru cevap D seçeneğidir.

- A) B) C) D)

CEVAP: D

2. Seçeneklerdeki balon, basketbol ve tenis topu ile yuvarlaklar. C seçeneğindeki hedya yuvarlak değildir. Doğru cevap C seçeneğidir.

- A) B) C) D)

CEVAP: C

3. Sonraki melek ve bu melek ile ilgili araç tipidir. Örneğin polis ve polis arabası verilmektedir. Buna göre araba ile melek tipidir. Doğru cevap B seçeneğidir.




- A) B) C) D)

CEVAP: B

4. C seçeneğindeki arabalardan biri sağa bir sola gidebilir. Doğru cevap C seçeneğidir.


- A) B) C) D)

5. Verilenlere bakıldığında ilk sırada 1. şekilde ortada yer alan şekli. Sıra gelecek 2. şekli oluşturduğu görülmektedir. Örneğin, ortada yer alan kırmızı üçgen. Sıra gelecek 2. şekli oluşturmuştur. Bu kurala göre ilk sırada 2. şekilde. Sıra verilen kırmızı üçgen 1. şekilde ortada olmalıdır. Doğru cevap D seçeneğidir.

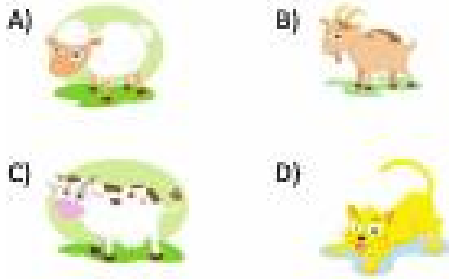


- A) B) C) D)

6. En alt sırada 7 harf 1 harftir.




7. A, B ve C sepeneklerinde farklı hayvanlar verilmiştir. Kedi farklı hayvana değildir. Doğru cevap D sepenektir.



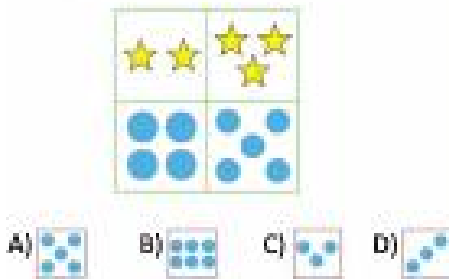
CEVAP: D

10. Sonunda hayvan ve bulunduğu yer ilgilidir. Örneğin deniz ve köpek balığı verilmiştir. Sepenekler arasında hayvata uyabilen hayvan haykettir. Doğru cevap D sepenektir.



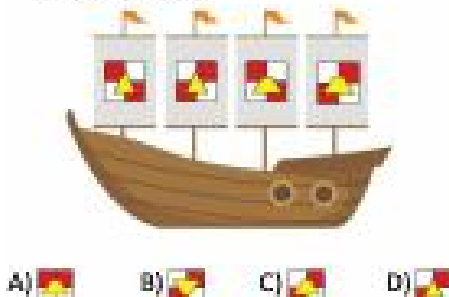
CEVAP: D

13. Verilenlere bakıldığında sepeneler soldan sağa bir aramış devane etmektedir. Soru işaretli olan yere 5 mavi yuvarlakı ekli gelmelidir. Doğru cevap A sepenektir.




CEVAP: A

16. Verilenlere bakıldığında 1. şekildedeki kare ve beyaz kareler yer değiştirilerek sonradaki şekli elde edilmektedir. 3. sıradaki kare ve beyaz kareler yer değiştirilerek C sepenektedir. Doğru cevap C sepenektir.



8. Verilenlere bakıldığında 3. sırada karelerin etrafındaki şekiller içe kıvrılarak 2. şekli oluşturmaktadır. Bu kurala göre karelerin etrafındaki 2 pembe üçgen içe kıvrıldığında A sepenektedir. Doğru cevap A sepenektir.



CEVAP: A

11. Sonunda hayvan ve yaşadığı yer ilgilidir. Örneğin at ve ahır verilmiştir. Bu ilgilere göre karede yaşayan hayvan koyundur. Doğru cevap B sepenektir.




CEVAP: B

14. Resimde 3 tane diğer çalan hayvan vardır. Doğru cevap C sepenektir.



CEVAP: C

17. 3 yarım bir bölün eder 4 yarım 2 bölün eder. Doğru cevap B sepenektir.

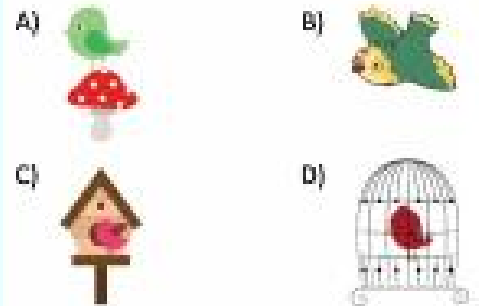


9. Resimde görsel uyuyor. Bilkile uyuyor. Akşam yemeği yiyor ve uyuyor. Olayların oluşması 3 - 4 - 1 - 2 şeklindedir.



CEVAP: C

12. B sepenekinde uçan bir kuş resmi vardır. Doğru cevap B sepenektir.



CEVAP: B


15. Resimde anlatılan mevsimler sırasıyla kış - sonbahar - yaz - ilkbahar şeklinde olmalıdır. Doğru cevap C sepenektir.



- A) ilkbahar - yaz - sonbahar - kış
B) kış - yaz - ilkbahar - sonbahar
C) kış - sonbahar - yaz - ilkbahar
D) yaz - sonbahar - kış - ilkbahar

CEVAP: C


18. İnek sepeneklerindeki diğer hayvanlardan daha ağırdır. Doğru cevap C sepenektir.



19.

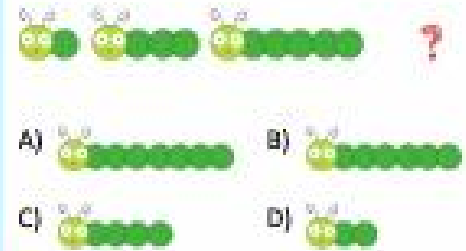


20. Verilmiş bəşqəməndə hər arada 1 və 2 qədər birləşdirilərək 3 qədər olubunuradırlar. Bu kəndə görə altı növbə 1 və 2 qədər birləşdirilərək həl olubunuradırlar. Verilmiş bəşqəməndə hər arada 1 və 2 qədər birləşdirilərək 3 qədər olubunuradırlar. Bu kəndə görə altı növbə 1 və 2 qədər birləşdirilərək həl olubunuradırlar.



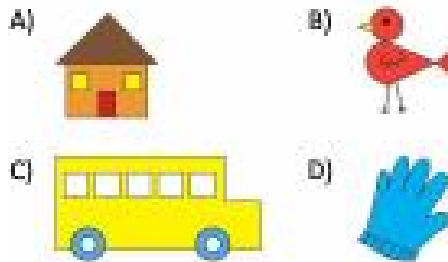
CEWAP: B

21. Verilen bütün idgar bilime artarak Barlyan Son
büt 7 bane yurtdışdan oluymalıdır Doğru cevap
A seçeneğidir.




CEVAP: A

22. Verilen sayıların sadece bir kısmı 10'a bölünebilir. Doğru cevap A seçeneğidir.




CEVAP: A

23. Reşmin altlık parçası D sapağıyla verimlidir
Doğru cevap D sapağıdır



CEVAP: D

24. Verilərsən bəşqəmədə ən bəndə rəvəli qəli ən ərəyə gətirəni: Bəndə olqurduqmuşur 3 ədədə ən bəndə kəməz qəli ərəyə alınma, 4 qəli ələ ədib: Sura gəmə sara ləvəli yəndə ən ərədə cəməs gəməz qəli nəqil kəməz ələvəli: Dəğrə cəmə A səqəvəddir



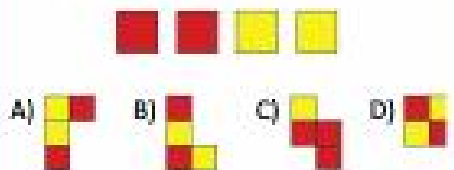
CEWAP-2

25. Verilen resimlerde kapa ve kışa aynı E anıyle bağlanmaktadır. Aynı (kış) anıylelerde E anıyle bağlayan ar ve elde resim in oldu ğu C seçene ğinde vardır. Doğru cevap C seçene ğidir.




CEWAP: C

25. Soruda 2 formu ve 2 san kare verilmştir. A, B, D seçeneklerindeki ifadeler bu sayda ve renkte kare kullanarak oluşturulmuştur. C seçeneğinde ise 2 formu 3 san kare kullanılmıştır. Doğru cevap C seçeneğidir.




CEVAP: C

27. Verilen farklılıkta aittaki daimi tam daimi ve yarım daimi gelişinde ilerlemektir. Bu kurallı göre soru işaretli yere aittaki daimi yarım daimi olan kelil gelmektedir Doğru cevap D seçeneğidir



CEWAP: D

28. Senebilerdeki ilağ ilağı, ahtapot ve böcek balığı suya yapışmaktadır. A senebilerdeki ilağ suya yapışmaktadır. Doğru cevap A senebilerdir.



29. 3. sırada 4. nesim diğerlerinden farklıdır




30. Aynı cins 12 karlıktan oluşan topluluğa dölüne denktir 12 kız olmas için 3 kız nesli daha eklenmelidir. Doğru cevap C seçeneğidir.



5. DENEME ÇÖZÜMLERİ

1. Bir kare içinde birer kat çizilmektedir. Soru işaretli karede bir kare sadece 1 kat olmalıdır. Doğru cevap D seçeneğidir.



A) 4 B) 3 C) 2 D) 1

CEVAP: D

4. Sonuçta bir elma ve yarım elma verilmiştir. A, B ve C seçeneklerinde meyve ve meyvenin yarı gösterilmiştir. D seçeneğinde bir tane yarı elma verilmiştir. Doğru cevap D seçeneğidir.



A) 1 B) 2 C) 3 D) 4


CEVAP: D

7. Tarih bilimine bakarak öğrenilebilir. Doğru cevap B seçeneğidir.



CEVAP: B

10. Resmin eldeki parçası C seçeneğinde verilmiştir. Doğru cevap C seçeneğidir.



A) 1 B) 2 C) 3 D) 4

2. Resimde 5 adet oturan kurbağa vardır. Doğru cevap C seçeneğidir.



A) 1 B) 2 C) 3 D) 4

CEVAP: C


5. Verilen örüntüde 4 farklı çiçek sıralanmıştır. Buna göre soru işaretli olan yarı A seçeneğindeki çiçek gelmelidir. Doğru cevap A seçeneğidir.



A) 1 B) 2 C) 3 D) 4

CEVAP: A

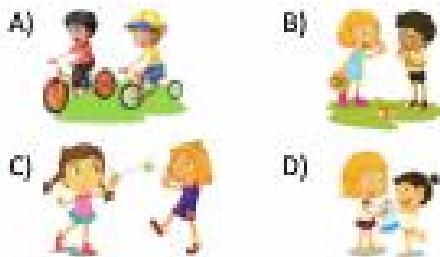
8. Verilenlere bakıldığında, her sırada bir kare içi şekil birleştirilerek 2 şekil elde edilmiştir. Bu kurala göre soru işaretli yere kare ve üçgenin birleştirilmesi halli gelmelidir. Doğru cevap D seçeneğidir.




A) 1 B) 2 C) 3 D) 4

CEVAP: D

11. Soruda anlatılan resim A seçeneğinde verilmiştir. Doğru cevap A seçeneğidir.

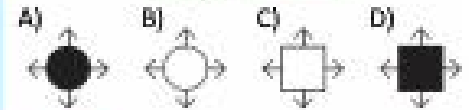



3. Seçeneklerde kardan adam yapan çocuklar gösterilmektedir. Doğru olanın B-C-A gelmelidir.



CEVAP: C

6. Verilenlere bakıldığında, her sırada içteki şekil renk değiştirilerek dıştaki şekil elde edilmiştir. Bu kurala göre, soru işaretli yere siyah dairenin beyaz gelmelidir. Doğru cevap B seçeneğidir.




CEVAP: B

9. Heliye taşıyan kişi ile ilgili resim B'de yer almaktadır. Doğru cevap C seçeneğidir.



CEVAP: C

12. Koy, siyah ve sarı bir kuştur. Maymun koy değildir. Doğru cevap A seçeneğidir.



13. Resimde 4 tane ağaçta doğru uçan kuş vardır. Doğru cevap A seçeneğidir.



A) 4 B) 1 C) 2 D) 3

CEVAP: A

16. A, B, C seçeneklerindeki kelimeler benzer okunduklarında yine kelimeleriyle aynı kelimedir. Örneğin KÜÇÜK kelimed benzer okunursa yine KÜÇÜK diye okunur. C seçeneğindeki ETTE kelimed benzer okunduğunda ETTİ şeklinde okunduğu için bu şekilde diğer seçeneklerden farklıdır. Doğru cevap D seçeneğidir.

A) KÜÇÜK B) KEPEK

C) KAVAK D) ETEK


CEVAP: D

19. Sabah yatmadan kalkarak güne başlayan bir çocuğun gün içinde yaptıkları neredenlikler şuna göre 1 neyin çocuğun sabah yatmadan kalktığı neyin olur. Doğru cevap C seçeneğidir.




CEVAP: C

22. En çok sayıda uzaylı C seçeneğinde vardır. Doğru cevap C seçeneğidir.



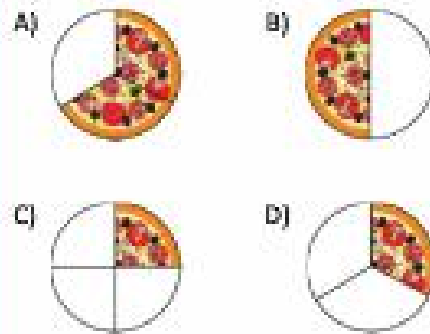
14. Verilen dörttebirden birer kare kutu içinde birer kare kalemle boyanmış. Sonuçta kalan kare C seçeneğindeki şekle gelmelidir. Doğru cevap C seçeneğidir.



A) B) C) D)


CEVAP: C

17. B seçeneğindeki pizzanın yarısı yenmiştir. Doğru cevap B seçeneğidir.



CEVAP: B

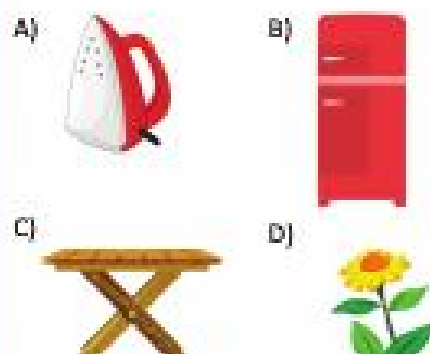
20. Verilenlere bakıldığında her sırada 1 ve 2 şekli birleştirilmekte ve beyaz kalan kısmı alarak da mor boyanarak 3 şekli oluşmaktadır. Bu şekilde göre sonu sonuçta kalan yarı B seçeneğindeki şekle gelmelidir. Doğru cevap B seçeneğidir.



A) B) C) D)

CEVAP: B

23. Çizik diğer seçeneklerdeki nesnelerden daha kalıftır. Doğru cevap D seçeneğidir.

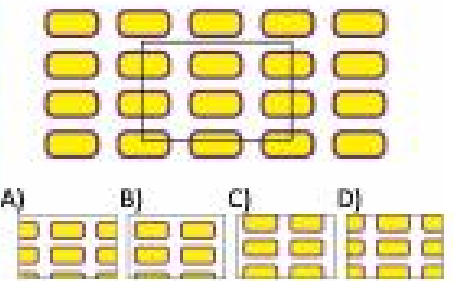


15. B seçeneğindeki çocuk yangın diğerlerinin arasında yerli yerde bulunmamıştır. Doğru cevap B seçeneğidir.



CEVAP: B

18. Resmin altı parçası A seçeneğinde verilmiştir. Doğru cevap A seçeneğidir.



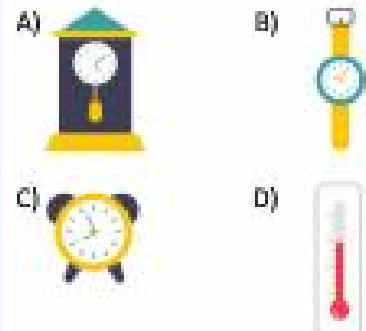
CEVAP: A

21. Verilen dörtte birer kare, mavi kare, mavi yıldız ve mavi kare şeklinde kalemle boyanmıştır. Bu dörtte birer kare sonu sonuçta kalan yarı mavi kare gelmelidir. Doğru cevap C seçeneğidir.



CEVAP: C

24. Termometre sıcaklığı gösterir. Doğru cevap D seçeneğidir.



25. 1 numaralı araba 2 numaralı arabayı geçerse 2 olur. Doğru cevap B seçeneğidir.



A) 1 B) 2 C) 3 D) 4

CEVAP: B

28. Verilen geldi saat yönünde döndürüldüğünde yıldı anıta gelir. Doğru cevap A seçeneğidir.



A) B)
C) D)

CEVAP: A

26. Sepetlerdekilerden birini alırsın, kışak ve bise içiş ilgilidir. D seçeneğindeki dondurma daha çok yaz mevsimleriyle ilgilidir. Doğru cevap D seçeneğidir.



A) B)
C) D)

CEVAP: D

27. Sepetlerdeki motosiklet, araba, otobüs tamı başlıdır. Uçak bir hava taşıdır. Doğru cevap A seçeneğidir.

A) B)
C) D)

CEVAP: A

29. Soruda hayvan ve kuş ilgilidir. Örnek: Örnek ve örnek kuş verilmektedir. Burada bir kuş kuş verilmektedir. Doğru cevap B seçeneğidir.



A) B)
C) D)

CEVAP: B

30. Verilen sayıyı 2'ye bölüp kalanı sayıya eklenmelidir. Buna göre 5'den sonra 11 sayı gelmelidir. Doğru cevap B seçeneğidir.

1	2	3	4	5	6	7	8	9	10	11	12	13	14	15	16	17	18	19	20	21	22	23	24	25	26	27	28	29	30	31	32	33	34	35	36	37	38	39	40	41	42	43	44	45	46	47	48	49	50	51	52	53	54	55	56	57	58	59	60	61	62	63	64	65	66	67	68	69	70	71	72	73	74	75	76	77	78	79	80	81	82	83	84	85	86	87	88	89	90	91	92	93	94	95	96	97	98	99	100
---	---	---	---	---	---	---	---	---	----	----	----	----	----	----	----	----	----	----	----	----	----	----	----	----	----	----	----	----	----	----	----	----	----	----	----	----	----	----	----	----	----	----	----	----	----	----	----	----	----	----	----	----	----	----	----	----	----	----	----	----	----	----	----	----	----	----	----	----	----	----	----	----	----	----	----	----	----	----	----	----	----	----	----	----	----	----	----	----	----	----	----	----	----	----	----	----	----	----	-----

A) 10 B) 11 C) 12 D) 13

CEVAP: B

6. DENEME ÇÖZÜMLERİ

1. Sepetlerdeki sebze/etlerden sadece mavi toprak altında yettiler. Doğru cevap B seçeneğidir.

A) B)
C) D)

CEVAP: B


2. Verilen beline TE harfleri ile tamamlanırsa TETEMİZ beline elde edilir. Doğru cevap D seçeneğidir.

T E T E M İ Z

A) 10 B) 11 C) 12 D) 13

CEVAP: D

3. Verilen tablodaki her satırda bir kırmızı, bir yeşil ve bir beyaz top vardır. Bu kurala göre, soru işaretli yere beyaz top gelmelidir.




A) B) C) D)

CEVAP: D

4. Sepetlerdeki kışaklar, puzlular (A) yönü gösterir. Kışak (C) kışakların açıldığı yönü gösterir. Kışak (D) bir kışak arasıdır. D seçeneğindeki kışak kışaklar tarafından kullanılır. Doğru cevap D seçeneğidir.

A) B)
C) D)

5. Örneklerde her satırda kışak ve aşağı aynı geldi yer alınmalıdır. Bu kurala göre soru işaretli olan yere A seçeneğindeki kışak gelmelidir. Doğru cevap A seçeneğidir.



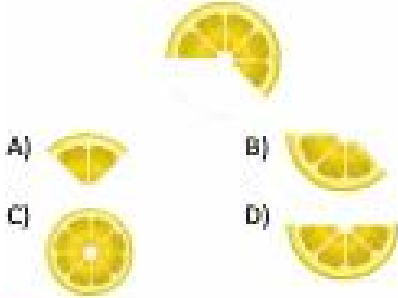
A) B) C) D)

6. Örnek, tam elma, yarım elma, yarım elma gelmelidir. Örnekteki bütün elma D seçeneğinde verilmektedir. Doğru cevap D seçeneğidir.




A) B) C) D)

7. Verilen portakal dilimlerinin 5 dilim parçasından oluştuğu soruda verilen şekilden anlaşılmaktadır. Buna göre tam bir portakal dilimini 8 dilim parçasından oluşmaktadır. Tam bir dilim olması için 3 dilim parça eksiktir. Doğru cevap B seçeneğidir.



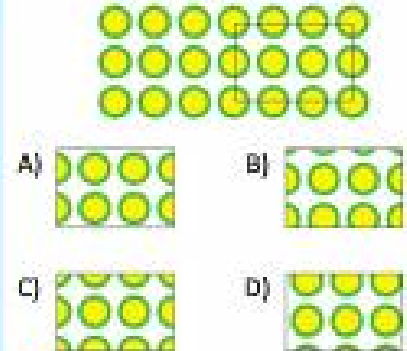
CEVAP: B

8. En yabandaki dalda duran üç diğer kuşlara göre daha yabandadır. Doğru cevap C seçeneğidir.




CEVAP: C

9. Verilen bölünürün eklenmesi C seçeneğinde verilmiştir. Doğru cevap C seçeneğidir.



CEVAP: C

10. Dört günlerden biri bu bugün çarşambadır. Doğru cevap C seçeneğidir.



CEVAP: C

11. B seçeneğindeki şekil iki eş parçaya ayrılmıştır. Diğer seçeneklerde eş parçalara ayrılmamıştır. Doğru cevap B seçeneğidir.





CEVAP: B

- 12.



CEVAP:

13. Soruda verilen 3 şekil 1 şekildedeki iki dilimin sonucu geleceği şekilde birleştirilmiştir. A seçeneğindeki şekil daha büyük bir dilim elde eder. Doğru cevap A seçeneğidir.



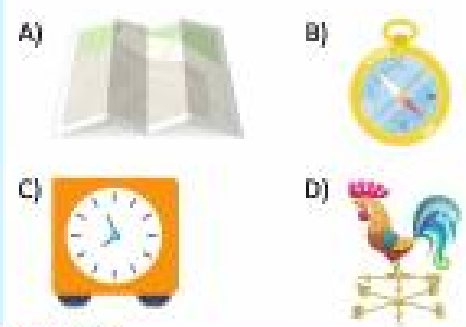
CEVAP: A

14. Örnekteki şeklin her tarafında saat yönünde bir kez döndürülmesiyle oluşan şekil olarak ilerlemelidir. Bu kurala göre soru işaretli olan yere A seçeneğindeki şekil gelmelidir. Doğru cevap A seçeneğidir.



CEVAP: A

15. B seçeneğinde pusula resmi gösterilmektedir. Doğru cevap B seçeneğidir.



CEVAP: B

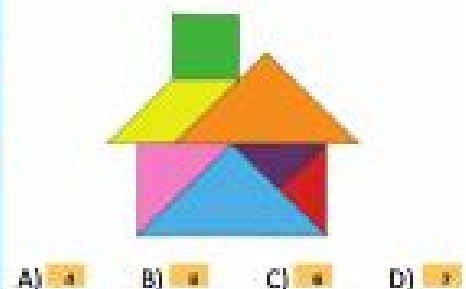
16. 5 kuruş diğer seçeneklerdeki paralardan daha büyüktür. Doğru cevap D seçeneğidir.



17. Soruda verilen şekil örüntüsünde pastalar birer bir artırarak ilerlemektedir. Bu kurala göre soru işaretli olan yere 4 katlı bir pasta gelmelidir. Doğru cevap C seçeneğidir.



18. Şeklin yapımında 5 tane dilim kullanılmıştır. Doğru cevap B seçeneğidir.



A) 4 B) 5 C) 6 D) 7

A)

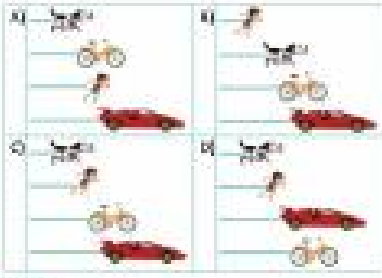
B)

C)

D)



7. DENEME ÇÖZÜMLERİ

1. En önde araba, daha sonra bisiklet, çocuk ve en sonunda köpek olmalıdır. Doğru cevap C seçeneğidir.




CEVAP: C

4. Resmin altık parçası D seçeneğinde verilmiştir. Doğru cevap D seçeneğidir.



CEVAP: D

7. Verilenlere bakıldığında her satırda şekiller soldan sağa doğru büyümektedir. Bu kurala göre, sonu üçgen olan yere C seçeneğindeki şekil gelmelidir. Doğru cevap C seçeneğidir.




CEVAP: C

10. Şiirde elma bahmesi geçmemelidir. Doğru cevap B seçeneğidir.



CEVAP: B

13. Seçeneklerde hava, deniz ve kara bağlarının bulunduğu yerler verilmiştir. Araba karayolunda gider. Doğru cevap B seçeneğidir.




2. Alt satırda farklı renklerde iki elma resmi verilmiştir. Bu kurala göre üst satırda da farklı renkte iki eldiven resmi olmalıdır. Doğru cevap C seçeneğidir.



CEVAP: C

5. Verilen dizi en altta olan kare en öbe getirilerek ilerlemektedir. Sonu üçgen olan yerde en öbe mor altta son kare olmalıdır. Doğru cevap C seçeneğidir.




CEVAP: C

8. Sonunda farklı plaza serisi edilir denilmiştir. Doğru cevap B seçeneğidir.



CEVAP: B

11. Her satırda 3 farklı şekil kullanılır. Bu kurala göre 3. satırda eksik olan şekil son karelerdir. Doğru cevap C seçeneğidir.



CEVAP: C

14. A, C ve D seçeneklerinde baki paydaları vardır. Her üç baki baki değildir. Doğru cevap B seçeneğidir.



3. Çatı altında önce 4 elma verilmiş, sonra elmalar 1 ve 2 elma olarak paylaşılır. Alt satırda 4 yapraklı olan bir ağaç verilmiştir. Bu kurala göre dışarıda ağaçların altında 1 diğerinde 3 yapraklı olmalıdır. Doğru cevap C seçeneğidir.




CEVAP: C

6. Sonunda neane ve bu neanın karşıtında ışık veren başka bir neane ilgilidir. Örneğin çalınmış mumu yakmış için çalınmış mum ilgilidir. Bu kurala göre lamba anahiden de ışıkla açar. Doğru cevap D seçeneğidir.



CEVAP: D

9. Verilen tabloda üst satırda ilk bölümde yuvarlaklar birer asılarak ikinci bölümde yuvarlaklar elde edilmektedir. Bu kurala göre sonu üçgenli yuvarlak yuvarlak sayılarından önceki bölümde yuvarlaklar birer asılarak elde edilmelidir. Doğru cevap C seçeneğidir.



CEVAP: C

12. Sonunda hayvan ve yavruğu yer ilgilidir. Örneğin balık ve akvaryum verilir. Bu kurala göre köpek ile ilgili olan neane bululmalıdır. Doğru cevap B seçeneğidir.



CEVAP: B

15. Üst satırda altı tane şekil ile altı tane şekil yer değiştirilmiştir. Bu kurala göre sonu üçgenli yerde mor şekli olan, buruncu da altta olacak şekilde yer değiştirilmelidir. Doğru cevap C seçeneğidir.

