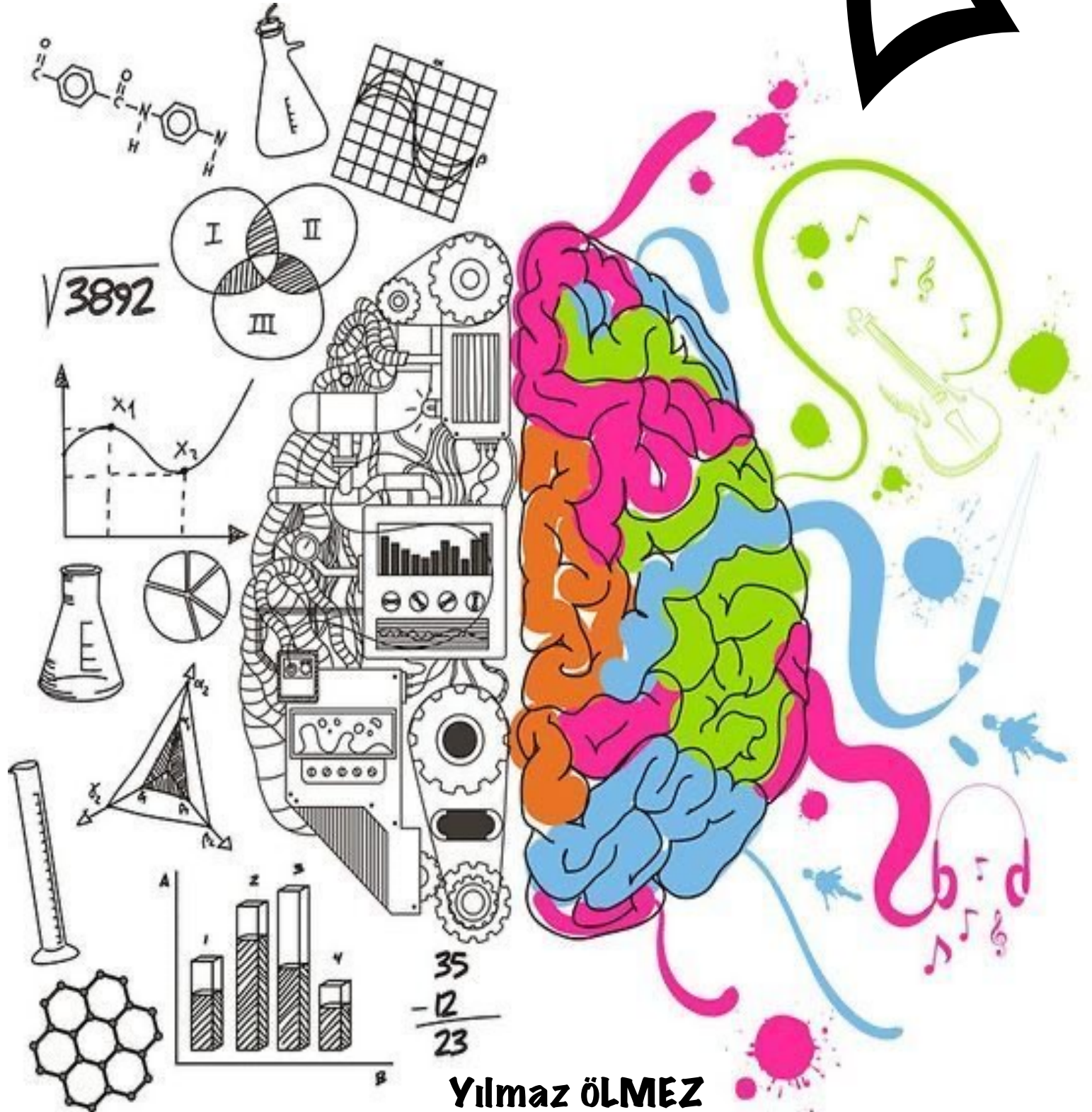



BİLSEM

DENEME SINAVI



Yılmaz ÖLMEZ

Bilsem Nedir?

Bilsem nedir, ne amalar, nasıl başvurulur?

Bilsem, Bilim ve Sanat Eđitim Merkezlerinin kısaltılmış ismidir. İlkokullarda sınavla tespit edilen özel yetenekli öğrencilerin örgün eğitim kurumlarındaki eğitimlerini aksatmayacak şekilde bireysel yeteneklerinin farkında olmalarını sağlamak ve sahip oldukları kapasitelerini geliştirerek üst düzeyde kullanmalarını sağlamak amacıyla devlete bađlı olarak açılmış olan özel eğitim kurumlarıdır. Türkiye genelinde her ilde bir bilsem olmakla birlikte nüfus yoğunluđuna göre büyük şehirlerde birden fazla bilsem olabilmektedir.

İçindekiler

NOT : Sınava başlamadan yanınızda cevapları not alabileceğiniz bir kağıt bulundurunuz.



1. Bölüm

ŞİFRELEME

ŞİFRELEME 1

KELİMELER

ELMAS
SLMAE
EAMLS
MLSAE
MASEL

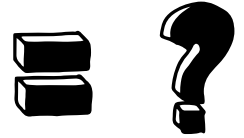


SAYI KARŞILIĞI

93604
40936
90643
63904
43906

İSTENEN

ELMAS



A

43906

B

40936

C

49306

D

43096

ŞİFRELEME 2

KELİMELER

SAMO
AMOS
OMAS
SOMA



SAYI KARŞILIĞI

1423
4231
1324
3241

İSTENEN

SAMAN



A

24148

B

14248

C

18482

D

14842

ŞİFRELEME 3

KELİMELER

KUPA
UPAK
KAPU
APKU



SAYI KARŞILIĞI

8124
4218
8421
1284

İSTENEN

KUPA



A

1248

B

8421

C

4218

D

8124

ŞİFRELEME 4

KELİMELER

ŞMU

MŞU

MUŞ

UŞM



SAYI KARŞILIĞI

614

146

461

416

İSTENEN

MUŞ



A

614

B

146

C

461

D

416

ŞİFRELEME 5

KELİMELER

SAZ

SAM

AMA

SAYI KARŞILIĞI

671

718

877

Not: Sayılar karışık verilmiştir.

İSTENEN

MASA

= ?

A

B

C

D

8771

8117

2771


2117



2.Bölüm


KÜP ÇÖZÜMLEME

KÜP ÇÖZÜMLEME 1




Renkli küp çevirildikçe oluşan durumlardan hareketle. Soru işareti (?) yerine gelecek olan rengi bulunuz ?


A




B



C



D




KÜP ÇÖZÜMLEME 2




Renkli küp çevirildikçe oluşan durumlardan hareketle. Soru işareti (?) yerine gelecek olan rengi bulunuz ?


A




B




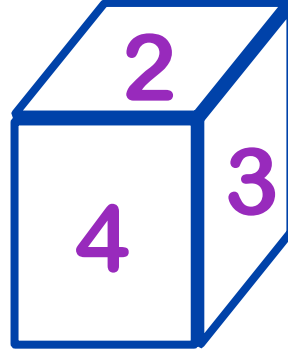
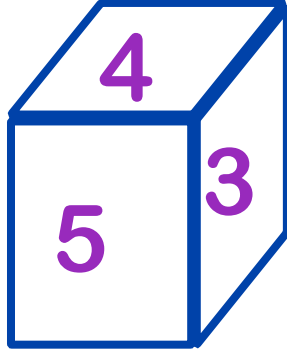
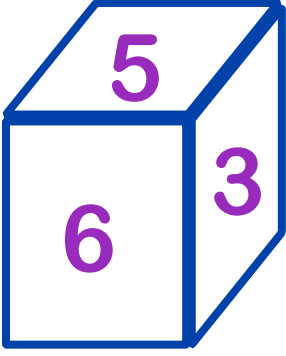
C



D



KÜP ÇÖZÜMLEME 1



1'den 6'ya kadar sayılar yazılan küp çevirildikçe bu durumlar oluşuyor. Soru işareti (?) yerine gelecek sayıyı bulunuz ?

A

4

B

5

C

6

E

1


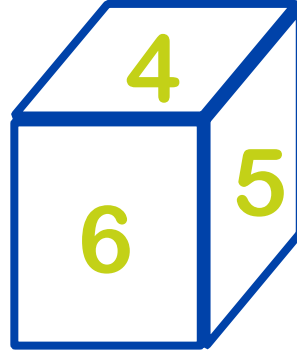
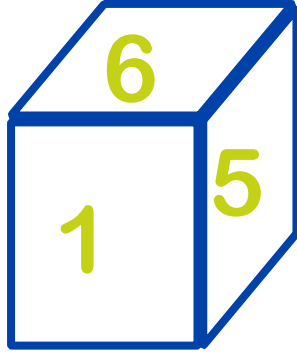
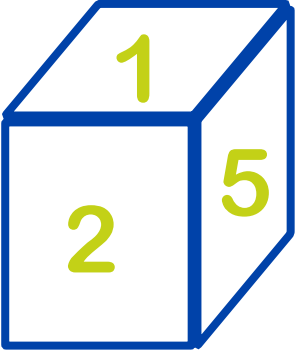
F

2

G

3

KÜP ÇÖZÜMLEME 2



1'den 6'ya kadar sayılar yazılan küp çevirildikçe bu durumlar oluşuyor. Soru işareti (?) yerine gelecek sayıyı bulunuz ?

A

6

B

1

C

2

E

3

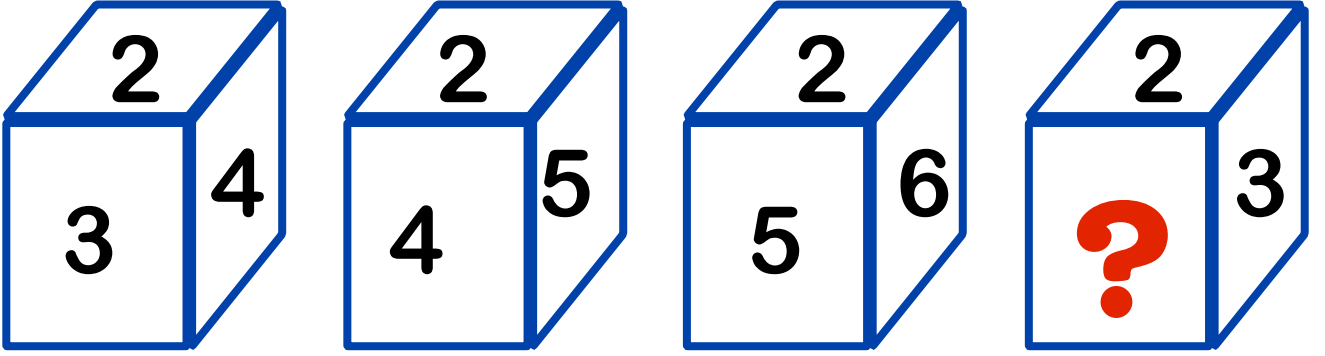
F

4

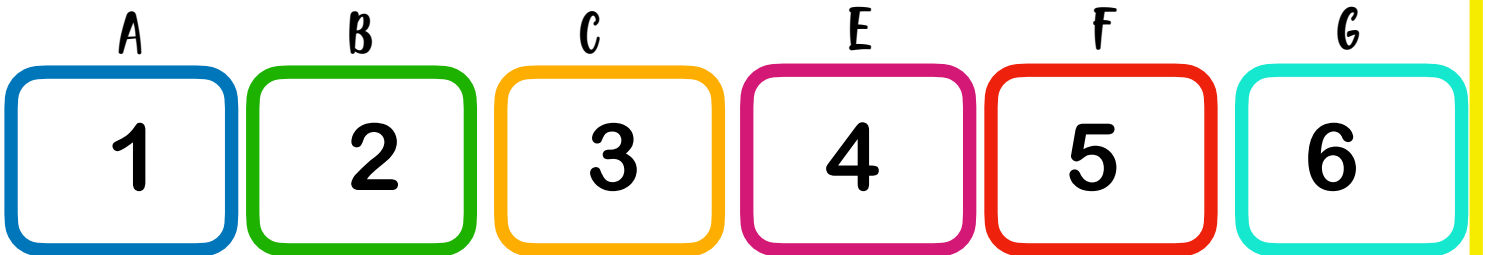
G

5

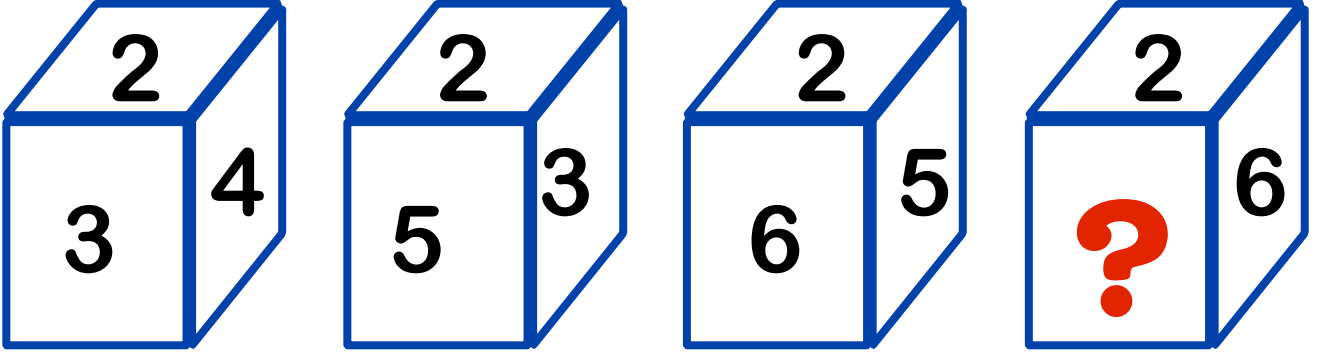
KÜP ÇÖZÜMLEME 3



1'den 6'ya kadar sayılar yazılan küp çevirildikçe bu durumlar oluşuyor. Soru işareti (?) yerine gelecek sayıyı bulunuz ?



KÜP ÇÖZÜMLEME 4



1'den 6'ya kadar sayılar yazılan küp çevirildikçe bu durumlar oluşuyor. Soru işareti (?) yerine gelecek sayıyı bulunuz ?






3. Bölüm

ŞEKLİN DEVAMI

ŞEKLİN DEVAMI 1



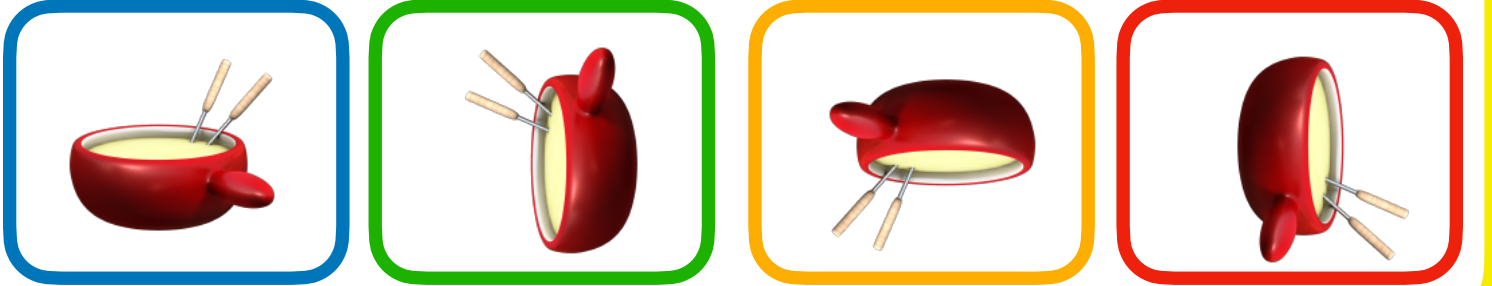
Soru işareti yerine gelecek şekki bulunuz ?

A

B

C

D



ŞEKLİN DEVAMI 2



Soru işareti yerine gelecek şekki bulunuz ?

A



B



C



D



ŞEKLİN DEVAMI 2



Soru işareti yerine gelecek şekki bulunuz ?

A

B

C

D




ŞEKLİN DEVAMI 3




Soru işareti yerine gelecek şekki bulunuz ?

A



B



C



D





4. Bölüm

AYNADAKİ GÖRÜNTÜSÜ

AYNADAKİ GÖRÜNTÜSÜ 1



Aynadaki görüntüsünü gösteren şıkkı bulunuz ?

A



B



C



D



AYNADAKİ GÖRÜNTÜSÜ 2



A



B



C



D





6. Bölüm


GÖLGE BULMA

GÖLGE BULMA 1





Doğru gölgeyi gösteren şıkkı bulunuz ?

GÖLGE BULMA 1



Doğru gölgeyi gösteren şıkkı bulunuz ?

GÖLGE BULMA 2



Doğru gölgeyi gösteren şıkkı bulunuz ?




7. Bölüm

GÖRSEL İLİŞKİ

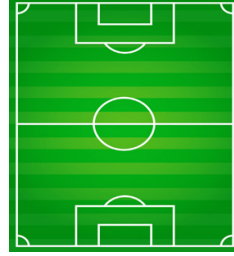
GÖRSEL İLİŞKİ 1



A.



B.



C.




Görsel ile ilişkili olan şıkkı bulunuz ?

GÖRSEL İLİŞKİ 1



Görsel ile ilişkili olan şıkkı bulunuz ?

GÖRSEL İLİŞKİ 1



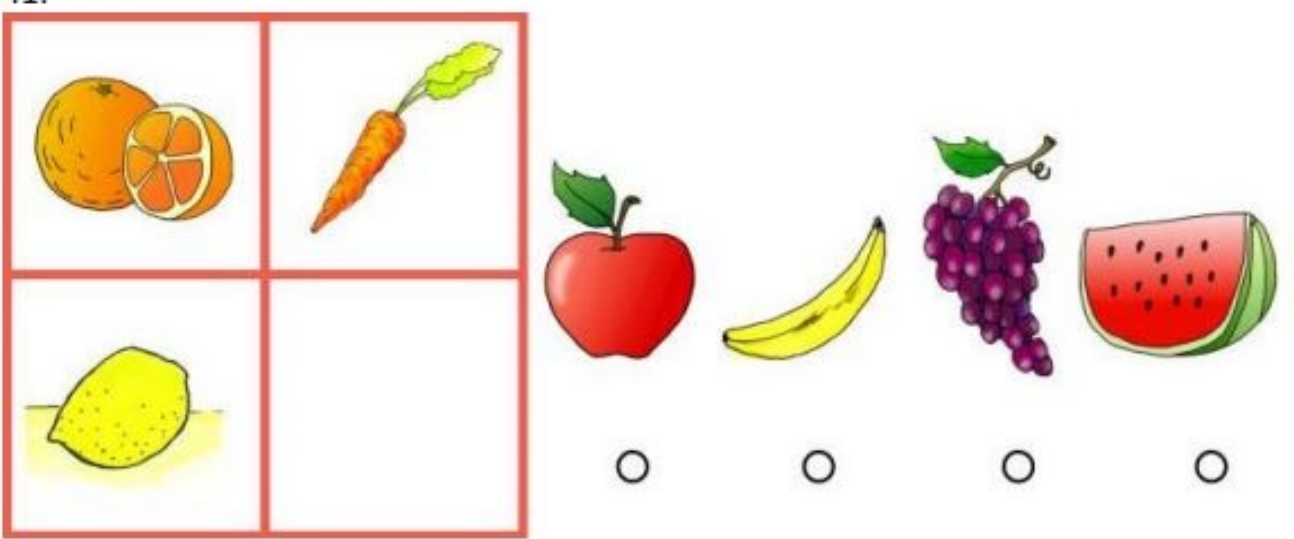
Görsel ile ilişkili olan şıkkı bulunuz ?

GÖRSEL İLİŞKİ 2




Görsel ile ilişkili olan şıkkı bulunuz ?

GÖRSEL İLİŞKİ 2



Görsel ile ilişkili olan şıkkı bulunuz ?

GÖRSEL İLİŞKİ 2



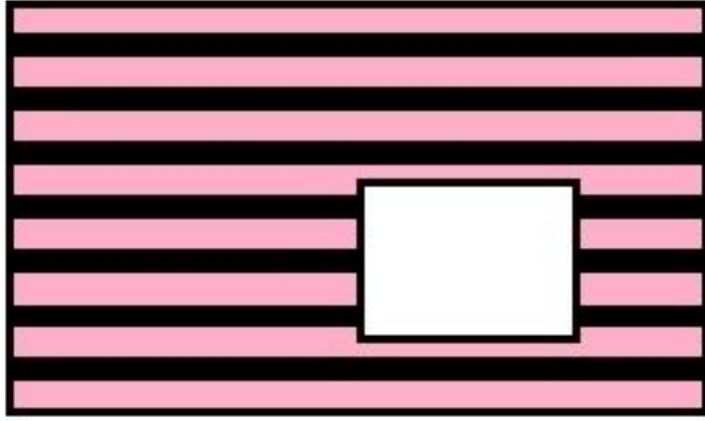
Görsel ile ilişkili olan şıkkı bulunuz ?



8. Bölüm

Şekil Tamamlama

ŞEKİL TAMAMLAMA 1



1



2



3



4



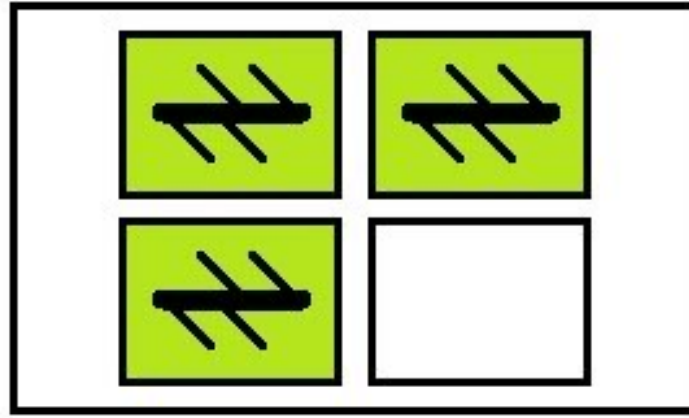
5



6

Görselde eksik bölgeye gelecek şekki bulunuz ?

ŞEKİL TAMAMLAMA 1



1



2



3



4




5



6

Görselde eksik bölgeye gelecek şekki bulunuz ?

ŞEKİL TAMAMLAMA 2



1

2

3



4

5

6

Görseli oluşturmak için hangi şekiller seçilmelidir ?



9. Bölüm

Değer Bulma

DEĞER BULMA 1

$$\text{Pancake} + \text{Pancake} = 26$$

$$11 - \text{Coffee} = \text{Cake}$$

$$\text{Coffee} + \text{Pancake} = 17$$

$$\text{Cake} - \text{Coffee} = 3$$

$$\text{Cake} = ?$$

Eşitliği sağlayan değeri bulunuz ?

DEĞER BULMA 1

$$\text{Pikachu} + \text{Pokeball} + \text{Pikachu} = 18$$

$$\text{Bulbasaur} + \text{Bulbasaur} + \text{Charmander} = 21$$

$$\text{Charmander} = \text{Bulbasaur}$$

$$\text{Bulbasaur} - 5 = \text{Pokeball}$$

$$\text{Pikachu} = ?$$



Eşitliği sağlayan değeri bulunuz ?



10. Bölüm

Kelime Eşleme

KELİME EŞLEME 1

Koyun → Kuzu

Eşek → ?

İlk kelime eşleşmesine göre “?” yerin ne gelmesi uygundur ?

A

Tay

B

Civciv

C


Sıpa

D

Oğlak


KELİME EŞLEME 3

Hakem



Düdük

Polis



?

İlk kelime eşleşmesine göre “?” yerin ne gelmesi uygundur ?

A

Fülüt

B

Suçlu

C

Araba

D

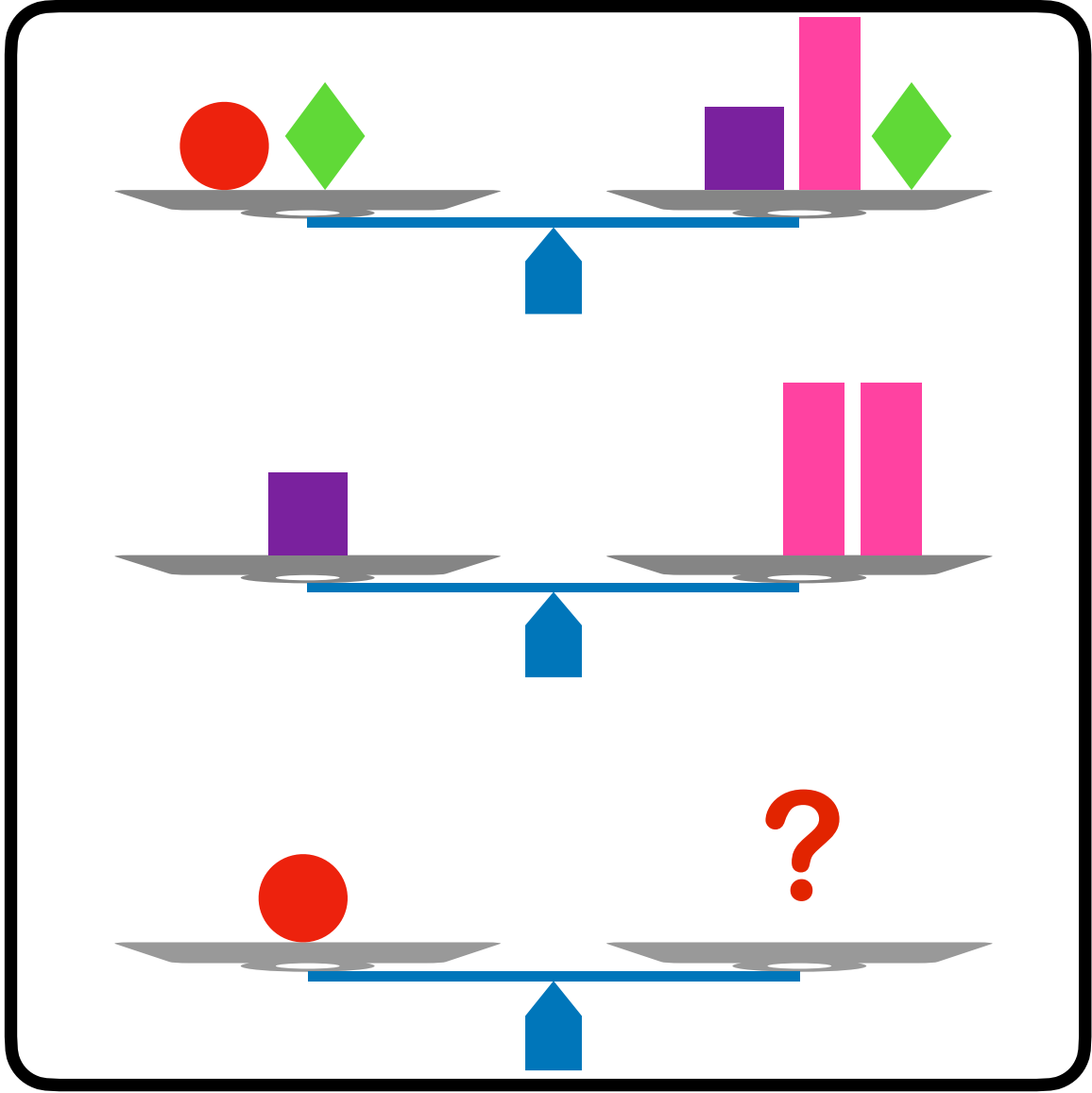
Telsiz



1 1. Bölüm


Terazi Dengeleme

TERAZİ DENGELEME 1

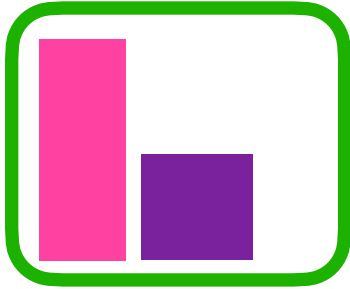


Teraziler dengede ise “?” yerin hangi seçenek gelmesi uygundur ?


A




B



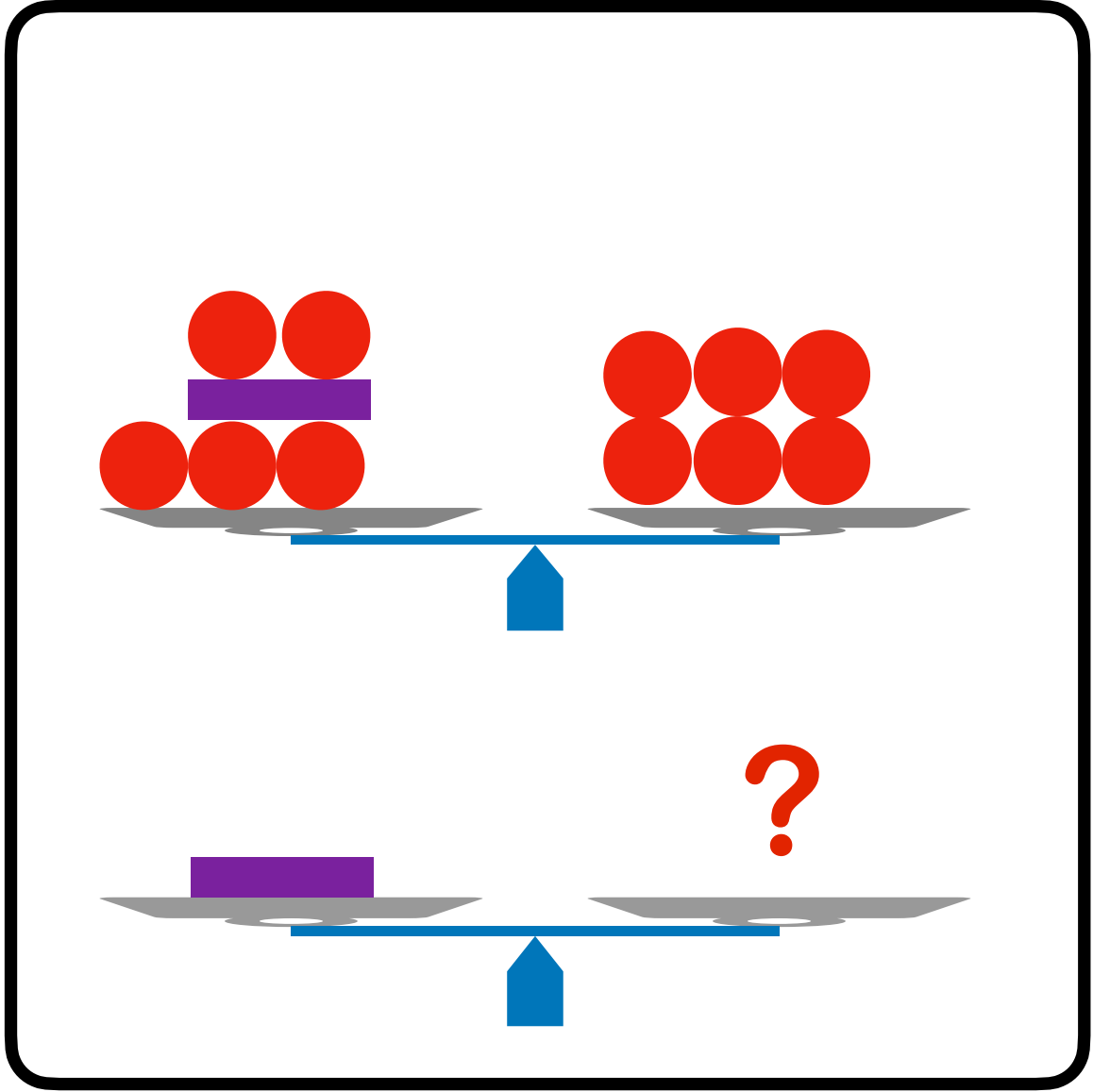
C



D




TERAZİ DENGELEME 1




Teraziler dengede ise “?” yerin hangi seçenek gelmesi uygundur ?


A




B



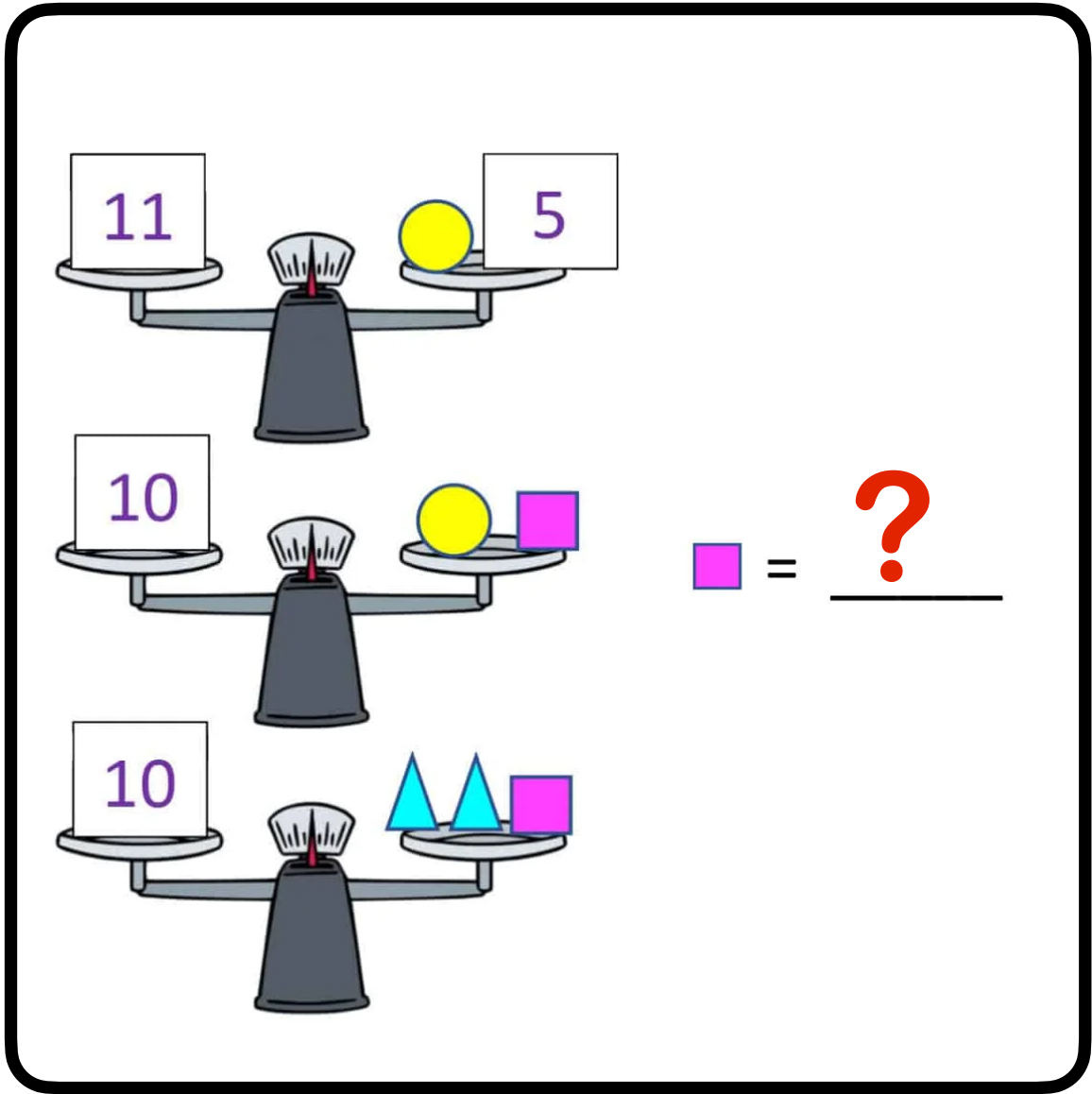
C



D



TERAZİ DENGELEME 2



Teraziler dengede ise “?” yerin hangi seçenek gelmesi uygundur ?

A

B

C

D

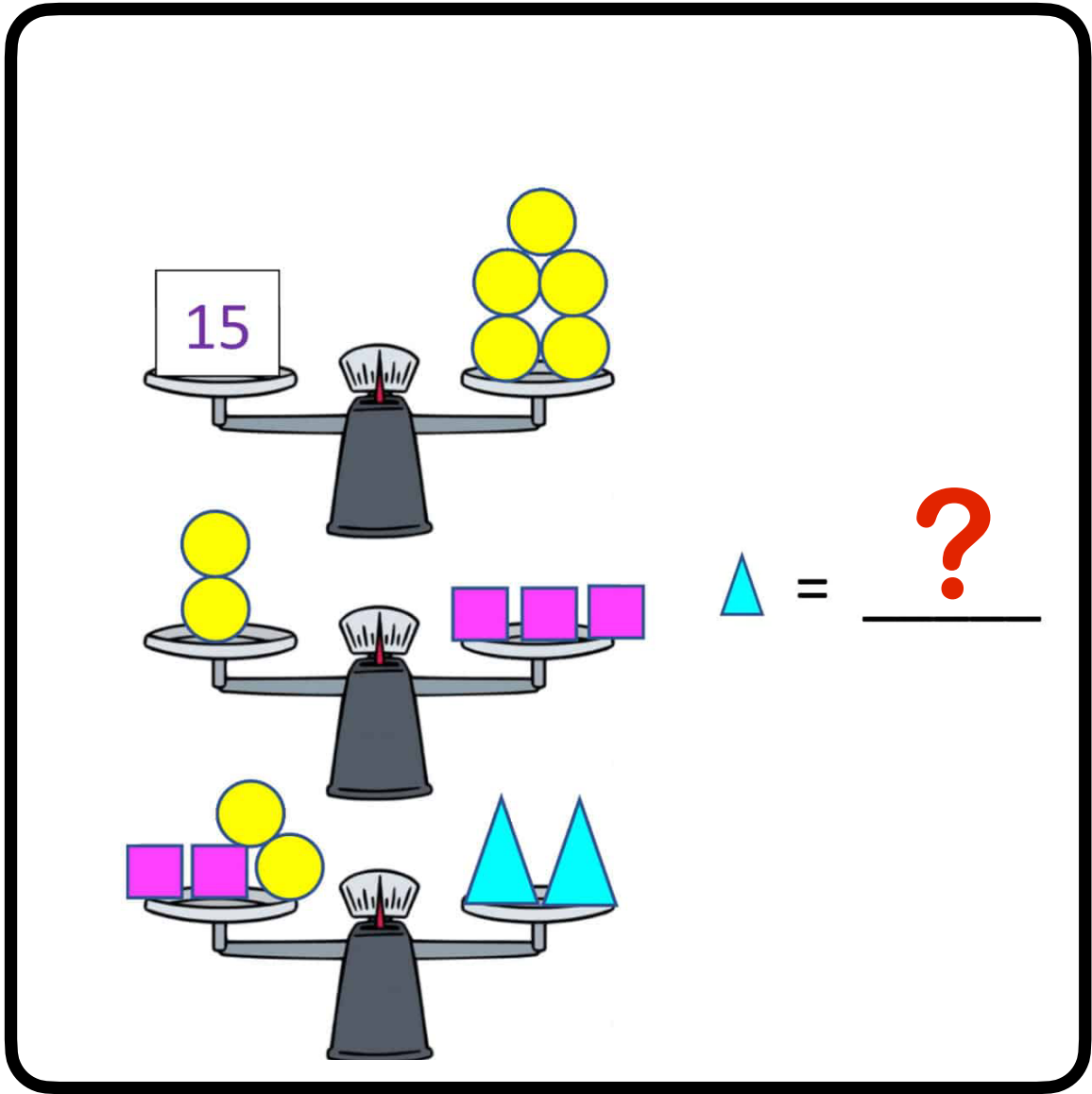
6

4

3

2

TERAZİ DENGELEME 3



Teraziler dengede ise “?” yerin hangi seçenek gelmesi uygundur ?

A

3

B

2

C

10

D



5



12. Bölüm

Örüntüler

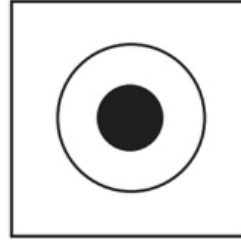
ÖRÜNTÜ 1




(A)



(B)



(C)



(D)

Örüntüde “?” yerin hangisinin gelmesi uygundur ?

A

B

C

D

A

B

C

D



13. Bölüm

CEVAPLAR

