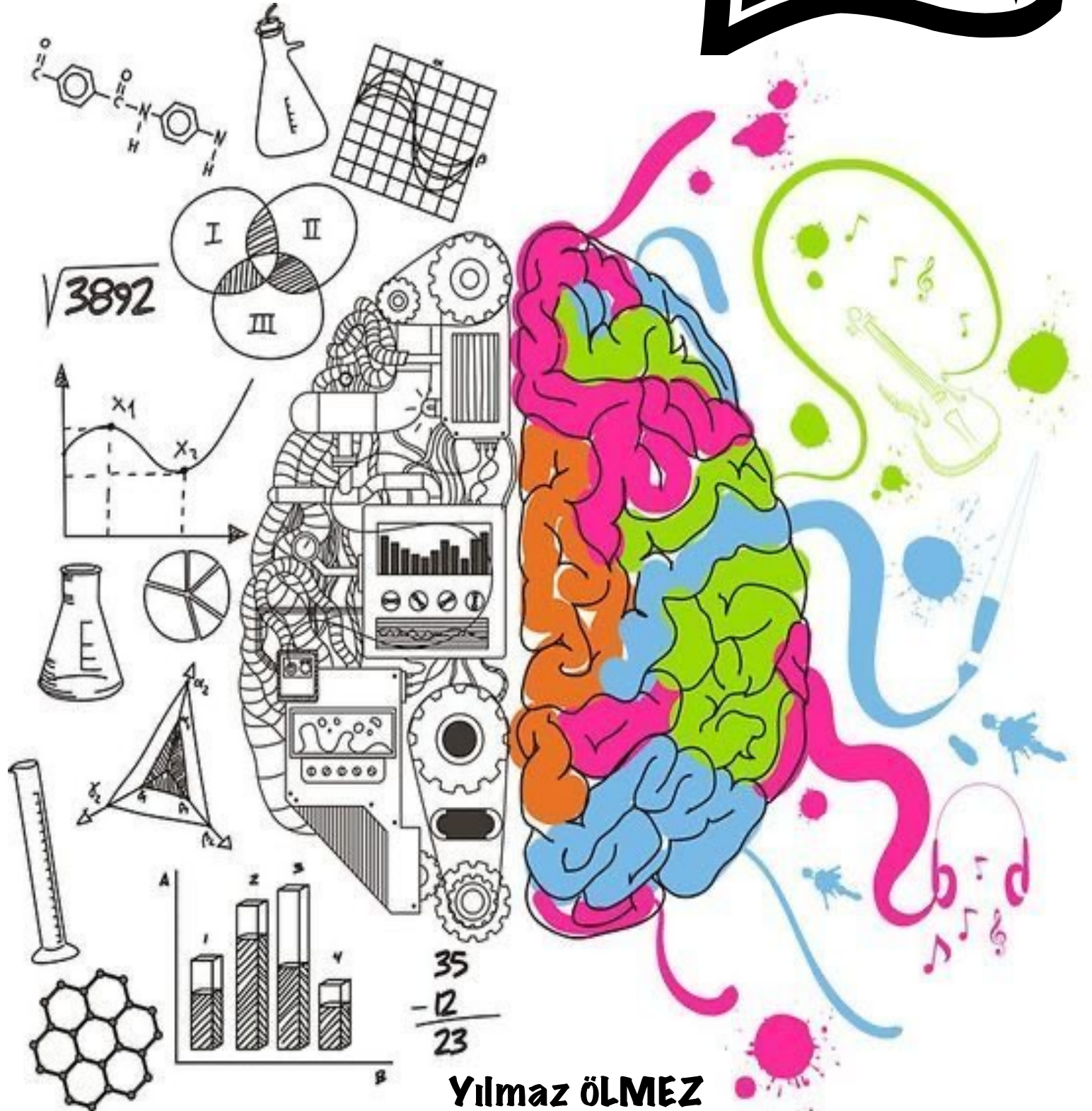


# BİLSEM

## DENEME SINAVI



Yılmaz ÖLMEZ

# Bilsem Nedir?

## Bilsem nedir, ne amalar, nasıl başvurulur?

Bilsem, Bilim ve Sanat Eđitim Merkezlerinin kısaltılmış ismidir. İlkokullarda sınavla tespit edilen özel yetenekli öğrencilerin örgün eğitim kurumlarındaki eğitimlerini aksatmayacak şekilde bireysel yeteneklerinin farkında olmalarını sağlamak ve sahip oldukları kapasitelerini geliştirerek üst düzeyde kullanmalarını sağlamak amacıyla devlete bađlı olarak açılmış olan özel eğitim kurumlarıdır. Türkiye genelinde her ilde bir bilsem olmakla birlikte nüfus yoğunluđuna göre büyük şehirlerde birden fazla bilsem olabilmektedir.

# içindekiler

**NOT : Sınava başlamadan yanınızda cevapları not alabileceğiniz bir kağıt bulundurunuz.**



# 1. Bölüm

## ŞİFRELEME



# ŞİFRELEME 1

## KELİMELER

KASET  
TASEK  
KESAT  
SATEK  
SETKA

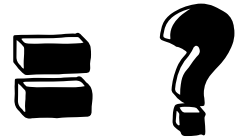


## SAYI KARŞILIĞI

23608  
80236  
20683  
63208  
83206

## İSTENEN

KASET



A

83206

B

80236

C

82306

D

83026

# ŞİFRELEME 2

KELİMELER

SABO

ABOS

OBAS

SOBA



SAYI KARŞILIĞI

4825

8254

4528

5284

İSTENEN

SABAH



A

28487

B

48287

C

47872

D

48782

# ŞİFRELEME 3

KELİMELER

MAVi  
AViM  
MiVA  
iVMA

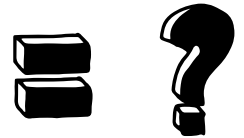


SAYI KARŞILIĞI

1234  
4321  
1432  
2314

İSTENEN

MAVi



A

2341

B

1432

C

4321

D

1234

# ŞİFRELEME 4

KELİMELER

ÖYK  
YÖK  
YKÖ  
KÖY

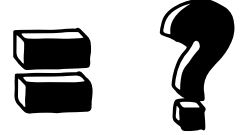


SAYI KARŞILIĞI

832  
328  
283  
238

İSTENEN

KÖY



A

832

B

328

C

283

D

238



# ŞİFRELEME 5

## KELİMELER

ŞAL

ŞAK

AŞA

## SAYI KARŞILIĞI

624

962

966

Not: Sayılar karışık verilmiştir.

## İSTENEN

MAŞA

= ?

A

9662

B

9226

C

7661

D

7226



## 2.Bölüm


# KÜP ÇÖZÜMLEME

# KÜP ÇÖZÜMLEME 1




Renkli küp çevirildikçe oluşan durumlardan hareketle. Soru işareti ( ? ) yerine gelecek olan rengi bulunuz ?


A




B




C



D




# KÜP ÇÖZÜMLEME 2




Renkli küp çevirildikçe oluşan durumlardan hareketle. Soru işareti ( ? ) yerine gelecek olan rengi bulunuz ?


A




B



C




D






# KÜP ÇÖZÜMLEME 3




Renkli küp çevirildikçe oluşan durumlardan hareketle. Soru işareti ( ? ) yerine gelecek olan rengi bulunuz ?


A




B




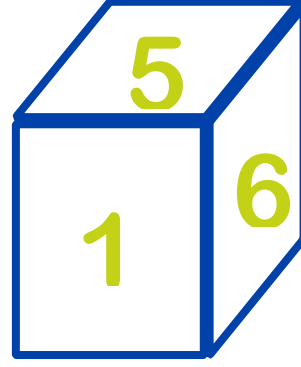
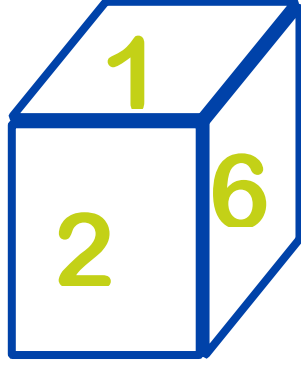
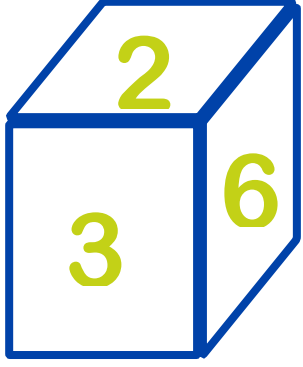
C



D



# KÜP ÇÖZÜMLEME 1



1'den 6'ya kadar sayılar yazılan küp çevirildikçe bu durumlar oluşuyor. Soru işareti ( ? ) yerine gelecek sayıyı bulunuz ?

A



B



C



E




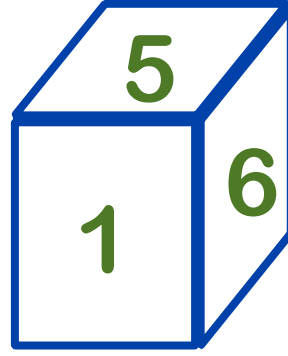
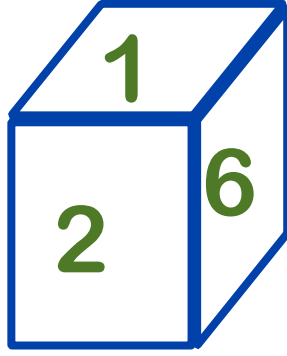
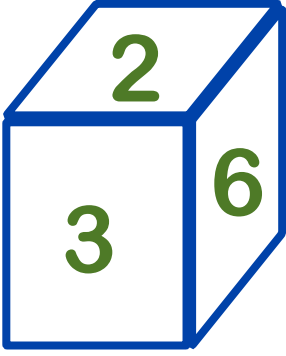
F



G



# KÜP ÇÖZÜMLEME 2



1'den 6'ya kadar sayılar yazılan küp çevirildikçe bu durumlar oluşuyor. Soru işareti ( ? ) yerine gelecek sayıyı bulunuz ?

A

1

B

2

C

3

E

4


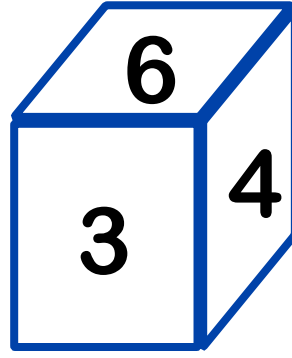
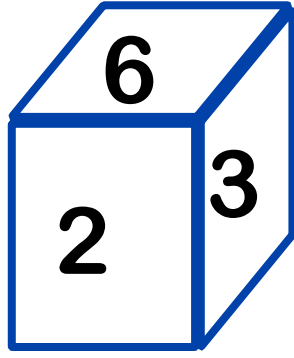
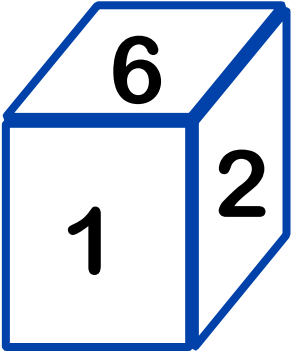
F

5

G

6

# KÜP ÇÖZÜMLEME 3



1'den 6'ya kadar sayılar yazılan küp çevirildikçe bu durumlar oluşuyor. Soru işareti ( ? ) yerine gelecek sayıyı bulunuz ?

A

1

B

2

C

3

E

4

F

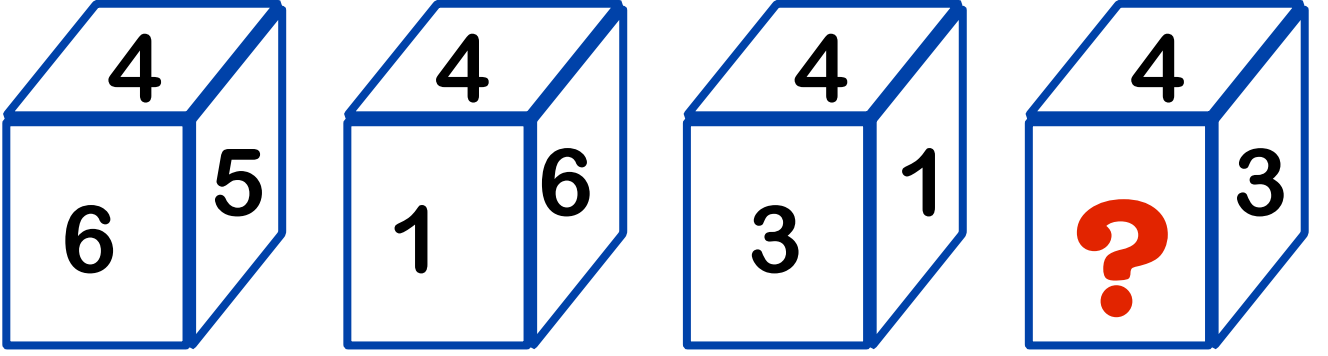
5

G

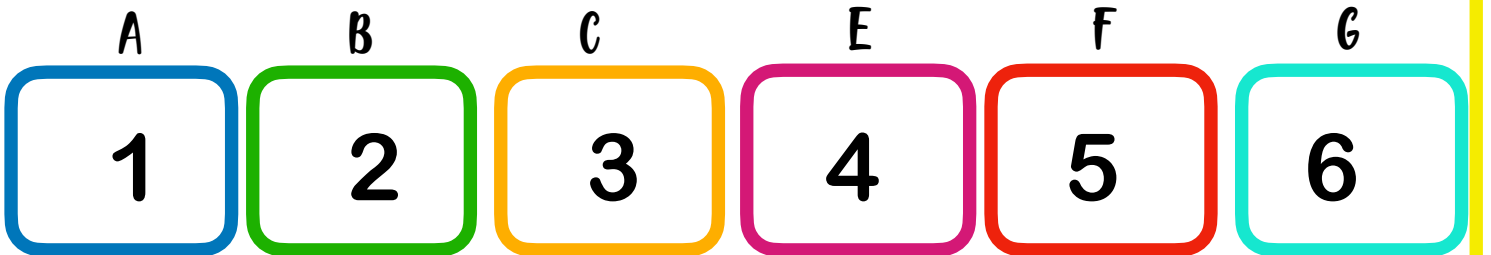
6



# KÜP ÇÖZÜMLEME 4



1'den 6'ya kadar sayılar yazılan küp çevirildikçe bu durumlar oluşuyor. Soru işareti ( ? ) yerine gelecek sayıyı bulunuz ?





### 3. Bölüm

## ŞEKLİN DEVAMI

# ŞEKLİN DEVAMI 1




Soru işareti yerine gelecek şekki bulunuz ?

A


B

C

D



# ŞEKLİN DEVAMI 2



Soru işareti yerine gelecek şekki bulunuz ?

A

B

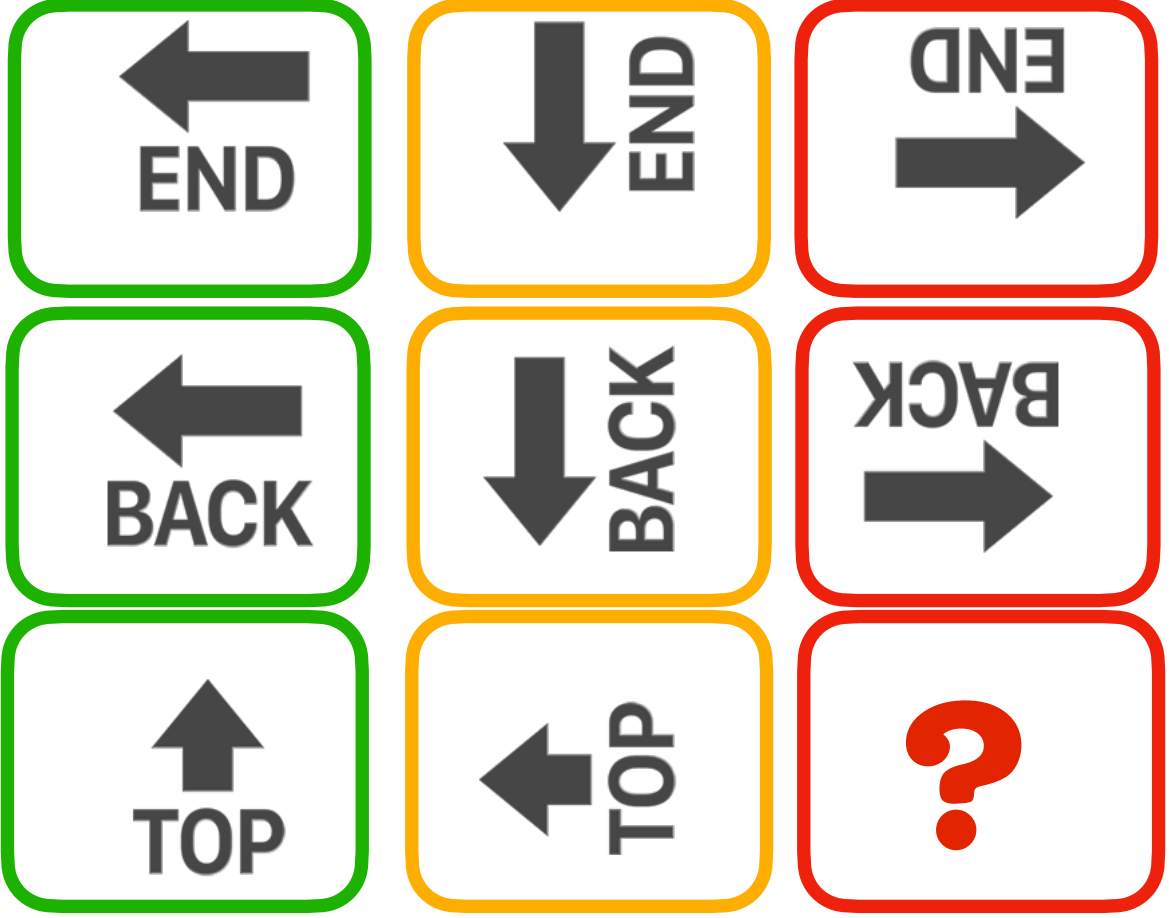
C

D



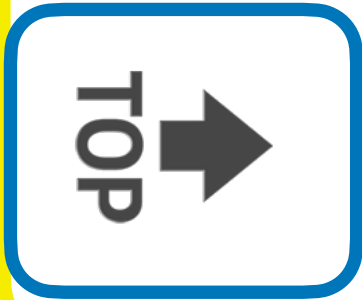


# ŞEKLİN DEVAMI 2



Soru işareti yerine gelecek şekki bulunuz ?

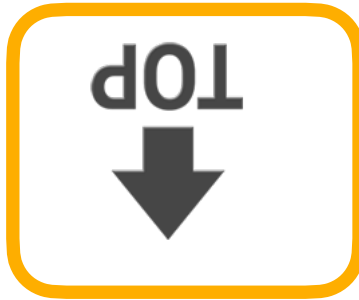
A




B




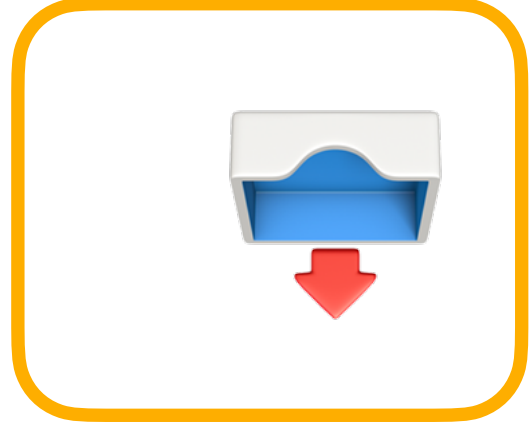

C



D



# ŞEKLİN DEVAMI 3




Soru işareti yerine gelecek şekki bulunuz ?


A




B



C



D





## 4. Bölüm

# AYNADAKİ GÖRÜNTÜSÜ

# AYNADAKİ GÖRÜNTÜSÜ 1



Aynadaki görüntüsünü gösteren şıkkı bulunuz ?

A



B



C



D



# AYNADAKİ GÖRÜNTÜSÜ 2



A

B

C

D






# 6. Bölüm

## GÖLGE BULMA




# GÖLGE BULMA 1



Doğru gölgeyi gösteren şıkkı bulunuz ?


# GÖLGE BULMA 1



Doğru gölgeyi gösteren şıkkı bulunuz ?



# GÖLGE BULMA 2



Doğru gölgeyi gösteren şıkkı bulunuz ?



## 7. Bölüm

# GÖRSEL İLİŞKİ

# GÖRSEL İLİŞKİ 1



A.



B.



C.



Görsel ile ilişkili olan şıkkı bulunuz ?

# GÖRSEL İLİŞKİ 1



Görsel ile ilişkili olan şıkkı bulunuz ?

# GÖRSEL İLİŞKİ 2



Görsel ile ilişkili olan şıkkı bulunuz ?

# GÖRSEL İLİŞKİ 2



☐



☐



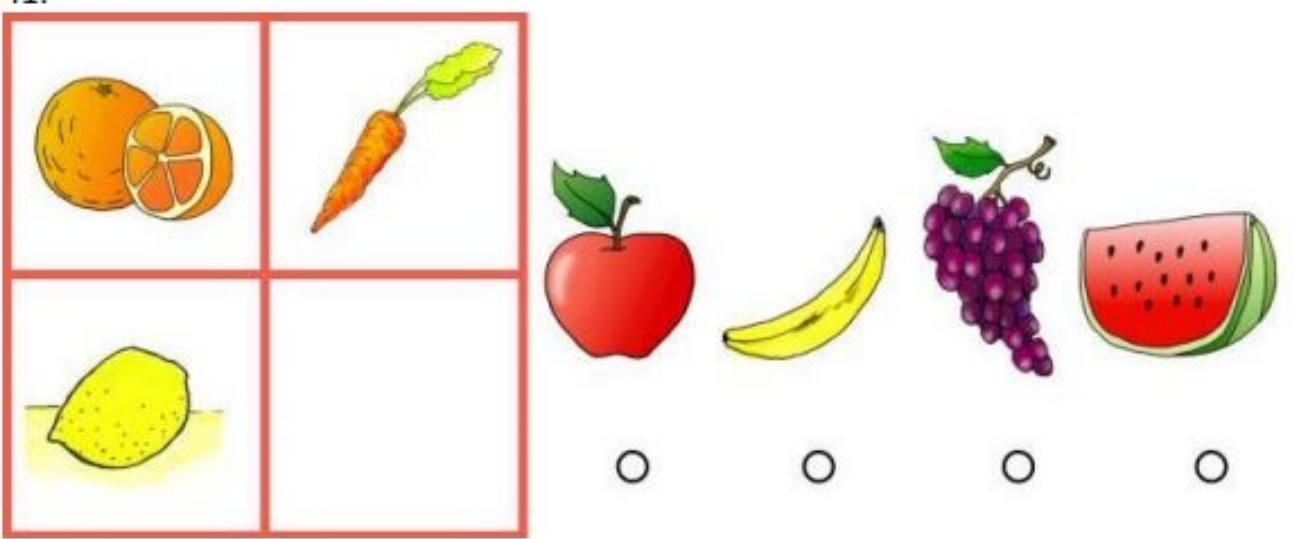
☐



☐

Görsel ile ilişkili olan şıkkı bulunuz ?

# GÖRSEL İLİŞKİ 2



Görsel ile ilişkili olan şıkkı bulunuz ?



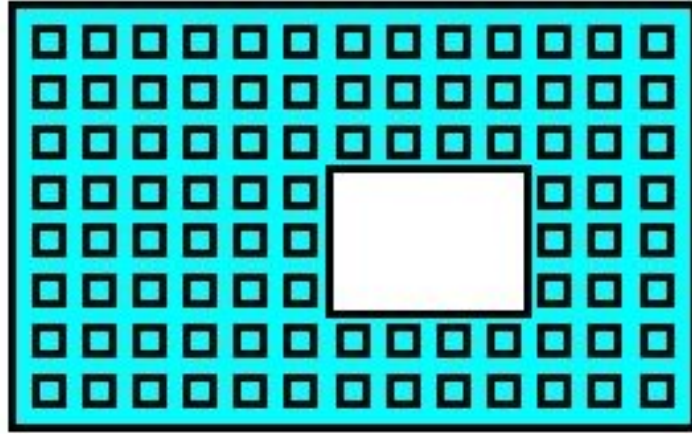


## 8. Bölüm

# Şekil Tamamlama



# ŞEKİL TAMAMLAMA 1




1




2



3



4




5



6

Görselde eksik bölgeye gelecek şekki bulunuz ?

# ŞEKİL TAMAMLAMA 1



1



2



3



4



5



6

Görselde eksik bölgeye gelecek şekki bulunuz ?


# ŞEKİL TAMAMLAMA 2



1

2

3



4

5

6

Görseli oluşturmak için hangi şekiller seçilmelidir ?



## 9. Bölüm

# Değer Bulma

# DEĞER BULMA 1

$$\text{grape} + \text{grape} = 2$$

$$\text{grape} + \text{orange} = 6$$

$$\text{orange} + \text{strawberry} = 8$$

$$\text{grape} + \text{strawberry} = ?$$

Eşitliği sağlayan değeri bulunuz ?

# DEĞER BULMA 1

$$\text{Candy cane} + \text{Mug} = 5$$

$$\text{Candy cane} + \text{Candy cane} = 2$$


$$\text{Mug} + \text{Gift} = 6$$

$$\text{Gift} + \text{Candy cane} = ?$$

Eşitliği sağlayan değeri bulunuz ?


# KELİME EŞLEME 1

Kümes



Tavuk

Ahır



?

İlk kelime eşleşmesine göre “?” yerin ne gelmesi uygundur ?

A

Tavuk

B

İnek

C

Arı

D

Horoz

# KELİME EŞLEME 2

Parmak → Yüzük

Kafa → ?

İlk kelime eşleşmesine göre “?” yerin ne gelmesi uygundur ?

A

Kolye

B

Yüzük

C

Toka


D

Saat




# KELİME EŞLEME 3

Hakim



Adliye

Öğretmen



?

İlk kelime eşleşmesine göre “?” yerin ne gelmesi uygundur ?

A

Okul

B

Dava

C

Tahta

D

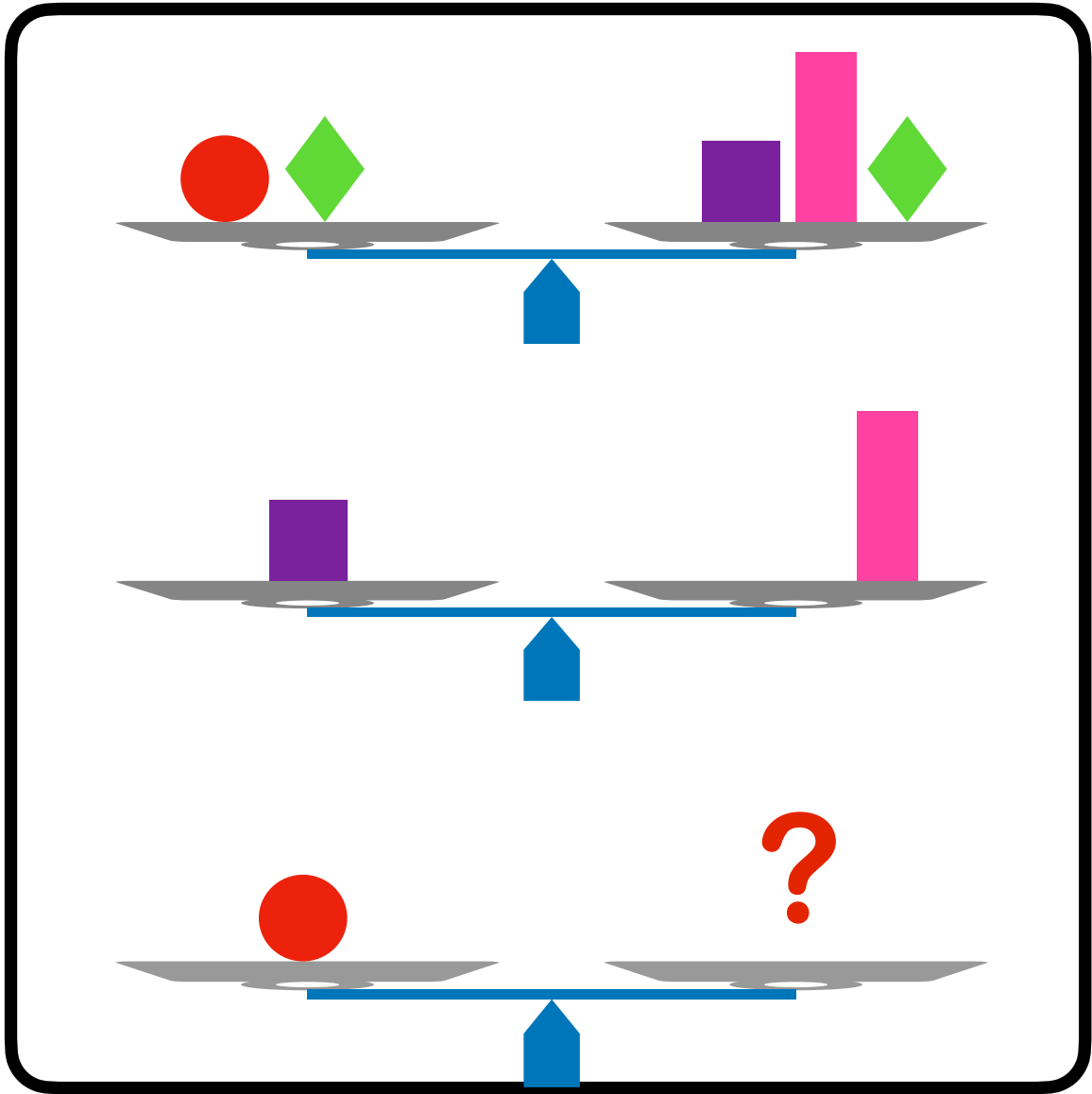
Tebeşir



# 1 1. Bölüm

## Terazi Dengeleme

# TERAZİ DENGELEME 1




Teraziler dengede ise “?” yerin hangi seçenek gelmesi uygundur ?


A




B



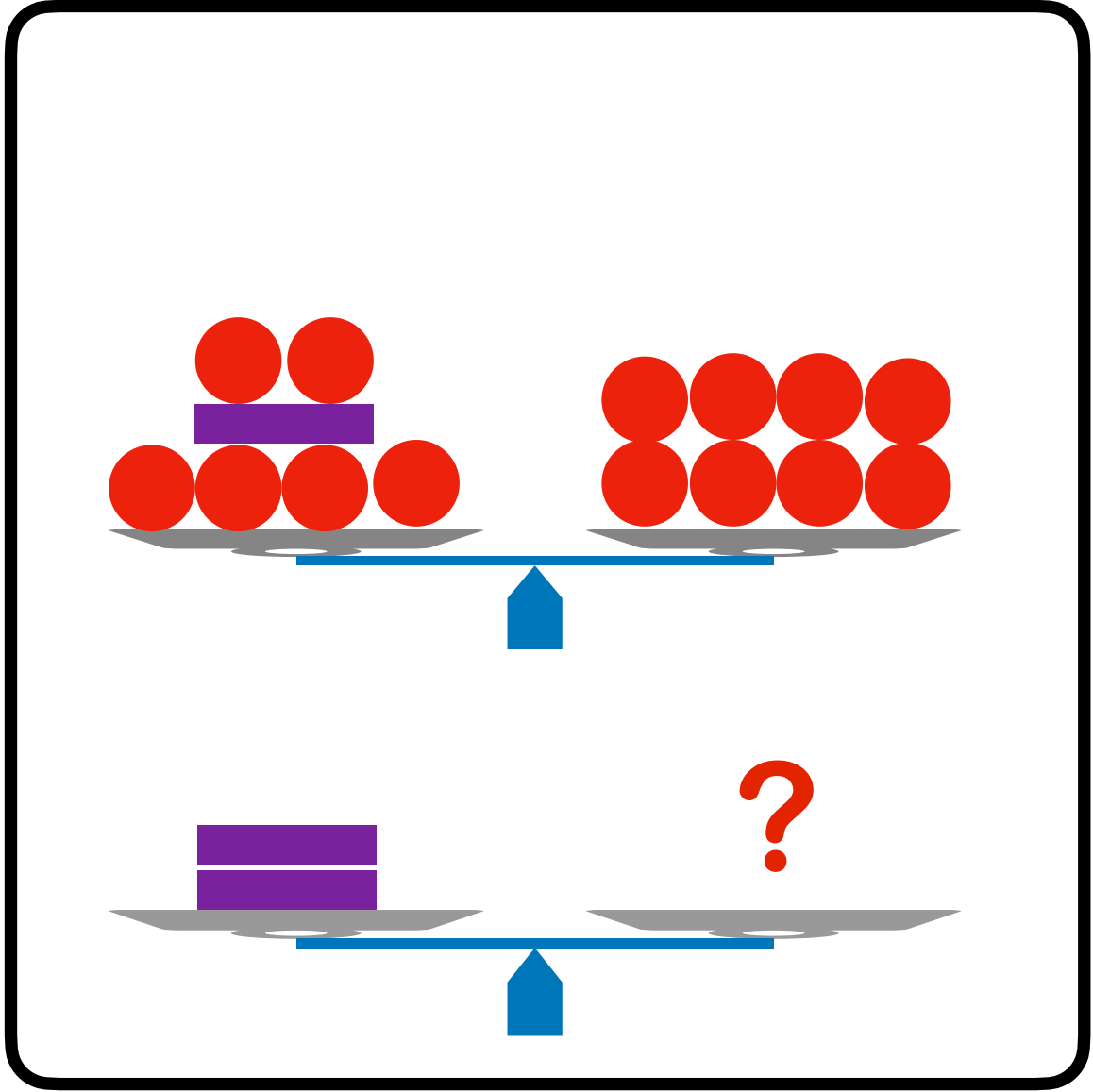
C



D




# TERAZİ DENGELEME 1




Teraziler dengede ise “?” yerin hangi seçenek gelmesi uygundur ?


A




B



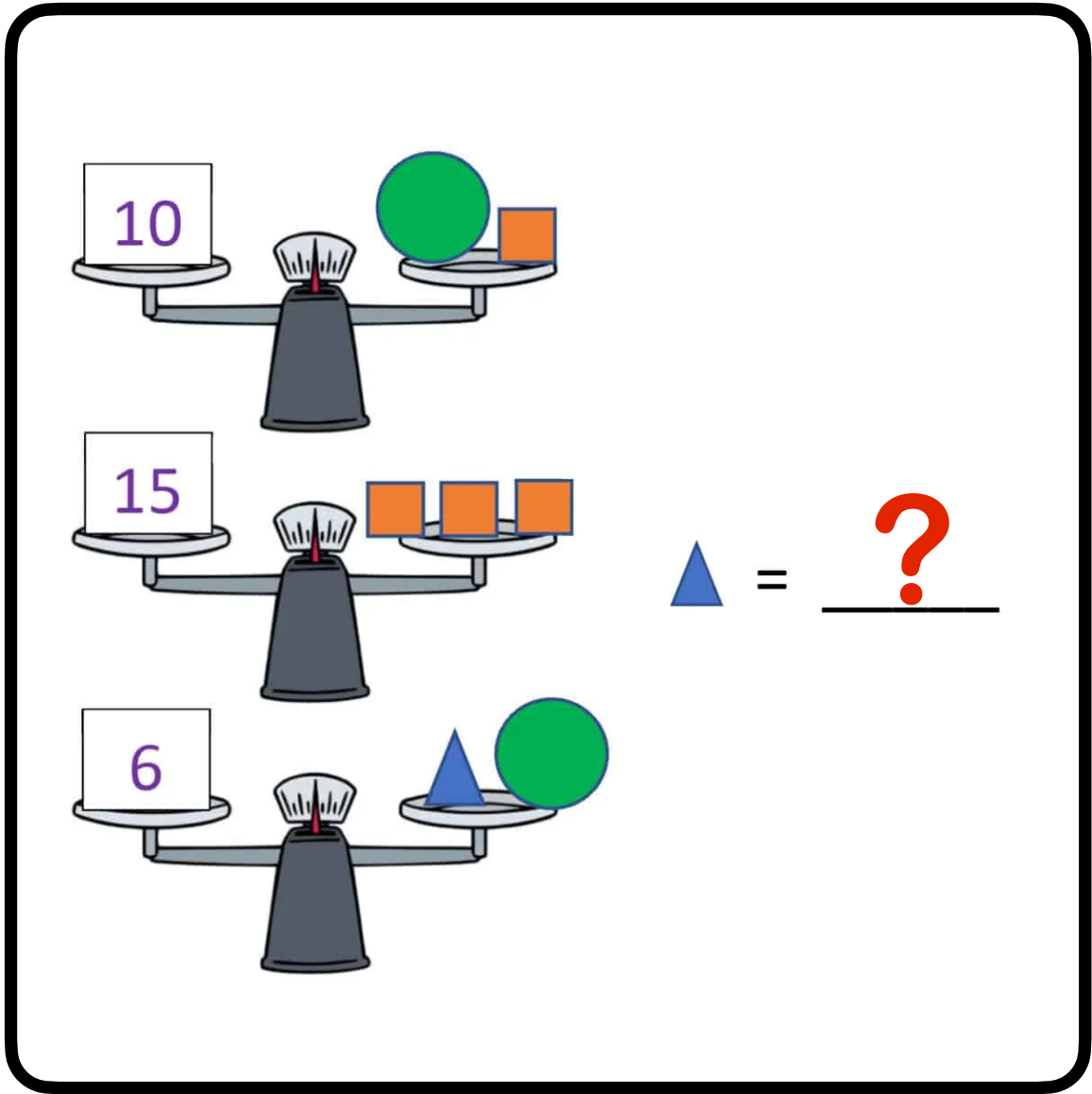
C



D



# TERAZİ DENGELEME 2



Teraziler dengede ise “?” yerin hangi seçenek gelmesi uygundur ?

A

B

C

D

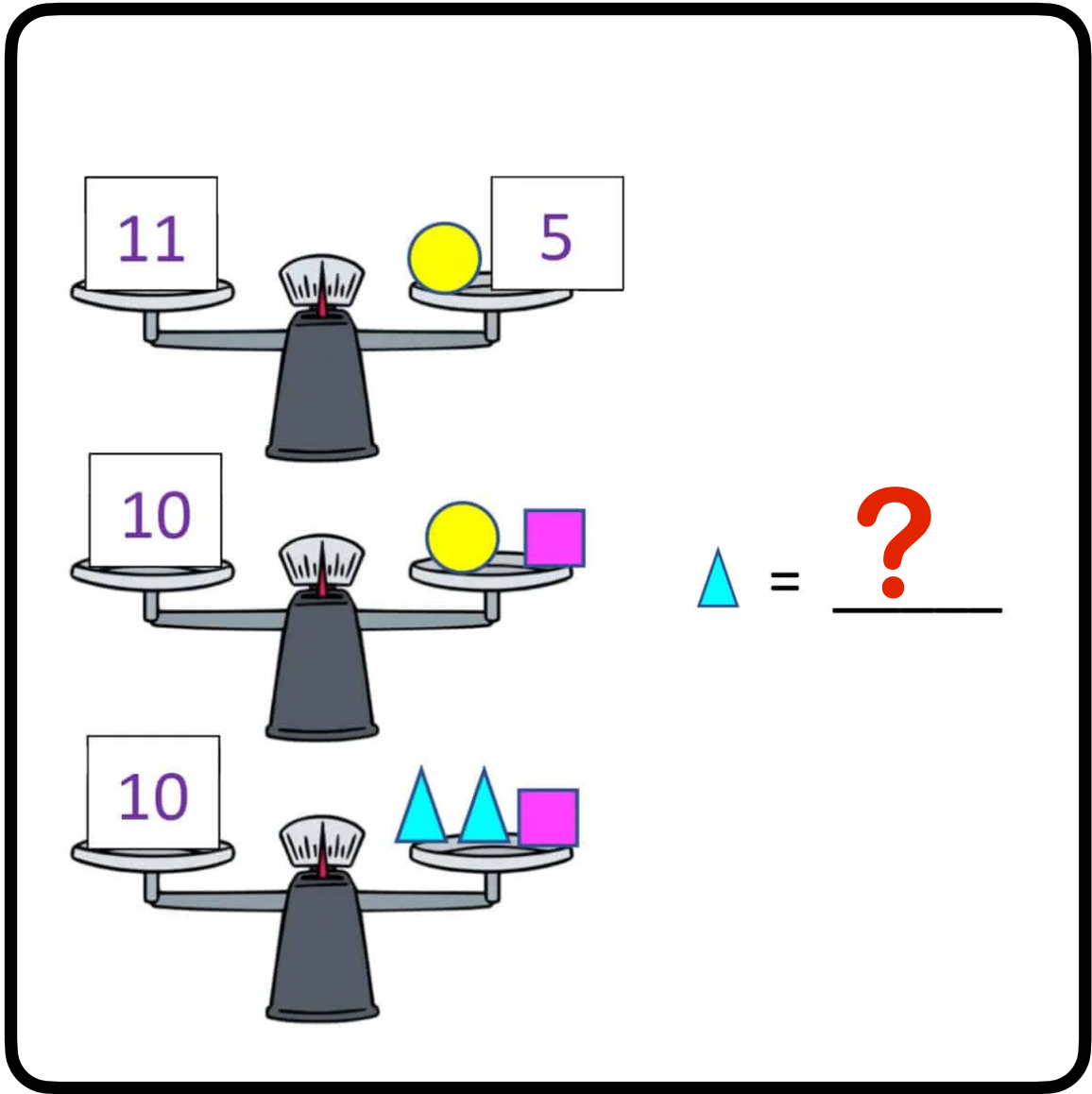
1

3

5

2

# TERAZİ DENGELEME 2



Teraziler dengede ise “?” yerin hangi seçenek gelmesi uygundur ?

A

B

C

D

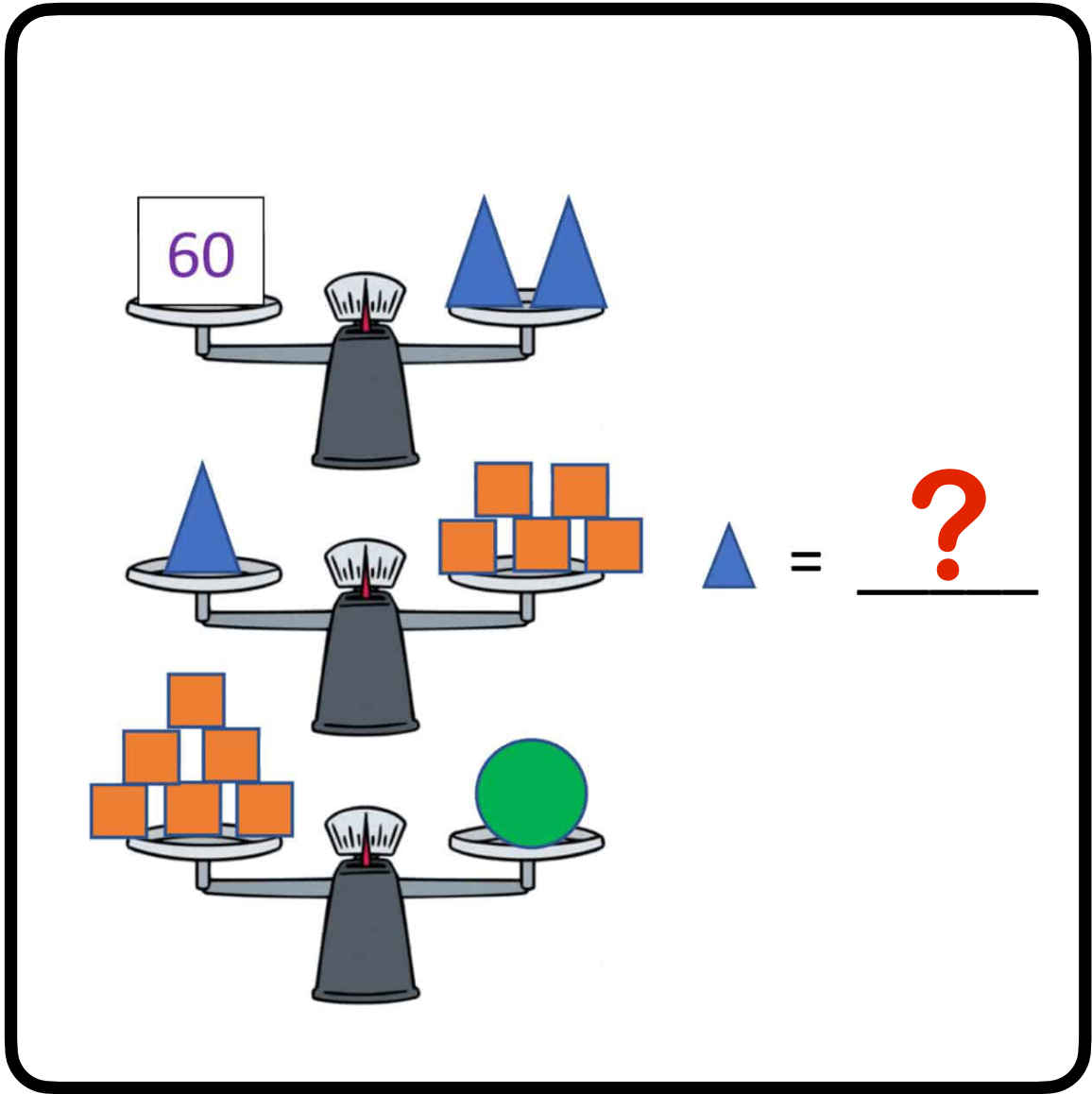
6

4

3

2

# TERAZİ DENGELEME 3



Teraziler dengede ise “?” yerin hangi seçenek gelmesi uygundur ?

A

B

C

D

30

6

36

60





## 12. Bölüm

### Örüntüler



# ÖRÜNTÜ 1



A



B



C



D

NV-PS

Örüntüde “?” yerin hangisinin gelmesi uygundur ?

A

B

C

D

A

B

C

D



# 13. Bölüm

## CEVAPLAR

