

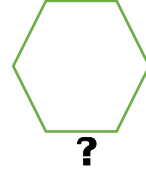
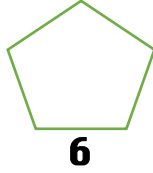


## 1/F SINIFI BİLSEM SORULARI

Adım : .....

Soyadım: .....



1)Aşağıdaki şekillerle sayılar arasında bir ilişki vardır. Buna göre "?" işareti yerine hangi sayı gelmelidir?




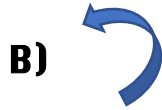
A) 7

B) 8

C) 6

D) 9

2)  Yandaki şekil sağa veya sola döndürülürse hangi şekil oluşmaz?



3 Aşağıda verilenlere göre bir balon ve bir kalem kaç TL'dir?



12 TL



12 TL

A) 14

B) 10

C) 13

D) 11

4) KAYA- YAMA- MASAL- .....

Yukarıdaki sözcükler belli bir kurala göre türetilmiştir. Buna göre ..... yere hangi sözcük gelemez?

A) SALLA

B) SALATA

C)SALMAN

D)SALÇA

5)

$$10 = 2$$

$$7 = 4$$

$$8 = 5$$

$$100 = ?$$

Soldaki sayılarla karşılarındaki sayılar aynı kurala göre oluşturulmuştur. Buna göre 100 sayısının karşısında hangi sayı olmalıdır?

A)13

B) 3

C) 10

D)1

6) Halamın babasının çocuğu benim neyim olamaz?

A) dayım

B) teyzem

C)annem

D)halam

7) Yarın değil sonraki gün salıdır. Burak dün doğum gününü kutladığına göre Burak hangi gün doğum gününü kutlamıştır?

A)Cumartesi

B)Perşembe

C)Cuma

D)Pazar

8)

$$3+2+A=12$$

$$A-6= B$$

$$B+4=C$$

Yandaki işlemlerde A, B ve C birer doğal sayıdır. Verilenlere göre  $A+B+C$  işleminin sonucu kaçtır?

A)13

B)10

C)9

D)15