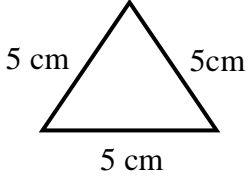


CELALETTİN GÖZÜSÜLÜ İLKOKULU 2022-2023 EĞİTİM ÖĞRETİM YILI
MATEMATİK 2.DÖNEM 2.YAZILI SORULARI

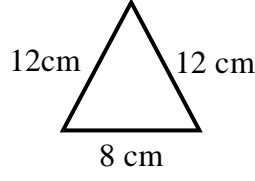
Adı-Soyadı:.....

Puan:.....

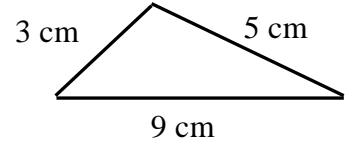
1.) Aşağıdaki üçgenlerin hangi çeşit üçgen olduklarını altına yazınız. (6 PUAN)



..... üçgen

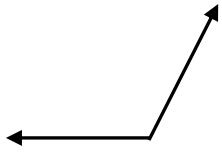


..... üçgen



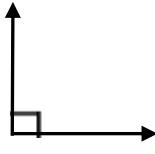
..... Üçgen

2.) Aşağıdaki açıları iletki ile ölçelim, ölçülerini ve hangi çeşit açı olduklarını altına yazınız . (16 PUAN)



..... açı

Derecesi:.....



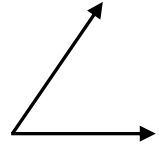
..... açı

Derecesi:.....



..... açı

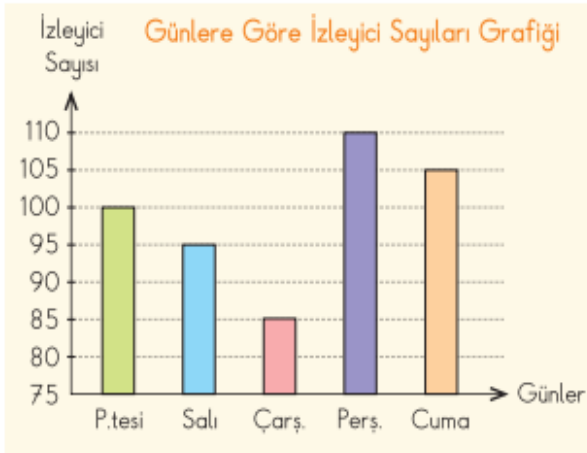
Derecesi:.....



..... açı

Derecesi:.....

3.) Aşağıda verilen sütun grafiğine göre soruları cevaplayınız. (12 PUAN)



En çok izleyici hangi gün gelmiştir?(2p)

En az izleyici hangi gün gelmiştir?(2p)

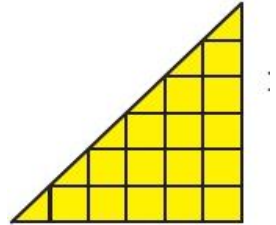
Bu oyunu Cuma gün izleyenler Salı gün izleyenlerden kaç fazladır?(4p)

Bu oyunu beş günde toplam kaç kişi izlemiştir?(4p)

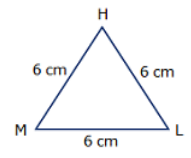
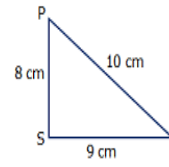
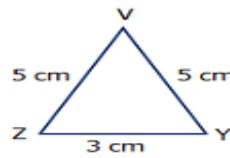
4) Aşağıdaki şekillerin alanını bulunuz. (6 PUAN)



6 cm



5) Aşağıdaki üçgenleri kenar uzunluklarına göre çeşitlerini altlarına yazınız.(9 PUAN)



.....

.....

.....

.....

.....

.....

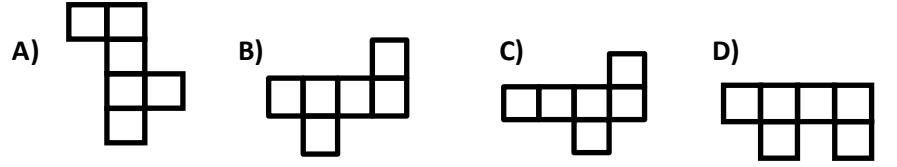
6)Yandaki izometrik kâğıt üzerine çizilen yapı kaç eş küpten oluşmuştur?(6 PUAN)



7) Aşağıdaki çevirmeleri yapınız. (10 PUAN)

16 sa =dk
240 dk =sa
72 sa =dk
5 sa =dk
180 sn =dk
5 m =cm
580 mm =cm
46 km =m
584 cm =mcm
3 m =mm

8) Aşağıdakilerden hangisi küpün açılımı değildir? (3 PUAN)



9) Aşağıdaki hangisi KLMN dikdörtgeninin kenarlarından değildir? (2 P)

A) |NM| B) |KM| C) |NK| D) |ML|



10) Karenin ve dikdörtgenin çevre uzunlukları verilmiştir. Karenin bir kenarı dikdörtgenin kısa kenarına eşittir. Buna göre ;



$\text{Ç} = 24 \text{ cm}$



$\text{Ç} = 20 \text{ cm}$

a) Karenin bir kenarı kaç cm'dir? (5 PUAN)

b) Dikdörtgenin bir kenarı kaç cm'dir? (5 PUAN)

11) Arzu Hanım 8 metre kurdelenin önce 600cm'sini, sonra da 120 milimetresini kullandı. Buna göre kaç cm kurdele kaldı? (4 PUAN)

12) Çevresi 48 cm olan bir karenin alanı nedir? (6 PUAN)

13) Bir kenar uzunluğu 350 cm olan kare şeklindeki bahçenin etrafına 3 sıra tel çekilecektir. Bu iş için kaç metre tel kullanılır? (6 PUAN)

13) Saat 15.00'da başlayan bir tenis maçında birinci set 30 dk, ikinci set 20 dk ve üçüncü set 25 dk sürmüştür. Bu durumda tenis maçı saat kaçta bitmiştir? (4 PUAN)

