


Adı Soyadı:.....



BÖLME İŞLEMİ GRUPLANDIRMA-1

Aşağıdaki nesneleri sizden istenilen sayı kadar gruplandırıp bölme işlemi şeklinde örnekteki gibi gruplandıralım.

Üçerli gruplandıralım.




5 grup oluştu

$$15 \div 3 = 5$$

$$\begin{array}{r} 15 \quad 3 \\ - 15 \quad 5 \\ \hline 00 \end{array}$$

İkişerli gruplandırılalım.




..... grup oluştu

$$\dots \div \dots = \dots$$

$$\begin{array}{r} \dots \quad \dots \\ - \dots \quad \dots \\ \hline \dots \end{array}$$

Beşerli gruplandırılalım.




..... grup oluştu

$$\dots \div \dots = \dots$$

$$\begin{array}{r} \dots \quad \dots \\ - \dots \quad \dots \\ \hline \dots \end{array}$$

Dörderli gruplandırılalım.



..... grup oluştu

$$\dots \div \dots = \dots$$

$$\begin{array}{r} \dots \quad \dots \\ - \dots \quad \dots \\ \hline \dots \end{array}$$

Üçerli gruplandırılalım.



..... grup oluştu

$$\dots \div \dots = \dots$$

$$\begin{array}{r} \dots \quad \dots \\ - \dots \quad \dots \\ \hline \dots \end{array}$$

Altışarlı gruplandırılalım.

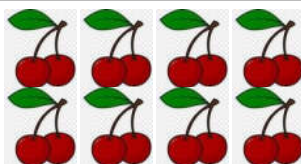


..... grup oluştu

$$\dots \div \dots = \dots$$

$$\begin{array}{r} \dots \quad \dots \\ - \dots \quad \dots \\ \hline \dots \end{array}$$

İkişerli gruplandırılalım.



..... grup oluştu

$$\dots \div \dots = \dots$$

$$\begin{array}{r} \dots \quad \dots \\ - \dots \quad \dots \\ \hline \dots \end{array}$$

Dokuzarlı gruplandırılalım.



..... grup oluştu

$$\dots \div \dots = \dots$$

$$\begin{array}{r} \dots \quad \dots \\ - \dots \quad \dots \\ \hline \dots \end{array}$$