


Coğrafya Dersi II.Dönem I.Yazılı Konu Dağılım Çizelgesi

SINIF	SORU SIRA	KAZANIM NO VE KAZANIM ADI	Soru Sayısı
9.SINIF	1	COĞ.9.3.4. İklim sistemi ve sürecinde meydana gelen değişiklikleri algılayabilme	1
	2	COĞ.9.4.2. Dünya ve Türkiye'deki nüfusun dağılışı ve hareketlerini etkileyen faktörler hakkında haritalar üzerinden çıkarımda bulunabilme	1
	3	COĞ.9.4.3. Türkiye ve farklı ülkelerin nüfus piramitlerinden yararlanarak demografik dönüşüm sürecini yorumlayabilme	3
	4	COĞ.9.4.4. Türkiye ve farklı ülkelerdeki nüfusla ilgili fırsat ve sorunların nüfus politikalarının belirlenmesindeki etkisini sorgulayabilme	1
	5		
	6		
	7		
Toplam:			6

SINIF	SORU SIRA	KAZANIM NO VE KAZANIM ADI	Soru Sayısı
10.SINIF	1	10.1.9. Yeryüzündeki su varlıklarını özelliklerine göre sınıflandırır.	1
	2	10.1.10. Türkiye'deki su varlıklarının genel özelliklerini ve dağılışı açıklar.	1
	3	10.1.12.Yeryüzündeki toprak çeşitliliğini oluşum süreçleri ile ilişkilendirir.	1
	4	10.1.13. Türkiye'deki toprakların dağılışı etkileyen faktörler ile toprak tiplerini ilişkilendirir.	1
	5	10.1.15. Bitki toplulukları ve türlerini genel özelliklerine göre sınıflandırır.	1
	6	10.1.16. Bitki topluluklarının dağılışı ile iklim ve yer şekillerini ilişkilendirir.	1
	7		
Toplam:			6

SINIF	SORU SIRA	KAZANIM NO VE KAZANIM ADI	Soru Sayısı
11.SINIF	1	11.2.16. Tarımın Türkiye ekonomisindeki yerini açıklar.	1
	2	11.2.15. Türkiye'de tarım sektörünün özelliklerini açıklar.	2
	3	11.2.17. Türkiye'nin madenleri ve enerji kaynaklarının dağılışı açıklar.	1
	4	11.2.18. Türkiye'nin maden ve enerji kaynaklarının etkin kullanımını ülke ekonomisine katkısı açısından değerlendirir.	1
	5	11.2.19. Türkiye'de sanayi sektörünün özelliklerini açıklar.	1
	6		
	7		
Toplam:			6

SINIF	SORU SIRA	KAZANIM NO VE KAZANIM ADI	Soru Sayısı
12.SINIF	1	12.2.14. Türkiye'deki doğal ve kültürel sembollerin mekânla ilişkisini açıklar.	1
	2	12.2.15. Türkiye'nin turizm potansiyelini ve varlıklarını açıklar.	1
	3	12.2.16.Türkiye'nin turizm politikalarını çevresel, kültürel ve ekonomik etkileri açısından değerlendirir.	1
	4	12.3.1. Kıtaların ve okyanusların konumsal önemindeki değişimi örneklerle açıklar.	2
	5	12.3.4. Türkiye'nin içinde yer aldığı jeopolitik bölgelerle olan ilişkisini açıklar.	1
	6		
	7		
Toplam:			6

<div>ALİ PURTAŞ</div> <div>COĞRAFYA ÖĞRETMENİ</div> <div></div>					Öğrencinin	Adı					SENARYO 1	
						Soyadı					COĞ.9.3.4.	1
						Şube	Numarası	Puanı		COĞ.9.4.2.	1	
										COĞ.9.4.3.	3	
										COĞ.9.4.4.	1	
C1	C2	C3	C4	C5	C6			Toplam	Sayı			
20	20	20	20	10	10			100	Yazı			

SORULAR



Ali PURTAŞ
Coğrafya Öğretmeni

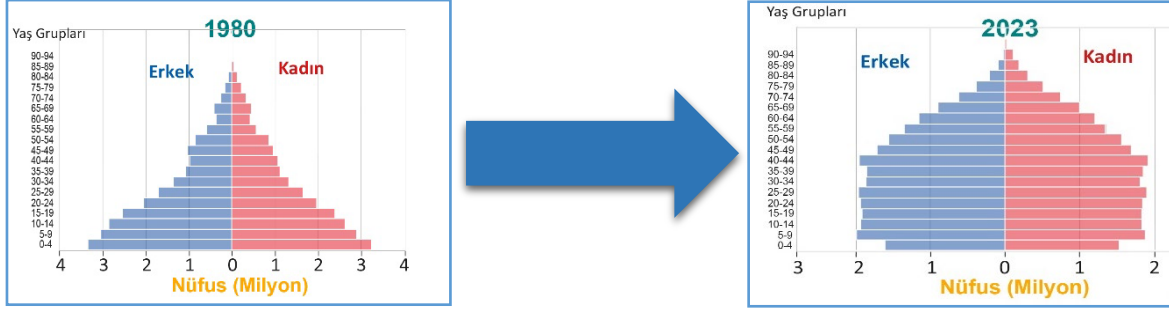
1 - COĞ.9.4.2. Dünyada nüfusun dağılışı, nüfus artışı ve sosyoekonomik gelişmelere bağlı olarak değişmiştir. Bu dağılışı, kıtalar ve ülkelerin yanı sıra ülke içinde de farklılık göstermiştir. İnsanların her yere aynı yoğunlukta yerleşememesi, bazı yerlerde nüfus yoğunluğunu artırırken bazı yerlerde nüfusun seyrekleşmesine yol açmıştır. Buna göre, 4, 5 ve 6 numarada nüfusun yoğunluğu hakkında nedenleriyle birlikte kısa bilgi veriniz.



2 - COĞ.9.4.3. Karmaşık ve çok yönlü bir olgu olan göç; insanların bulundukları yerden doğal, ekonomik, sosyal, siyasal ve kültürel nedenlerle başka bir yere hareket etmesidir. İnsanlık tarihi boyunca farklı bölgelere birçok göç yaşanmıştır. Bazı arkeolojik bulgular, insanların atalarının Doğu Afrika'dan dünyaya yayıldığını göstermektedir. Buna göre haritada göç alan yerlerin numarasını yazarak nedenini kısaca açıklayınız.



3 - COĞ.9.4.3. Aşağıda Türkiye nüfusunun 1980 ile 2023 yıllarını gösteren nüfus piramitleri verilmiştir.



1980'den 2023 yılına gelindiğinde ülke nüfusunda hangi değişiklikler yaşanmıştır?



4 - COĞ.9.4.4. Ülke kalkınmasının sürdürülebilir olması, o ülkenin koşullarına uygun nüfus politikasının belirlenmesi ve buna yönelik nüfus planlaması yapılmasına bağlıdır. Ülkelerin nüfusun yapısı, dağılışı, nitelik ve niceliğine yönelik aldığı karar ve uygulamalara nüfus politikası denir.

a. Bir ülkede nüfus artışının az olmasının ortaya çıkaracağı fırsatlar nelerdir?



b. Bir ülkede nüfus artışının az olmasının ortaya çıkaracağı sorunlar nelerdir?



5 - COĞ.9.4.3. İyi eğitim almış, nitelikli insanların kendi alanlarında çalışma olanağı bulmak, daha yüksek kazanç sağlamak ve hayat şartlarını iyileştirmek amacıyla başka ülkelere yaptıkları göçe beyin göçü denir. Buna göre haritada kaç numaralar beyin göçü alır, 2 örnek ülke yazınız?



6 - COĞ.9.3.4. Aşağıda doğada görülmesi beklenen olaylardan tahminler verilmiştir.

I. Eriyen buzullar nedeniyle küresel deniz seviyesinin 2100 yılına kadar 28 cm ile 2 m arasında, 2150 yılına kadar ise 5 m yükselebileceği hesaplanmaktadır.

II. Sıcak hava dalgaları, kuraklık, şiddetli yağış, su baskını, kasırga gibi ekstrem olayların meydana gelme sıklığının ve şiddetinin artacağı tahmin edilmektedir.

III. Kuraklaşan bölgelerden milyonlarca insanın göç edeceği ve ülkeler arasında büyük bir nüfus hareketi olacağı düşünülmektedir.

Yukarıda verilen öngörülerin oluşmasına sebep olan olayı kısaca yazınız.



ALİ PURTAŞ
COĞRAFYA ÖĞRETMENİ

C1	C2	C3	C4	C5	C6				
20	20	20	20	10	10				

DERECELİ PUANLAMA ANAHTARI

SENARYO 1

COĞ.9.3.4.	1
COĞ.9.4.2.	1
COĞ.9.4.3.	3
COĞ.9.4.4.	1

1- COĞ.9.4.2. Buna göre, 4, 5 ve 6 numarada nüfusun yoğunluğu hakkında nedenleriyle birlikte kısa bilgi veriniz.

Tam Doğru	20 Puan	GEREKÇE: Aşağıdaki kelimelerden sırasıyla tamamını yazarsa; 4-Sibirya soğuk, 5-amazon ormanlık, 6-Sahra çölü sıcak, ortak seyrek nüfus
-----------	---------	---

Kısmi-1	5 Puan	GEREKÇE: Bir tanesini yazarsa; 4-Sibirya soğuk,
---------	--------	--

Yanlış veya Boş	0 Puan	Öğrenci soruyu boş bırakmış veya yanlış cevaplamıştır.
-----------------	--------	--

2- COĞ.9.4.3. Buna göre haritada göç alan yerlerin numarasını yazarak nedenini kısaca açıklayınız.

Tam Doğru	20 Puan	GEREKÇE: Aşağıdaki kelimelerden sırasıyla tamamını yazarsa; 1, 2 ve 3 numara sanayi faaliyetleri
-----------	---------	---

Kısmi-1	5 Puan	GEREKÇE: Bir tanesini yazarsa; 1
---------	--------	-------------------------------------

Yanlış veya Boş	0 Puan	Öğrenci soruyu boş bırakmış veya yanlış cevaplamıştır.
-----------------	--------	--

3- COĞ.9.4.3. 1980'den 2023 yılına gelindiğinde ülke nüfusunda hangi değişiklikler yaşanmıştır?

Tam Doğru	20 Puan	GEREKÇE: Aşağıdaki kelimelerden sırasıyla tamamını yazarsa; Doğumlar azalmış, yaşlı nüfus oranı artmış, genç oranı azalmış, ortanca nüfus artmış,
-----------	---------	--


Kısmi-1	5 Puan	GEREKÇE: Bir tanesini yazarsa; Doğumlar azalmış,
---------	--------	---

Yanlış veya Boş	0 Puan	Öğrenci soruyu boş bırakmış veya yanlış cevaplamıştır.
-----------------	--------	--

4-	COĞ.9.4.4. Bir ülkede nüfus artışının az olmasının ortaya çıkaracağı fırsatlar nelerdir?, Bir ülkede nüfus artışının az olmasının ortaya çıkaracağı sorunlar nelerdir?	
Tam Doğru	20 Puan	GEREKÇE: Aşağıdaki kelimelerden sırasıyla tamamını yazarsa; İşsizlik azalır, kalkınma artarken; işgücü sorunu oluşur, ülke yaşlanır,
Kısmi-1	5 Puan	GEREKÇE: Bir tanesini yazarsa; İşsizlik azalır,
Yanlış veya Boş	0 Puan	Öğrenci soruyu boş bırakmış veya yanlış cevaplamıştır.

5-	COĞ.9.4.3. Buna göre haritada kaç numaralar beyin göçü alır, 2 örnek ülke yazınız?	
Tam Doğru	10 Puan	GEREKÇE: Aşağıdaki kelimelerden sırasıyla tamamını yazarsa; 1, 2 ve numara alır. Japonya, ABD gibi
Kısmi-1	2 Puan	GEREKÇE: Bir tanesini yazarsa; 1
Yanlış veya Boş	0 Puan	Öğrenci soruyu boş bırakmış veya yanlış cevaplamıştır.

6-	COĞ.9.3.4. Yukarıda verilen öngörülerin oluşmasına sebep olan olayı kısaca yazınız.	
Tam Doğru	10 Puan	GEREKÇE: Aşağıdaki kelimelerden sırasıyla tamamını yazarsa; Küresel iklim değişimi
Kısmi-1	5 Puan	GEREKÇE: Bir tanesini yazarsa; İklim değişimi
Yanlış veya Boş	0 Puan	Öğrenci soruyu boş bırakmış veya yanlış cevaplamıştır.

ALİ PURTAŞ COĞRAFYA ÖĞRETMENİ 						Öğrencinin	Adı				SENARYO 1	
							Soyadı				COĞ.9.3.4.	1
							Şube	Numarası	Puanı		COĞ.9.4.2.	1
									Sayı		COĞ.9.4.3.	3
											COĞ.9.4.4.	1
C1	C2	C3	C4	C5	C6			Toplam				
20	20	20	20	10	10			100	Yazı			

SORULAR

1 - C.9.3.4. Doğada meydana gelen iklim kökenli ekstrem olaylara 2 örnek yazınız.



2 - C.9.4.2. Nüfusun dağılışını etkileyen doğal faktörlere 4 örnek yazınız.



3 - C.9.4.3. İyi eğitilmiş, üreten, düşünen, nitelikli çalışanların araştırma veya çalışma hedefiyle yurt dışına gitmesiyle yaptıkları göçe ne ad verilir, yazınız?



4 - C.9.4.3. Nüfus piramitlerinden hangi bilgileri öğreniriz, 2 madde yazınız?




5 - C.9.4.4. Almanya, Japonya gibi gelişmiş ülkeler neden nüfusu artırmaya yönelik politka uygular?



6 - C.9.4.3. Türkiye'nin 2014 sonra nüfus politikasını kısaca yazınız.



ALİ PURTAŞ COĞRAFYA ÖĞRETMENİ 	C1	C2	C3	C4	C5	C6					SENARYO 1	
	20	20	20	20	10	10					COĞ.9.3.4.	1
	DERECELİ PUANLAMA CEVAP ANAHTARI										COĞ.9.4.2.	1
											COĞ.9.4.3.	2
											COĞ.9.4.4.	2

1-	C.9.3.4. Doğada meydana gelen iklim kökenli ekstrem olaylara 2 örnek yazınız.	
Tam Doğru	20 Puan	GEREKÇE: Aşağıdaki kelimelerden sırasıyla tamamını yazarsa; Kuraklık, Aşırı sıcaklar, aşırı soğuklar, şiddetli rüzgarlar,
Kısmi-1	10 Puan	GEREKÇE: Bir tanesini yazarsa; Kuraklık,
Yanlış veya Boş	0 Puan	Öğrenci soruyu boş bırakmış veya yanlış cevaplamıştır.

2-	C.9.4.2. Nüfusun dağılışını etkileyen doğal faktörlere 4 örnek yazınız.	
Tam Doğru	20 Puan	GEREKÇE: Aşağıdaki kelimelerden sırasıyla tamamını yazarsa; İklim, yer şekilleri, akarsular, bitki örtüsü, topraklar, deniz ve okyanuslar
Kısmi-1	5 Puan	GEREKÇE: Bir tanesini yazarsa; İklim,
Yanlış veya Boş	0 Puan	Öğrenci soruyu boş bırakmış veya yanlış cevaplamıştır.

3-	C.9.4.3. İyi eğitilmiş, üreten, düşünen, nitelikli çalışanların araştırma veya çalışma hedefiyle yurt dışına gitmesiyle yaptıkları göçe ne ad verilir, yazınız?	
Tam Doğru	20 Puan	GEREKÇE: Aşağıdaki kelimelerden sırasıyla tamamını yazarsa; Beyin göçü
Kısmi-1	15 Puan	GEREKÇE: Bir tanesini yazarsa; Beyin
Yanlış veya Boş	0 Puan	Öğrenci soruyu boş bırakmış veya yanlış cevaplamıştır.

4-	C.9.4.3. Nüfus piramitlerinden hangi bilgileri öğreniriz, 2 madde yazınız?	
Tam Doğru	20 Puan	GEREKÇE: Aşağıdaki kelimelerden sırasıyla tamamını yazarsa; Sayı, cinsiyet, gelişmişlik, yaş dağılımı, ölüm, yaşam süresi
Kısmi-1	10 Puan	GEREKÇE: Bir tanesini yazarsa;
Yanlış veya Boş	0 Puan	Öğrenci soruyu boş bırakmış veya yanlış cevaplamıştır.

5-	C.9.4.4. Almanya, Japonya gibi gelişmiş ülkeler neden nüfusu artırmaya yönelik politka uygular?	
Tam Doğru	10 Puan	GEREKÇE: Aşağıdaki kelimelerden sırasıyla tamamını yazarsa; Doğum oranları çok düşük olması ve, nüfuslarının hızla yaşlanması
Kısmi-1	5 Puan	GEREKÇE: Bir tanesini yazarsa; Doğum oranları çok düşük olması
Yanlış veya Boş	0 Puan	Öğrenci soruyu boş bırakmış veya yanlış cevaplamıştır.

6-	C.9.4.3. Türkiye'nin 2014 sonra nüfus politikasını kısaca yazınız.	
Tam Doğru	10 Puan	GEREKÇE: Aşağıdaki kelimelerden sırasıyla tamamını yazarsa; Doğum oranlarını artırmaya yönelik politika yani nüfusun hızını artırmaya yönelik.
Kısmi-1	5 Puan	GEREKÇE: Bir tanesini yazarsa; Doğum oranlarını artırmaya yönelik
Yanlış veya Boş	0 Puan	Öğrenci soruyu boş bırakmış veya yanlış cevaplamıştır.

3 - C10.1.16. Bitkiler dağ yamacı boyunca yukarı doğru geniş yapraklı, karışık, iğne yapraklı ve alpin çayırları olmak üzere kuşaklara ayrılır.

Bitkilerin bu şekilde dağ yamaçlarına doğru kuşaklara ayrılmasının genel nedenini kısaca yazınız.



4 - C10.1.12. Toprak profiline bakıldığında toprağın yukarıdan aşağıya doğru farklı tabakalardan meydana geldiği görülür. Bu tabakalara horizon denir. Toprak horizonları, fiziksel ve kimyasal olarak farklı özelliktedir. Toprak katmanları o bölgenin anakaya, iklim ve canlı çeşitliliğine göre şekillenir. Olgun bir toprağın A, B, C ve D diye dört ana horizonu bulunur.

Köyünde çiftçilik yapmaya karar veren Eyüp Ensar ilk iş olarak tarlasına sebze ekmiştir. Sebzeleri daha çabuk olgunlaşsın diye 7/24 sürekli sulamıştır.

Sulama sonucunda toprağın A katmanında nasıl bir değişiklik olmuştur, kısaca yazınız.



5 - C10.1.13. Karalar üzerindeki çukur yerleri veya çanakları dolduran su kütlelerine göl adı verilir. Göllerin genel olarak deniz ve okyanuslarla doğrudan bağlantısı yoktur.

Göllerimizin özelliklerinden 4 madde yazınız.



6 - C10.1.15. Aşağıda bazı bitki formasyonlarının özellikleri verilmiştir.

I. Ekvatorial yağmur ormanları, ekvatorial iklim bölgesinde yeşilliğini dört mevsim koruyan, boyları 50-60 metreyi bulan, yapraklarını dökmeyen uzun boylu ve geniş yapraklı ağaçlardan oluşan bitki örtüsüne denir.

II. Tayga ormanlar, sert-karasal iklim bölgesinin yapraklarını dökmeyen ve soğuğa dayanıklı ağaçlarından oluşur. 50°-60° enlemleri çevresinde görülen buğne yapraklı ormanlara tayga ya da boreal ormanları da denir.

III. Çalı Formasyonu, yazların sıcak ve kurak, kışların ılık ve yağışlı geçtiği Akdeniz iklimine ait bitki örtüsü olan daima yeşil, yapraklarını dökmeyen bodur ağaç ve çalılardan oluşur bitkilere maki çalı topluluğu denir.

Yukarıdaki açıklamada verilen bilgilere göre bitkiler bölgelere göre farklılıklar göstermektedir.

Buna göre, bu farklılıkların oluşmasının ortak sebebini kısaca yazınız.



ALİ PURTAŞ
COĞRAFYA ÖĞRETMENİ

C1	C2	C3	C4	C5	C6			Toplam
20	20	10	20	20	10			100

DERECELİ PUANLAMA
ANAHTARI

SENARYO 6

C10.1.9	1
C10.1.10	1
C10.1.16	1
C10.1.12	1
C10.1.13	1
C10.1.15	1

- 1- C10.1.9. Ubeydullah yaz tatilinde Türkiye'yi gezmek için plan yapmıştır. Planları dahilinde tura ilk olarak Antalya'dan başlamış devamında Konya ve sonrasında Erzurum'a gitmiştir.
Ubeydullah'ın tatil boyunca gezdiği kentlerde sırasıyla hangi toprakları görmüş olması gerekir, kısaca yazınız?

Tam Doğru	20 Puan	GEREKÇE: Aşağıdaki kelimelerden sırasıyla tamamını yazarsa; Terra rossa - Bozkır - Çernezyom
Kısmi-1	7 Puan	GEREKÇE: Bir tanesini yazarsa; Terra rossa
Yanlış veya Boş	0 Puan	Öğrenci soruyu boş bırakmış veya yanlış cevaplamıştır.

- 2- C10.1.10. Türkiye Haritası üzerinde yer alan 5 ve 6 numaradaki akarsu ile, 7 ve 8 numaradaki göllerin adını yazınız.

Tam Doğru	20 Puan	GEREKÇE: Aşağıdaki kelimelerden sırasıyla tamamını yazarsa; 5Tuz gölü, 6 Van gölü; 8-kızılırmak, 7-Fırat
Kısmi-1	5 Puan	GEREKÇE: Bir tanesini yazarsa; 5Tuz gölü,
Yanlış veya Boş	0 Puan	Öğrenci soruyu boş bırakmış veya yanlış cevaplamıştır.


- 3- C10.1.16. Bitkiler dağ yamacı boyunca yukarı doğru geniş yapraklı, karışık, iğne yapraklı ve alpin çayırları olmak üzere kuşaklara ayrılır.
Bitkilerin bu şekilde dağ yamaçlarına doğru kuşaklara ayrılmasının genel nedenini kısaca yazınız.

Tam Doğru	10 Puan	GEREKÇE: Aşağıdaki kelimelerden sırasıyla tamamını yazarsa; Yüksetiye bağlı olarak sıcaklığın azalması
Kısmi-1	5 Puan	GEREKÇE: Bir tanesini yazarsa; Yükselti, sıcaklığın azalması
Yanlış veya Boş	0 Puan	Öğrenci soruyu boş bırakmış veya yanlış cevaplamıştır.

4-	C10.1.12. Toprak profiline bakıldığında toprağın yukarıdan aşağıya doğru farklı tabakalardan meydana geldiği görülür. Bu tabakalara horizon denir. Toprak horizonları, fiziksel ve kimyasal olarak farklı özelliktedir. Toprak katmanları o bölgenin anakaya, iklim ve canlı çeşitliliğine göre şekillenir. Olgun bir toprağın A, B, C ve D diye dört ana horizonu bulunur. Köyünde çittçilik yapmaya karar veren Eyüp Ensar ilk iş olarak tarlasına sebze ekmıştır. Sebzeleri daha çabuk olgunlaşsın diye 7/24 sürekli sulamıştır. Sulama sonucunda toprağın A katmanında nasıl bir değişiklik olmuştur, kısaca yazınız.	
Tam Doğru	20 Puan	GEREKÇE: Aşağıdaki kelimelerden sırasıyla tamamını yazarsa; A katmanı verimli mineralleri yıkanmayla B katmanına gönderir ve verimsiz olur.
Kısmi-1	5 Puan	GEREKÇE: Bir tanesini yazarsa; Verim kaybeder
Yanlış veya Boş	0 Puan	Öğrenci soruyu boş bırakmış veya yanlış cevaplamıştır.

5-	C10.1.13. Karalar üzerindeki çukur yerleri veya çanakları dolduran su kütlelerine göl adı verilir. Göllerin genel olarak deniz ve okyanuslarla doğrudan bağlantısı yoktur. Göllerimizin özelliklerinden 4 madde yazınız.	
Tam Doğru	20 Puan	GEREKÇE: Aşağıdaki kelimelerden sırasıyla tamamını yazarsa; Oluşumları farklıdır, doğruya doğru yükseltileri artar, dağılımları düzensizdir, beslenme kaynakları farklıdır, Bazılarında ulaşım yapılır, enerji üretimi ve tarımda yararlanılır.
Kısmi-1	5 Puan	GEREKÇE: Bir tanesini yazarsa; Oluşumları farklıdır,
Yanlış veya Boş	0 Puan	Öğrenci soruyu boş bırakmış veya yanlış cevaplamıştır.

6-	C10.1.15. Aşağıda bazı bitki formasyonlarının özellikleri verilmiştir. Buna göre, bu farklılıkların oluşmasının ortak sebebini kısaca yazınız.	
Tam Doğru	10 Puan	GEREKÇE: Aşağıdaki kelimelerden sırasıyla tamamını yazarsa; Yağış ve sıcak koşullarının her zaman yeterli olmaması
Kısmi-1	5 Puan	GEREKÇE: Bir tanesini yazarsa; Yağış
Yanlış veya Boş	0 Puan	Öğrenci soruyu boş bırakmış veya yanlış cevaplamıştır.

<div>ALİ PURTAŞ</div> <div>COĞRAFYA ÖĞRETMENİ</div> <div></div>					Öğrencinin	Adı					SENARYO 6	
						Soyadı					C10.1.9	1
						Şube	Numarası	PUANI		C10.1.10	1	
										C10.1.16	1	
C1	C2	C3	C4	C5	C6			Toplam	SAYI	C10.1.12	1	
20	20	20	20	10	10					100	Yazı	C10.1.13
										C10.1.15	1	

SORULAR

1 - 10.1.12. Köyünde çiftçilik yapmaya karar veren Ercan ilk iş olarak tarlasına sebze ekmiştir. Sebzeleri daha çabuk büyüsün diye sürekli sulamıştır.

Sulama sonucunda toprağın A katmanında meydana gelen değişimi kısaca yazınız



2 - 10.1.16. Ülkemizde görülmeyen ot formasyonlarını yazınız.



3 - 10.1.15. Bitkiler dağ yamacı boyunca yukarı doğru geniş yapraklı, karışık, iğne yapraklı ve alpin çayırları olmak üzere kuşaklara ayrılır.

Bunun sebebini kısaca yazınız.



4 - 10.1.10. Ülkemiz akarsularının özelliklerinden 2 tanesini yazınız.



5 - 10.1.9. Kızıldeniz en tuzlu deniz iken baltık denizi tuzluluğu en azdır. Denizlerin tuzluluğunu belirlenmesinde etkili nedenleri yazınız.



6 - 10.1.13. Göllerimizden hangi alanlarda yararlanırsınız, 2 madde yazınız?



ALİ PURTAŞ
COĞRAFYA ÖĞRETMENİ

C1	C2	C3	C4	C5	C6			Toplam
20	20	20	20	10	10			100

DERECELİ PUANLAMA
CEVAP ANAHTARI

SENARYO 6

C10.1.9	1
C10.1.10	1
C10.1.16	1
C10.1.12	1
C10.1.13	1
C10.1.15	1

- 1- 1 - 10.1.12. Köyünde çittçilik yapmaya karar veren Ercan ilk iş olarak tarlasına sebze ekmiştir. Sebzeleri daha çabuk büyüsün diye sürekli sulamıştır. Sulama sonucunda toprağın A katmanında meydana gelen değişimi kısaca yazınız

Tam Doğru	15 Puan	GEREKÇE: Aşağıdaki kelimelerden sırasıyla tamamını yazarsa; A katmanı verimli mineralleri yıkanmayla B katmanına gönderir ve verimsiz olur.
Kısmi-1	5 Puan	GEREKÇE: Bir tanesini yazarsa; Verim kaybeder
Yanlış veya Boş	0 Puan	Öğrenci soruyu boş bırakmış veya yanlış cevaplamıştır.

- 2- 10.1.16. Ülkemizde görülmeyen ot formasyonlarını yazınız.

Tam Doğru	10 Puan	GEREKÇE: Aşağıdaki kelimelerden sırasıyla tamamını yazarsa; savan ve tundra
Kısmi-1	10 Puan	GEREKÇE: Bir tanesini yazarsa; savan
Yanlış veya Boş	0 Puan	Öğrenci soruyu boş bırakmış veya yanlış cevaplamıştır.


- 3- 10.1.15. Bitkiler dağ yamacı boyunca yukarı doğru geniş yapraklı, karışık, iğne yapraklı ve alpin çayırları olmak üzere kuşaklara ayrılır. Bunun sebebini kısaca yazınız.

Tam Doğru	20 Puan	GEREKÇE: Aşağıdaki kelimelerden sırasıyla tamamını yazarsa; Yüksetiye bağlı olarak sıcaklığın azalması
Kısmi-1	10 Puan	GEREKÇE: Bir tanesini yazarsa; Yükselti, sıcaklığın azalması
Yanlış veya Boş	0 Puan	Öğrenci soruyu boş bırakmış veya yanlış cevaplamıştır.

4-	10.1.10. Ülkemiz akarsularının özelliklerinden 2 tanesini yazınız.	
Tam Doğru	20 Puan	GEREKÇE: Aşağıdaki kelimelerden sırasıyla tamamını yazarsa; Boyları kısadır, rejimleri düzensiz, debisi düşük, hızları fazla, enerji potansiyeli fazla
Kısmi-1	10 Puan	GEREKÇE: Bir tanesini yazarsa; Boyları kısadır,
Yanlış veya Boş	0 Puan	Öğrenci soruyu boş bırakmış veya yanlış cevaplamıştır.

5-	10.1.9. Kızıldeniz en tuzlu deniz iken baltık denizi tuzluluğu en azdır. Denizlerin tuzluluğunu belirlenmesinde etkili nedenleri yazınız.	
Tam Doğru	10 Puan	GEREKÇE: Aşağıdaki kelimelerden sırasıyla tamamını yazarsa; Enleme bağlı olarak sıcaklığın kutuplara doğru gidildikçe azalması, güneşin geliş açısının düşmesi
Kısmi-1	5 Puan	GEREKÇE: Bir tanesini yazarsa; Enleme bağlı olarak sıcaklığın kutuplara doğru gidildikçe azalması,
Yanlış veya Boş	0 Puan	Öğrenci soruyu boş bırakmış veya yanlış cevaplamıştır.

6-	10.1.13. Göllerimizden hangi alanlarda yararlanırsınız, 2 madde yazınız?	
Tam Doğru	10 Puan	GEREKÇE: Aşağıdaki kelimelerden sırasıyla tamamını yazarsa; Tuz üretimi, balıkçılık, sportif faaliyetler, enerji üretimi, taşımacılık
Kısmi-1	5 Puan	GEREKÇE: Bir tanesini yazarsa; Tuz üretimi,
Yanlış veya Boş	0 Puan	Öğrenci soruyu boş bırakmış veya yanlış cevaplamıştır.

ALİ PURTAŞ COĞRAFYA ÖĞRETMENİ 						Öğrencinin	Adı				SENARYO 3	
							Soyadı				C11.2.15	2
							Şube	Numarası	PUANI		C11.2.16	1
									SAYI		C11.2.19	1
C1	C2	C3	C4	C5	C6			Toplam			C11.2.17	1
15	20	15	15	15	20			100	Yazı		C11.2.18	1

SORULAR



Ali PURTAŞ
Coğrafya Öğretmeni

1 - 11.2.15. Ülkemizde yaz kuraklığına karşı akarsu, göl ve yer altı sularından sulamalı tarım yapılmasında yararlanılır. Ayrıca akarsular üzerine kurulan barajlar tarımda sulama için büyük önem taşır. Sulama iklimin kurak olmasından dolayı ortaya çıkan verim azalması, nadas bırakımı, dalgalanma gibi olumsuzlukları ortadan kaldırma ya da azaltma görevi görmektedir.

Buna göre, haritadaki alanlardan tarımda sulama ihtiyacı en fazla olan yerlerin adını ve numarasını yazınız.



2 - 11.2.16. Türkiye’de hayvancılık genellikle tarımsal uğraşların yanında ikinci bir gelir kaynağı olarak yapılır. Türkiye’de hayvan sayısının yeterli olmasına rağmen hayvancılığın modern yöntemlerle yapılmaması et ve süt üretiminin düşük olmasına yol açmıştır. Ancak ülkemizin doğal ve beşerî şartları hayvancılık faaliyetlerinin gelişmesine imkân tanımaktadır. **Buna göre, haritadaki 8 ile 7 numarayı büyükbaş hayvancılık açısından karşılaştırarak, mera hayvancılığının olumsuz tarafına iki örnek veriniz.**



3 - 11.2.19. Cumhuriyet Dönemi boyunca kalkınma planları ve altyapı yatırımlarıyla Türkiye'nin sanayileşmesi yönünde çalışmalar yapılmıştır. İhracatın %90'dan fazlasını sanayi ürünlerinden gerçekleştiren Türkiye'de sanayi her geçen yıl daha da ileriye gitmektedir. Türkiye, ülkemizin tarımsal üretim ve yer altı kaynaklarını değerlendirerek Türk sanayisinin dünya ile rekabet edebilmesini ve verimliliğinin artırılmasını hedeflemektedir. Bununla birlikte ülkemiz sanayisinin dünya ihracatından daha fazla pay alması, gelir getiren ileri teknoloji ürünlerinin üretilmesi, nitelikli iş gücüne sahip olması amaçlanmaktadır.

Buna göre, 5 ve 6 numaradaki sanayi kolunu yazarak, ülke genelinde yoğun olmasının sebeplerini kısaca belirtiniz.



4 - 11.2.17. Madenler, yer kabuğunda kayaç tabakaları arasında veya içinde genellikle bileşikler hâlinde bulunur. Madenler; madenin türü belirlenip, miktarı hesaplanıp, işletme koşulları gözden geçirilerek işletilir. Madencilik faaliyetini öncelikle rezerv ve tenör belirler. Maden yatağında henüz çıkarılmamış maden cevherinin toplam miktarına maden rezervi denir. Madenlerin çoğu taş ve toprakla birlikte çıkarılır. Maden cevheriyle karışık hâldeki taş ve toprak miktarı tuvönan olarak adlandırılır. Bir madenden çıkarılan taş ve toprak içindeki maden cevheri oranına ise tenör adı verilir.

Buna göre haritadaki 1 numaraki madeni yazarak, 2 ve 3 numaraya olan ilişkisini kısaca yorumlayınız.



5 - 11.2.15. Organik tarım, modern tarımın çevre ve insan sağlığı üzerindeki olumsuz etkilerine karşı ortaya çıkmıştır. Organik tarımda genetiği ile oynanmamış doğal tohumlar kullanılırken üretimde tarım ilacı ve yapay gübre gibi kimyasal maddeler kullanılmaz. Üretim, kontrollü ve sertifikalı olarak gerçekleşir. Türkiye'de insan sağlığına zarar vermeyen, doğa ile uyumlu organik tarım uygulamaları son yıllarda artış göstermiştir. Ülkemizde Gıda Tarım ve Hayvancılık Bakanlığı kontrolündeki kuruluşlarca organik tarım sertifikası verilmektedir.

Organik tarımı, normal tarımdan ayıran özelliklerini kısaca yazınız.



6 - 11.1.18. Yanda Türkiye'nin 2024 yılı elektrik enerjisi üretiminde doğal kaynakların kullanım oranı verilmiştir.

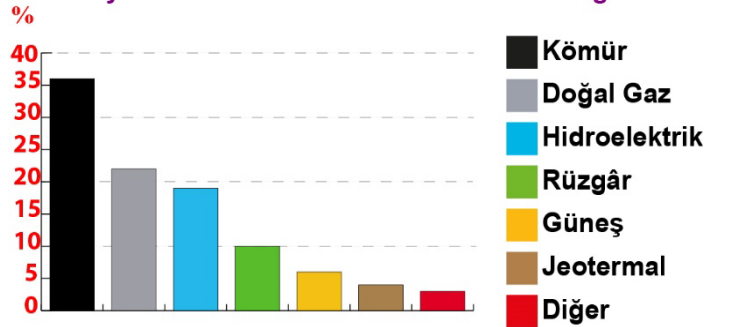
a. Elektrik üretiminde hangi enerji kaynağının kullanımında dışa bağımlılık fazladır?



b. 2024 elektrik üretimi oranı en fazla olan yenilenebilir enerji kaynağımız hangisidir?



Türkiye 2024 Yılı Elektrik Üretimi Oransal Dağılım



ALİ PURTAŞ
COĞRAFYA ÖĞRETMENİ

C1	C2	C3	C4	C5	C6	Toplam
15	20	15	15	15	20	100

DERECELİ PUANLAMA
CEVAP ANAHTARI

SENARYO 3

C11.2.15	2
C11.2.16	1
C11.2.19	1
C11.2.17	1
C11.2.18	1

- 1- C11.2.15. Ülkemizde yaz kuraklığına karşı akarsu, göl ve yer altı sularından sulamalı tarım yapılmasında yararlanılır. Ayrıca akarsular üzerine kurulan barajlar tarımda sulama için büyük önem taşır. Sulama iklimin kurak olmasından dolayı ortaya çıkan verim azalması, nadas bırakımı, dalgalanma gibi olumsuzlukları ortadan kaldırma ya da azaltma görevi görmektedir.
- Buna göre, haritadaki alanlardan tarımda sulama ihtiyacı en fazla olan yerlerin adını ve numarasını yazınız.

Tam Doğru	15 Puan	GEREKÇE: Aşağıdaki kelimelerden sırasıyla tamamını yazarsa; 5 Konya Bölümü; 4 Şanlıurfa veya Güneydoğu Anadolu
Kısmi-1	7,5 Puan	GEREKÇE: Bir tanesini yazarsa;
Yanlış veya Boş	0 Puan	Öğrenci soruyu boş bırakmış veya yanlış cevaplamıştır.

- 2- C11.2.16. Türkiye’de hayvancılık genellikle tarımsal uğraşların yanında ikinci bir gelir kaynağı olarak yapılır. Türkiye’de hayvan sayısının yeterli olmasına rağmen hayvancılığın modern yöntemlerle yapılmaması et ve süt üretiminin düşük olmasına yol açmıştır. Ancak ülkemizin doğal ve beşerî şartları hayvancılık faaliyetlerinin gelişmesine imkân tanımaktadır.
- Buna göre, haritadaki 8 ile 7 numarayı büyükbaş hayvancılık açısından karşılaştırarak, mera hayvancılığının olumsuz tarafına iki örnek veriniz.

Tam Doğru	15 Puan	GEREKÇE: Aşağıdaki kelimelerden sırasıyla tamamını yazarsa; 7de besi, 8de ise mera hayvancılığı yapılır. Mera sorunu var, verim düşük, iklimden etkilenirler.
Kısmi-1	5 Puan	GEREKÇE: Bir tanesini yazarsa; 7de besi,
Yanlış veya Boş	0 Puan	Öğrenci soruyu boş bırakmış veya yanlış cevaplamıştır.


- 3- C11.2.19. Cumhuriyet Dönemi boyunca kalkınma planları ve altyapı yatırımlarıyla Türkiye’nin sanayileşmesi yönünde çalışmalar yapılmıştır. İhracatın %90’dan fazlasını sanayi ürünlerinden gerçekleştiren Türkiye’de sanayi her geçen yıl daha da ileriye gitmektedir. Türkiye, ülkemizin tarımsal üretim ve yer altı kaynaklarını değerlendirerek Türk sanayisinin dünya ile rekabet edebilmesini ve verimliliğinin artırılmasını hedeflemektedir. Bununla birlikte ülkemiz sanayisinin dünya ihracatından daha fazla pay alması, gelir getiren ileri teknoloji ürünlerinin üretilmesi, nitelikli iş gücüne sahip olması amaçlanmaktadır.
- Buna göre, 5 ve 6 numaradaki sanayi kolunu yazarak, ülke genelinde yoğun olmasının sebeplerini kısaca belirtiniz.

Tam Doğru	15 Puan	GEREKÇE: Aşağıdaki kelimelerden sırasıyla tamamını yazarsa; Unlu mamüller sanayisi, tüketim fazla ve iklim şartları uygundur.
Kısmi-1	5 Puan	GEREKÇE: Bir tanesini yazarsa; Unlu mamüller sanayisi,
Yanlış veya Boş	0 Puan	Öğrenci soruyu boş bırakmış veya yanlış cevaplamıştır.

4-	<p>C11.2.17. Madenler, yer kabuğunda kayaç tabakaları arasında veya içinde genellikle bileşikler hâlinde bulunur. Madenler; madenin türü belirlenip, miktarı hesaplanıp, işletme koşulları gözden geçirilerek işletilir. Madencilik faaliyetini öncelikle rezerv ve tenör belirler. Maden yatağında henüz çıkarılmamış maden cevherinin toplam miktarına maden rezervi denir. Madenlerin çoğu taş ve toprakla birlikte çıkarılır. Maden cevheriyle karışık hâldeki taş ve toprak miktarı tuvönan olarak adlandırılır. Bir madenden çıkarılan taş ve toprak içindeki maden cevheri oranına ise tenör adı verilir.</p> <p>Buna göre haritadaki 1 numaraki madeni yazarak, 2 ve 3 numarayla olan ilişkisini kısaca yorumlayınız.</p>	
Tam Doğru	15 Puan	GEREKÇE: Aşağıdaki kelimelerden sırasıyla tamamını yazarsa; Demir madeni, 2'de işlenme sebebi enerji iken 3 numarada ise ulaşım dikkat çeker.
Kısmi-1	5 Puan	GEREKÇE: Bir tanesini yazarsa;
Yanlış veya Boş	0 Puan	Öğrenci soruyu boş bırakmış veya yanlış cevaplamıştır.

5-	<p>C11.2.15. Organik tarım, modern tarımın çevre ve insan sağlığı üzerindeki olumsuz etkilerine karşı ortaya çıkmıştır. Organik tarımda genetiği ile oynanmamış doğal tohumlar kullanılırken üretimde tarım ilacı ve yapay gübre gibi kimyasal maddeler kullanılmaz. Üretim, kontrollü ve sertifikalı olarak gerçekleşir. Türkiye'de insan sağlığına zarar vermeyen, doğa ile uyumlu organik tarım uygulamaları son yıllarda artış göstermiştir. Ülkemizde Gıda Tarım ve Hayvancılık Bakanlığı kontrolündeki kuruluşlarca organik tarım sertifikası verilmektedir.</p> <p>Organik tarımı, normal tarımdan ayıran özelliklerini kısaca yazınız.</p>	
Tam Doğru	15 Puan	GEREKÇE: Aşağıdaki kelimelerden sırasıyla tamamını yazarsa; Kimyasal ilaç kullanılmaması, sertifikalı olması, üretenin belli olması,
Kısmi-1	5 Puan	GEREKÇE: Bir tanesini yazarsa; Kimyasal ilaç kullanılmaması,
Yanlış veya Boş	0 Puan	Öğrenci soruyu boş bırakmış veya yanlış cevaplamıştır.

6-	<p>C11.1.18. Yanda Türkiye'nin 2024 yılı elektrik enerjisi üretiminde doğal kaynakların kullanım oranı verilmiştir.</p> <p>a. Elektrik üretiminde hangi enerji kaynağının kullanımında dışa bağımlılık fazladır? b. 2024 elektrik üretimi oranı en fazla olan yenilenebilir enerji kaynağımız hangisidir?</p>	
Tam Doğru	20 Puan	GEREKÇE: Aşağıdaki kelimelerden sırasıyla tamamını yazarsa; Petrol ve doğal gaz dışa bağımlı; baraj-HES
Kısmi-1	10 Puan	GEREKÇE: Bir tanesini yazarsa; Petrol ; doğal gaz; baraj-HES
Yanlış veya Boş	0 Puan	Öğrenci soruyu boş bırakmış veya yanlış cevaplamıştır.

<div>ALİ PURTAŞ</div> <div>COĞRAFYA ÖĞRETMENİ</div> <div></div>					Öğrencinin	Adı		SENARYO 3				
						Soyadı						
						Şube	Numarası	PUANI			C11.2.15	2
								SAYI		C11.2.16	1	
C1	C2	C3	C4	C5	C6				C11.2.17	1		
20	20	20	20	10	10				C11.2.18	1		
							Toplam					
							100	Yazı				

SORULAR

1 - 11.2.15. Ülkemizde sulama ihtiyacı hangi bölgemizde yoktur, nedenini kısaca yazınız?



2 - 11.2.16. Besi hayvancılığının avantajlarına 2 örnek yazınız.



3 - 11.2.19. Unlu gıda sanayisinin İç Anadolu Bölgesi'nde yoğunlaşmasının sebebini kısaca yazınız.



4 - 11.2.17. Ülkemizde rezervi fazla olan ihra ürünü madenlere 2 örnek yazınız?



5 - 11.2.15. Organik tarımı, normal tarımdan ayıran özelliklerini kısaca yazınız.



6 - 11.2.14. 2024 elektrik üretimi oranı en fazla olan yenilenebilir enerji kaynaklarımıza 2 örnek yazınız.



ALİ PURTAŞ
COĞRAFYA ÖĞRETMENİ

C1	C2	C3	C4	C5	C6			Toplam
20	20	20	20	10	10			100

DERECELİ PUANLAMA
CEVAP ANAHTARI

SENARYO 3

C11.2.15	2
C11.2.16	1
C11.2.19	1
C11.2.17	1
C11.2.18	1

1- 11.2.15. Ülkemizde sulama ihtiyacı hangi bölgemizde yoktur, nedenini kısaca yazınız?

Tam Doğru	20 Puan	GEREKÇE: Aşağıdaki kelimelerden sırasıyla tamamını yazarsa; Karadeniz Bölgesinde ihtiyaç yoktur, çünkü yıl boyu yeterli yağış vardır.
Kısmi-1	10 Puan	Karadeniz Bölgesinde
Yanlış veya Boş	0 Puan	Öğrenci soruyu boş bırakmış veya yanlış cevaplamıştır.

2- C11.2.16. Besi hayvancılığının avantajlarına 2 örnek yazınız.

Tam Doğru	20 Puan	GEREKÇE: Aşağıdaki kelimelerden sırasıyla tamamını yazarsa; Verimi yüksek, Doğal ortamdan etkilenmez, Yer seçiminde esnektir,
Kısmi-1	10 Puan	GEREKÇE: Bir tanesini yazarsa; Verimi yüksek,
Yanlış veya Boş	0 Puan	Öğrenci soruyu boş bırakmış veya yanlış cevaplamıştır.


3- C11.2.19. Unlu gıda sanayisinin İç Anadolu Bölgesi'nde yoğunlaşmasının sebebini kısaca yazınız.

Tam Doğru	20 Puan	GEREKÇE: Aşağıdaki kelimelerden sırasıyla tamamını yazarsa; Hammaddesinin burada yoğun olması veya fazla olması,
Kısmi-1	5 Puan	GEREKÇE: Bir tanesini yazarsa; Hammadde
Yanlış veya Boş	0 Puan	Öğrenci soruyu boş bırakmış veya yanlış cevaplamıştır.

4-	C11.2.17. Ülkemizde rezervi fazla olan ihraç ürünü madenlere 2 örnek yazınız.	
Tam Doğru	20 Puan	GEREKÇE: Aşağıdaki kelimelerden sırasıyla tamamını yazarsa; Bor, Krom, Bakır, Mermer
Kısmi-1	10 Puan	GEREKÇE: Bir tanesini yazarsa; Bor,
Yanlış veya Boş	0 Puan	Öğrenci soruyu boş bırakmış veya yanlış cevaplamıştır.

5-	C11.2.15. Organik tarımı, normal tarımdan ayıran özelliklerini kısaca yazınız.	
Tam Doğru	10 Puan	GEREKÇE: Aşağıdaki kelimelerden sırasıyla tamamını yazarsa; Kimyasal ilaç kullanılmaması, sertifikalı olması, üretenin belli olması,
Kısmi-1	5 Puan	GEREKÇE: Bir tanesini yazarsa; Kimyasal ilaç kullanılmaması,
Yanlış veya Boş	0 Puan	Öğrenci soruyu boş bırakmış veya yanlış cevaplamıştır.

6-	C11.2.14. 2024 elektrik üretimi oranı en fazla olan yenilenebilir enerji kaynaklarımıza 2 örnek yazınız.	
Tam Doğru	10 Puan	GEREKÇE: Aşağıdaki kelimelerden sırasıyla tamamını yazarsa; Barajlar-HES, Rüzgar RES,
Kısmi-1	5 Puan	GEREKÇE: Bir tanesini yazarsa; Barajlar-HES,
Yanlış veya Boş	0 Puan	Öğrenci soruyu boş bırakmış veya yanlış cevaplamıştır.

ALİ PURTAŞ COĞRAFYA ÖĞRETMENİ 						Öğrencinin	Adı				SENARYO 1	
							Soyadı				C.12.2.15	1
							Şube	Numarası	PUANI		C.12.2.16	1
									Sayı		C.12.2.14	1
C1	C2	C3	C4	C5	C6			Toplam			C.12.3.1	2
15	20	15	25	10	15			100			C.12.3.4	1
									Yazı			

SORULAR

Ali PURTAŞ
Coğrafya Öğretmeni

1 - 12.2.15. Ülkelerin sahip olduğu nadir doğal ve kültürel varlıklar Dünya Kültür Mirası Listesi'ne alınmaktadır. Bu listeye girecek değerler belirlenirken, doğal özelliklerin yanında, kültürel varlıklar da dikkate alınmaktadır. Türkiye'de, bu listede bulunan çok sayıda eser ve alan bulunmaktadır.

Buna göre, yukarıdaki haritadan Türk kültürünün izini taşıyan yerleri belirterek 1 tanesinin adını belirtiniz.



2 - 12.2.16. Türkiye Haritasından faydalanılarak 1 numaranın turizm potansiyelini yazarak ,sebebinin kısaca açıklayınız.



3 - 12.2.14. Nevşehir-Göreme Antik Kenti ve Denizli-Pamukkale traverteni – Hierrapolis miras alanlarını haritada göstererek ortak özelliğini kısaca yazınız.





4 - 12.3.1. İnsanlar tarafından açılan, gemilerin geçişine elverişli su yolları kanal olarak adlandırılır. Kanallar bağlantılı oldukları kıtaların, denizlerin ve okyanusların konumsal öneminin artmasını sağlamıştır. Dünya ticareti içinde önem arz etmektedir. Haritada bir şirketin ticaret yaptığı denizyolu güzergahı verilmiştir. Buna göre Estonya'nın Tallin limanından çıkan kuru yük gemisi, Çin'in Şangay limanına geldiğinde sırasıyla hangi boğaz ve kanalları kullanmış olur?



5 - 12.3.1. Jeopolitik, sözlük içerisinde coğrafi konuma bağlı olarak devletlerin birbirleri ile olan iletişimlerini olarak bilinmektedir. Jeopolitik konum devletlerin bulundukları yer anlamına gelmektedir. Siyasi alanda en güçlü bilim dallarından biri olarak aktarılmaktadır. Ümit burnu yolunun keşfedilmesiyle tarihi ipek yolu önemini kaybetmiştir. Panama kanalının açılmasıyla Macellan Boğazı çevresindeki ülkelerin önemi azalırken, Orta Amerika ülkeleri önemli hale gelmiştir. Buna göre yukarıdaki paragraftan çıkarılabilecek en kapsamlı yargıyı kısaca yazınız.



6 - 12.3.4. Ülkemiz gerek bulunduğu konum gerekse de Dünya siyasetine yön verme potansiyeli bulunmasından dolayı sürekli çevresinde sorunlar meydana gelmektedir. Bu sorunların bazıları doğrudan bazıları da dolaylı olarak bizi ilgilendirmektedir.

Buna göre ülkemizi ilgilendiren sorunlardan 1 dolaylı olana, 2 tane de doğrudan olana örnek veriniz.



ALİ PURTAŞ COĞRAFYA ÖĞRETMENİ 	C1	C2	C3	C4	C5	C6			Toplam	SENARYO 1	
	15	20	15	25	10	15			100	C.12.2.15	1
	DERECELİ PUANLAMA CEVAP ANAHTARI									C.12.2.16	1
										C.12.2.14	1
										C.12.3.1	2
										C.12.3.4	1

1-	1 - 12.2.15. Ülkelerin sahip olduğu nadir doğal ve kültürel varlıklar Dünya Kültür Mirası Listesi'ne alınmaktadır. Bu listeye girecek değerler belirlenirken, doğal özelliklerin yanında, kültürel varlıklar da dikkate alınmaktadır. Türkiye'de, bu listede bulunan çok sayıda eser ve alan bulunmaktadır. Buna göre, yukarıdaki haritadan Türk kültürünün izini taşıyan yerleri belirterek 1 tanesinin adını belirtiniz.		
Tam Doğru	15 Puan	GEREKÇE: Aşağıdaki kelimelerden sırasıyla tamamını yazarsa; 2-Karabük Safranbolu, 4-Sivas Ulu Cami, 6-Çifte minareli medrese	
Kısmi-1	5 Puan	GEREKÇE: Bir tanesini yazarsa; 2 yazarsa 5 puan, Karabük Safranbolu yazarsa 10 Puan	
Yanlış veya Boş	0 Puan	Öğrenci soruyu boş bırakmış veya yanlış cevaplamıştır.	


2-	12.2.16. Türkiye Haritasından faydalanılarak 1 numaranın turizm potansiyelini yazarak , sebebini kısaca açıklayınız.		
Tam Doğru	20 Puan	GEREKÇE: Aşağıdaki kelimelerden sırasıyla tamamını yazarsa; Dağcılık, mağara turizmi, dağlık ve engebeli olduğu için	
Kısmi-1	5 Puan	GEREKÇE: Bir tanesini yazarsa; Dağcılık, mağara turizmi, dağlık ve engebeli	
Yanlış veya Boş	0 Puan	Öğrenci soruyu boş bırakmış veya yanlış cevaplamıştır.	

3-	12.2.14. Nevşehir-Göreme Antik Kenti ve Denizli-Pamukkale traverteni – Hierrapolis miras alanlarını haritada göstererek ortak özelliğini kısaca yazınız.		
Tam Doğru	15 Puan	GEREKÇE: Aşağıdaki kelimelerden sırasıyla tamamını yazarsa; 3 numara, hem kültürel hem de doğal miras alanlarımızdır.	
Kısmi-1	5 Puan	GEREKÇE: Bir tanesini yazarsa; 3 numara,	
Yanlış veya Boş	0 Puan	Öğrenci soruyu boş bırakmış veya yanlış cevaplamıştır.	

4-	<p>12.3.1. İnsanlar tarafından açılan, gemilerin geçişine elverişli su yolları kanal olarak adlandırılır. Kanallar bağlantılı oldukları kıtaların, denizlerin ve okyanusların konumsal öneminin artmasını sağlamıştır. Dünya ticareti içinde önem arz etmektedir. Haritada bir şirketin ticaret yaptığı denizyolu güzergahı verilmiştir.</p> <p>Buna göre Estonya'nın Tallin limanından çıkan kuru yük gemisi, Çin'in Şangay limanına geldiğinde sırasıyla hangi boğaz ve kanalları kullanmış olur?</p>	
Tam Doğru	25 Puan	<p>GEREKÇE: Aşağıdaki kelimelerden sırasıyla tamamını yazarsa;</p> <p>kiel kanalı, cebelitarık boğazı, süveyş kanalı, babülmendap boğazı, malakka boğazı</p>
Kısmi-1	5 Puan	<p>GEREKÇE: Bir tanesini yazarsa;</p> <p>kiel kanalı,</p>
Yanlış veya Boş	0 Puan	Öğrenci soruyu boş bırakmış veya yanlış cevaplamıştır.

5-	<p>12.3.1. Jeopolitik, sözlük içerisinde coğrafi konuma bağlı olarak devletlerin birbirleri ile olan iletişimleri olarak bilinmektedir. Jeopolitik konum devletlerin bulundukları yer anlamına gelmektedir. Siyasi alanda en güçlü bilim dallarından biri olarak aktarılmaktadır. Ümit burnu yolunun keşfedilmesiyle tarihi ipek yolu önemini kaybetmiştir. Panama kanalının açılmasıyla Macellan Bogazı çevresindeki ülkelerin önemi azalırken, Orta Amerika ülkeleri önemli hale gelmiştir.</p> <p>Buna göre yukarıdaki paragraftan çıkarılabilecek en kapsamlı yargıyı kısaca yazınız.</p>	
Tam Doğru	15 Puan	<p>GEREKÇE: Aşağıdaki kelimelerden sırasıyla tamamını yazarsa;</p> <p>Bölgelerin jeopolitik önemi zamanla değişebileceğini anlatmaktadır.</p>
Kısmi-1	5 Puan	<p>GEREKÇE: Bir tanesini yazarsa;</p>
Yanlış veya Boş	0 Puan	Öğrenci soruyu boş bırakmış veya yanlış cevaplamıştır.

6-	<p>C.12.3.4. Ülkemiz gerek bulunduğu konum gerekse de Dünya siyasetine yön verme potansiyeli bulunmasından dolayı sürekli çevresinde sorunlar meydana gelmektedir. Bu sorunların bazıları doğrudan bazıları da dolaylı olarak bizi ilgilendirmektedir.</p> <p>Buna göre ülkemizi ilgilendiren sorunlardan 1 dolaylı olana, 2 tane de doğrudan olana örnek veriniz.</p>	
Tam Doğru	15 Puan	<p>GEREKÇE: Aşağıdaki kelimelerden sırasıyla tamamını yazarsa;</p> <p>Filistin, Kosova, Karabağ, Adalar, Kıbrıs, Musul-Kerkük,</p>
Kısmi-1	5 Puan	<p>GEREKÇE: Bir tanesini yazarsa;</p> <p>Filistin,</p>
Yanlış veya Boş	0 Puan	Öğrenci soruyu boş bırakmış veya yanlış cevaplamıştır.

<div>ALİ PURTAŞ</div> <div>COĞRAFYA ÖĞRETMENİ</div> <div></div>					Öğrencinin	Adı					SENARYO 1		
						Soyadı					C.12.2.15	1	
						Şube		Numarası	Puanı		C.12.2.16	1	
									Sayı		C.12.2.14	1	
											C.12.3.1	2	
C1	C2	C3	C4	C5	C6			Toplam	Yazı			C.12.3.4	1
15	20	15	25	10	15			100					

SORULAR

1 - C12.2.15. Nevşehir-Göreme Antik Kenti ve Denizli-Pamukkale traverteni – Hierrapolis miras alanlarının ortak özelliğini kısaca yazınız.



2 - C12.2.16. İstanbul'un turizm potansiyeline 2 örnek yazınız.



3 - C.12.3.4. Anadoludaki Türk kültürünü oluşturan eserlerden 2 tane yazınız.



4 - C.12.3.4. Panama kanalıyla ve Süveyşle önemini kaybeden su yollarının adını yazınız.



5 - C.12.3.1. Jeopolitikte değişmeyen doğal unudrlara 2 örnek yazınız.



6 - C12.3.4. Ülkemizi ilgilendiren sorunlardan 1 dolaylı olana, 1 tane de doğrudan olana örnek veriniz.



ALİ PURTAŞ
COĞRAFYA ÖĞRETMENİ

C1	C2	C3	C4	C5	C6			Toplam
15	20	15	20	10	20			100

DERECELİ PUANLAMA
CEVAP ANAHTARI

SENARYO 1

C.12.2.15	1
C.12.2.16	1
C.12.2.14	1
C.12.3.1	2
C.12.3.4	1

1- C12.2.15. Nevşehir-Göreme Antik Kenti ve Denizli-Pamukkale traverteni – Hierrapolis miras alanlarının ortak özelliğini kısaca yazınız.

Tam Doğru

15
Puan

GEREKÇE: Aşağıdaki kelimelerden sırasıyla tamamını yazarsa;
hem kültürel hem de doğal miras alanlarımızdır.

Kısmi-1

5
Puan

GEREKÇE: Bir tanesini yazarsa;
hem kültürel,

Yanlış veya
Boş

0 Puan

Öğrenci soruyu boş bırakmış veya yanlış cevaplamıştır.

2- C12.2.16. İstanbul'un turizm potansiyeline 2 örnek yazınız.

Tam Doğru

15
Puan

GEREKÇE: Aşağıdaki kelimelerden sırasıyla tamamını yazarsa;
Kongre turizmi, Plaj turizmi, Kültür Turizmi, Sportif turizm,

Kısmi-1

5
Puan

GEREKÇE: Bir tanesini yazarsa;
Kongre turizmi,

Yanlış veya
Boş

0 Puan

Öğrenci soruyu boş bırakmış veya yanlış cevaplamıştır.

3- C12.3.4. Anadoludaki Türk kültürünü oluşturan eserlerden 3 tane yazınız.

Tam Doğru

15
Puan

GEREKÇE: Aşağıdaki kelimelerden sırasıyla tamamını yazarsa;
Divriği Ulu Cami, Erzurum Çifte Minareli Cami, İshakpaşa Sarayı,

Kısmi-1

5
Puan

GEREKÇE: Bir tanesini yazarsa;
Divriği Ulu Cami,

Yanlış veya
Boş

0 Puan

Öğrenci soruyu boş bırakmış veya yanlış cevaplamıştır.

4-	C.12.3.4. Panama kanalıyla ve Süveyşle önemini kaybeden su yollarının adını yazınız.	
Tam Doğru	20 Puan	GEREKÇE: Aşağıdaki kelimelerden sırasıyla tamamını yazarsa; Panama ile Macellan Boğazı, Süveyş ile Ümit Burnu
Kısmi-1	10 Puan	GEREKÇE: Bir tanesini yazarsa; Panama ile Macellan Boğazı,
Yanlış veya Boş	0 Puan	Öğrenci soruyu boş bırakmış veya yanlış cevaplamıştır.

5-	C.12.3.1. Jeopolitikte değişmeyen doğal unsurlara 2 örnek yazınız.	
Tam Doğru	20 Puan	GEREKÇE: Aşağıdaki kelimelerden sırasıyla tamamını yazarsa; İklim çeşitliliği, coğrafi konum, doğal kaynakları, su kaynakları
Kısmi-1	10 Puan	GEREKÇE: Bir tanesini yazarsa; İklim çeşitliliği,
Yanlış veya Boş	0 Puan	Öğrenci soruyu boş bırakmış veya yanlış cevaplamıştır.

6-	C12.3.4. Ülkemizi ilgilendiren sorunlardan 1 dolaylı olana, 1 tane de doğrudan olana örnek veriniz.	
Tam Doğru	20 Puan	GEREKÇE: Aşağıdaki kelimelerden sırasıyla tamamını yazarsa; Filistin, Kosova, Karabağ, Adalar, Kıbrıs, Musul-Kerkük,
Kısmi-1	10 Puan	GEREKÇE: Bir tanesini yazarsa; Filistin,
Yanlış veya Boş	0 Puan	Öğrenci soruyu boş bırakmış veya yanlış cevaplamıştır.