

# PARALARIMIZI KARŞILAŞTIRALIM

1

Küçükten Büyüğe Doğru Paralarımız

1. 1 Kuruş

2. 5 Kuruş

3. 10 Kuruş

4. 25 Kuruş

5. 50 Kuruş

6. 1 Lira

7. 5 Lira

8. 10 Lira

9. 20 Lira

10. 50 Lira

11. 100 Lira

12. 200 Lira

Hangi kutudaki paraların değeri en azdır?

10 Lira 50 Lira  
5 Lira 1 Lira

5 Lira 20 Lira  
1 Lira 1 Lira

Hangi kutudaki paraların değeri en fazladır?

50 Lira 5 Lira  
50 Kuruş

10 Lira 10 Lira  
10 Lira 5 Lira

Hangi kutudaki para ile 35 liralık alışveriş yapabiliriz?

5 Lira 20 Lira  
1 Lira 10 Lira

1 Lira 10 Lira  
10 Lira 10 Lira



✿ Aşağıdaki çocuklar biriktirdikleri paraları söylemişlerdir. Çocukların söylediklerine göre doğru ifadelere **D**, yanlış ifadelere **Y** yazalım.



Meral

47 lira



Mustafa

58 lira



Evrım

75 lira



Ali

62 lira

- ☐ En fazla parası olan çocuk Ali'dir.
- ☐ En az parası olan çocuk Meral'dir.
- ☐ Mustafa'nın parası 60 liradan azdır.
- ☐ Evrim'in parası 80 liradan fazladır.
- ☐ Meral'in parasının 3 lira fazlası 50 lira olur.
- ☐ Ali'nin parasının 12 lira eksigi 50 lira olur.
- ☐ Mustafa'nın parasının 2 lira fazlası 70 lira olur.
- ☐ Evrim'in parası 90 liradan azdır.
- ☐ Meral'in parası 50 liradan fazladır.



3.  
✿ Aşağıdaki ifadeleri fazladır, azdır  
sözcüklerinden uygun olanı ile tamamlayalım.

- ♥ 10 lira, 1 liradan \_\_\_\_\_
- ♥ 50 kuruş, 4 tane 25 kuruştan \_\_\_\_\_
- ♥ 3 tane 10 lira, 50 liradan \_\_\_\_\_
- ♥ 7 tane 5 lira, 20 liradan \_\_\_\_\_
- ♥ 20 lira, 3 tane 5 liradan \_\_\_\_\_
- ♥ 2 tane 20 lira, 50 liradan \_\_\_\_\_
- ♥ 5 lira, 2 tane 1 liradan \_\_\_\_\_
- ♥ 5 tane 10 kuruş, 25 kuruştan \_\_\_\_\_
- ♥ 4 tane 10 lira, 20 liradan \_\_\_\_\_
- ♥ 50 lira, 7 tane 10 liradan \_\_\_\_\_

✿ Aşağıda verilen ürünlerin fiyatlarını  
hesaplayarak büyükten küçüğe sıralayalım.

Eldiven → 1 tane 10 lira + 1 tane 5 lira  
Bere → 2 tane 10 lira + 2 tane 1 lira  
Atkı → 3 tane 5 lira + 3 tane 1 lira  
1- 2- 3-

Elma → 2 tane 5 lira + 3 tane 1 lira  
Armut → 4 tane 5 lira  
Portakal → 3 tane 10 lira + 2 tane 50 kuruş  
1- 2- 3-

Peynir → 5 tane 10 lira + 2 tane 5 lira  
Zeytin → 4 tane 5 lira + 1 tane 10 lira  
Bal → 2 tane 20 lira + 5 tane 5 lira  
1- 2- 3-



# PARALARIMIZLA İLGİLİ PROBLEMLER

4.



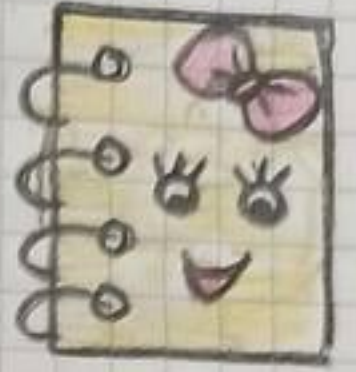
Kitap  
50 lira



Boya Kalemi  
45 lira



Çanta  
75 lira



Defter  
22 lira

1. Kitap ve defter alan bir kişi kaç lira öder?
2. Boya kalemlerinden 2 tane alan kişi kaç lira öder?
3. Çanta ve defter alan bir kişi kaç lira öder?
4. Defter alan bir kişi satıcıya 50 lira verirse kaç lira para üstü alır?
5. Kitabın fiyatı çantanın fiyatından kaç lira azdır?
6. Boya kalemi ve kitap alan bir kişi kaç lira öder?
7. Defterden 3 tane alan kişi kaç lira öder?



8- Asmin kumbarasına her gün 5 lira atarsa 5 günde kaç lirası olur?

9- Alperen'in cüzdanında 2 tane 10 lira, 3 tane 5 lira vardır. Buna göre Alperen'in kaç lirası vardır?

10- Zeynep tanesi 1 lira olan balonlardan 7 tane alıp satıcıya 20 lira vermiştir. Zeynep kaç lira para üstü alır?

11- Nusrettin'in parası ablasının parasından 6 lira eksiktir. Nusrettin'in 20 lirası olduğuna göre ikisinin paraları toplamı kaçtır?

12- Umut 80 lira parasının önce 25 lirasını, sonra 17 lirasını harcıyor. Umut'un kaç lirası kalmıştır?

13- Tanesi 2 lira olan silgilerden 4 tane alan Ayaz satıcıya 10 lira verirse kaç lira geri alır?

14- 50 lirası olan Ece'nin 78 liralık oyuncacı alabilmesi için kaç liraya ihtiyacı vardır?

15- 4 tane 5 lira ve 2 tane 20 lira toplam kaç lira olur?





6.

16. İrmak bir etek aldığı anda satıcıya 1 tane 50 lira, 2 tane 10 lira ve 1 tane 5 lira veriyor. Buna göre etek kaç liradır?

17. Fatma 15 liralık pirinç, 18 liralık bulgur ve 26 liralık mercimek alırsa kaç lira öder?

18. Nezir tanesi 3 lira olan simitlerden 9 tane alıyor. Satıcıya 50 lira verirse kaç lira para üstü alır?

19. Tanesi 8 lira olan toplardan 4 tane almak isteyen Fatih'in 25 lirası vardır. Kaç lirası daha olursa topları alabilir?

20. Rabia'nın 7 lirası vardır. Ablasının ise Rabia'nın parasının 3 katı kadardır. Buna göre ikisinin paraları toplamı kaçtır?

21. Hira'nın 20 lirası vardır. Parasının çeyreğini harcarsa Hira'nın kaç lirası kalır?

23. 4 tane 10 liranın 5 lira eksikliği kaçtır?




# KELİMELERİN ANLAMINI DEĞİŞTİREN EKLER<sup>1.</sup>

Kelimelerin sonuna gelen bazı ekler kelimelerin anlamını değiştirir. Kelime yeni bir anlam kazanır.

Bu eklerin başlıcaları **-li, -ci, -lik, -siz** ekleridir.

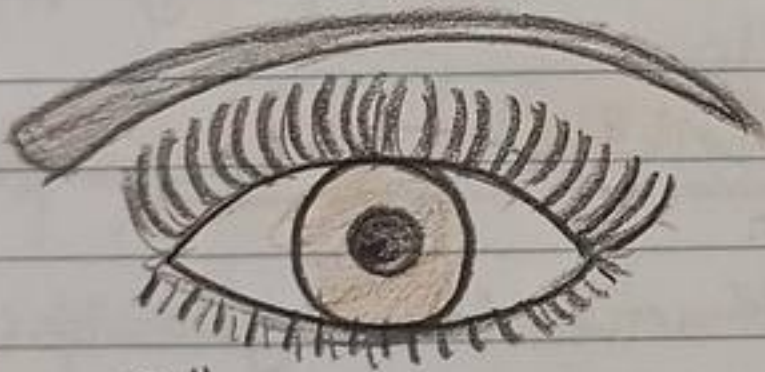
Örnek:



Şeker  
Tatlı bir madde



Şekerlik  
Şeker konulan kap




Göz  
Görme organı



Gözlük  
Göz bozukluğu olanların daha iyi görmesine yarayan araç.



Balık  
Suda yaşayan hayvan



Balıkçı  
Balık tutan ve satan kişi



♥ Kelimelerin anlamını deęiřtiren ekler kelimeye bitişik yazılır.

♥ Kelimelerin anlamını deęiřtiren ekler kelimenin sonunda yer alır.

Örnek:

Kömür → Bir yakıt çeşidi.  
 Kömürcü → Kömür satan kişi.  
 Kömürlü → Kömür ile çalışan esya  
 Kömürlük → Kömür konulan yer.  
 Kömürsüz → Kömürü olmayan

Örnek

Su → Canlıların yaşaması için gerekli sıvı  
 Sucu → Su satan ya da dağıtan kişi  
 Sulu → Suyu olan  
 Suluk → Su kabı  
 Susuz → Suyu olmayan

♥ Kelimenin anlamını deęiřtiren ekler kelimeye göre deęiřebilir.

- li eki

Yazı → Yazılı  
 Tuz → Tuzlu  
 Yün → Yünlü

- lik eki

Kira → Kiralık  
 Odun → Odunluk  
 Söz → Sözlük

- ci eki

Fal → Falci  
 Süt → Sütçü  
 Simit → Simitçi

- siz eki

Hak → Haksız  
 Görgü → Görgüsüz  
 Uyku → Uykusuz



## ÇALIŞMA SAYFASI

1- Aşağıdaki kelimelerin sonuna **-li** eki getirerek yeni kelimeler oluşturalım.

- |           |           |
|-----------|-----------|
| • muz →   | • kıyma → |
| • bal →   | • pil →   |
| • çiçek → | • üzüm →  |
| • ayna →  | • toz →   |
| • düğme → | • sabır → |

2- Aşağıdaki kelimelerin sonuna **-lik** eki getirerek yeni kelimeler oluşturalım.

- |           |            |
|-----------|------------|
| • temiz → | • dost →   |
| • ucuz →  | • sinek →  |
| • hasta → | • güneş →  |
| • kalem → | • yaz →    |
| • sabun → | • yağmur → |

3- Aşağıdaki kelimelerin sonuna **-ci** eki getirerek yeni kelimeler oluşturalım.

- |           |            |
|-----------|------------|
| • kale →  | • gazete → |
| • oyun →  | • kapı →   |
| • yol →   | • diş →    |
| • halı →  | • çay →    |
| • balon → | • çöp →    |

4- Aşağıdaki kelimelerin sonuna **-siz** eki getirerek yeni kelimeler oluşturalım.

- |             |         |
|-------------|---------|
| • iş →      | • ağaç  |
| • tat →     | • ses   |
| • son →     | • para  |
| • haber →   | • şeker |
| • yetenek → | • tuz   |



# ÜRETİM FAALİYETLERİMİZ

İnsanların ihtiyaç duydukları mal ve hizmetleri meydana getirmeye üretim faaliyeti denir. Bu faaliyetler topraktan, hayvan ve bitkilerden elde edilir.

Üretimin amacı insanların ihtiyaçlarını karşılamaktır.

## Baslıca Üretim Faaliyetlerimiz

Tarım

Hayvancılık

Sanayi

### 1. Tarım



Toprağı ekip, birerel ürün elde etmektir. Buğday, mısır, arpa, meyve, sebze gibi pek çok bitkisel ürünün yetiştirilmesi tarım alanındaki üretim faaliyetidir.

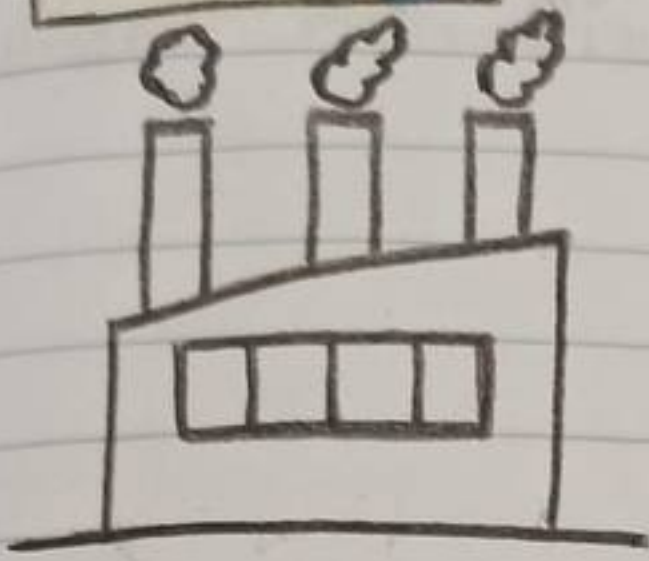
### 2. Hayvancılık



Hayvansal gıdaların ve ürünlerin elde edilmesi için yapılan hayvan yetiştiriciliğidir. Hayvan besleme, hayvan yetiştirme, hayvansal ürünler elde etme hayvancılık alanındaki üretimdir.




### 3. Sanayi



Ham maddeleri fabrika-  
larda işleyerek ürün elde  
etmektir.

Tekstil, mobilya, ilaç gibi  
pek çok ürünün elde  
edildiği fabrikalar sanayi  
faaliyetlerini oluşturur.

### Örnek Tarım Faaliyeti



Ekmeğin bize ulaşım  
aşamaları şöyledir;

1. Çiftçi tarlada buğdayı  
yetiştiriyor.

2. Buğdaylar fabrikaya satılıyor.

3. Buğday fabrikada un oluyor.

4. Un fırınlarda ekmek haline dönüşüyor.

5. Ekmekler nakliye araçlarıyla market-  
lere gönderiliyor.

6. Bizler marketten ekmekleri satın  
alıyoruz.

**NOT**

Ürünler işlenerek yeni ürünler  
elde edilir.

Örnek


Domates işlenerek salça  
Portakal işlenerek meyve suyu  
Pamuk işlenerek havlu ya-

pılabilir.

♥ Bazı ürünler ve faaliyet alanları

- Peynir → Hayvancılık
- Kalem → Sanayi
- Yoğurt → Hayvancılık
- Buğday → Tarım
- Bal → Hayvancılık
- Mobilya → Sanayi
- Patates → Tarım





1. Aşağıdaki ürünlerin üretim alanlarını karşılarına yazalım.

Yumurta →  
Buzdolabı →  
Süt →  
Domates →  
Elbise →  
Kiraz →  
Araba →  
Yoğurt →  
Mısır →

2. Aşağıdakilerden hangisi tarımla ilgilidir?  
A) Sebzeçilik B) Balıkçılık C) Mobilya

3. Aşağıdakilerden hangisi hayvancılıkla ilgilidir?  
A) Tekstil B) Arıcılık C) Seracılık

4. Aşağıdakilerden hangisi sanayi ile ilgilidir?  
A) Meyvecilik B) Kümes hayvancılığı C) Bakır

5. Arıcılık Sebzecilik  
Seracılık Madencilik  
Balıkçılık Meyvecilik  
Yukarıdakilerden kaç tanesi hayvancılıkla ilgilidir?  
A) 1 B) 2 C) 3

6. Bulduğum yerde arıcılık yapılmaktadır. Bunun yanında tekstil fabrikaları da vardır. Buna göre yapılan üretim faaliyetleri hangileridir?

A) Tarım ve hayvancılık  
B) Sanayi ve hayvancılık  
C) Tarım ve sanayi